

勞動部勞動力發展署高屏澎東分署
110 年度第 1 梯次職前訓練招訓甄試試題

【適用職類：行動商務系統設計與開發】

座位號碼：_____


姓 名：_____

◎親愛的考生，您好

為瞭解職業訓練訊息露出管道效益，請您撥冗勾選由何種管道得知本次招訓訊息(可複選)：☐親友同學介紹☐曾經參加職業訓練
☐台灣就業通網站☐本分署網站☐其他政府機關網站：_____
☐入口網站(如 Google、Yahoo)關鍵字搜尋☐賈薈妮 FB☐招生海
報☐報紙☐廣播☐招生布條☐高捷車廂廣告☐校園宣導☐其它：_

選擇題：100 分每題 2 分，共 50 題單選題。(答錯不倒扣)

(1) 1.



圖形類比測驗。

(1)



(2)



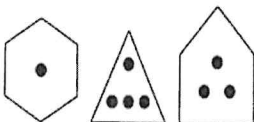
(3)



(4)

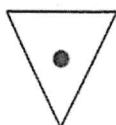


(3) 2.

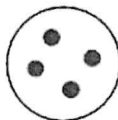


圖形類比測驗。

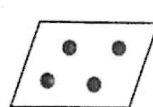
(1)



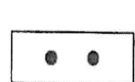
(2)



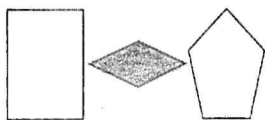
(3)



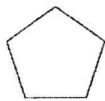
(4)



(2) 3. 圖形類比測驗。



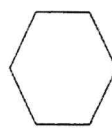
(1)




(2)



(3)

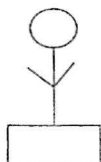


(4)




(1) 4. 圖形刪異測驗。

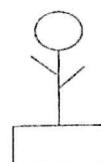
(1)




(2)



(3)



(4)



(2) 5. 圖形刪異測驗。

(1)



(2)



(3)



(4)



(2) 6. 圖形刪異測驗。

(1)



(2)



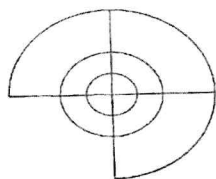
(3)



(4)



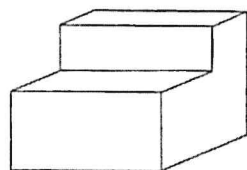
(2) 7.



左圖中，共有幾個半圓形？

(1)12(2)10(3)8(4)6 個。

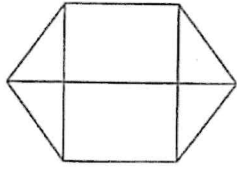
(2) 8.



左圖中，共有幾個面？

(1)7(2)8(3)9(4)11 個。

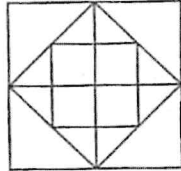
(4) 9.



左圖中，共有幾個梯形？

(1)8(2)2(3)4(4)6 個。

(1) 10.



左圖中，共有幾個正方形？

(1)11(2)12(3)13(4)14 個。

(3) 11. 「世界上的事物沒有完美無缺的，所以對別人的缺失，不要惡意批評。」「完美無缺」可換為

(1)瑕不掩瑜(2)不虞匱乏(3)盡善盡美(4)完璧歸趙。

(3) 12. 李清照的〈聲聲慢〉(詞)的首句是「尋尋覓覓」，請問接下去的兩句是什麼？

(1)清冷冷冷，戚戚慘慘悽悽(2)清冷冷清，慘戚戚慘悽悽(3)冷冷清清，悽悽慘慘戚戚(4)冷清冷清，悽悽戚戚慘慘。

(3) 13. 傲霜鬥雪

(1)天氣變壞的意思(2)形容雪下得很大的樣子(3)指不為嚴寒的霜雪所屈服(4)冷酷的樣子。

(2) 14. 請選出所列舉詞語的共同性質：蚊子、蒼蠅、蟑螂、老鼠

(1)昆蟲(2)病媒(3)寵物(4)家禽。

(4) 15. 請選出不屬於同一類型者。

(1)疏(2)濬(3)導(4)堵。

(3) 16. 他雕刻的技術，已經到了

(1)點石成金(2)輕鬆自如(3)爐火純青(4)綽綽有餘 的境界了。

- (2)17. 對整個文學界來說，他可是個中的「翹楚」。
(1)自命不凡的人(2)特出的人才(3)砍伐樹木的人(4)霸氣很重。
- (1)18. 下列四組詞語，何組「有」錯別字？
(1)金屋藏驕(2)執法如山(3)環肥燕瘦(4)馬上琵琶。
- (3)19. 下列有關俗語、歇後語，配對錯誤的選項是：
(1)瞎子吃水餃——心裡有數(2)豬八戒照鏡子——裡外不是人
(3)狗掀門簾子——有力使不上(4)瞎子點燈——白費。
- (2)20. 下列是一節短文，選出『』中的字，讀音完全正確的選項：
「登上峰頂，俯『瞰』四周，天如此寬廣，驚覺自己的渺小，一向桀『驁』不馴的我，慚愧自己無異『埴』井之蛙，內心不禁升起一股愧『赧』之感。」
(1)ㄍㄤˋ / ㄍㄠˊ / ㄊㄧˊ / ㄊㄧˋ (2)ㄍㄤˋ / ㄍㄠˊ / ㄍㄤˋ / ㄍㄠˋ
(3)ㄍㄤˋ / ㄍㄠˊ / ㄊㄧˊ / ㄍㄤˋ (4)ㄍㄤˋ / ㄍㄠˋ / ㄊㄧˊ / ㄍㄠˋ。
-
- (3)21. 稱為「詩餘」又叫「樂府」也叫「長短句」的是
(1)楚辭(2)賦(3)詞(4)曲。
- (4)22. 有關「詩仙」、「詩聖」、「詩佛」的稱號，分別指是唐代哪三位著名的詩人？
(1)李白、王維、王之渙(2)杜甫、李白、王維(3)白居易、杜牧、李白(4)李白、杜甫、王維。
- (2)23. 「青山橫北郭，白水遶□□。此地一為別，孤蓬萬里□。浮雲遊子意，落日故人情。揮手自茲去，蕭蕭班馬鳴。」(李白〈送友人〉)上引《唐詩》，□內應填的字詞，最適當的選項是 (1)揚州、風(2)東城、征(3)西峰、去(4)渡頭、流。
- (2)24. 「空谷足音」是什麼意思？

(1)清幽無比的世外桃源(2)難得的人物與言談(3)人不能遺世獨立，好比空谷仍有足音(4)關起大門與外界隔絕獨立其身。

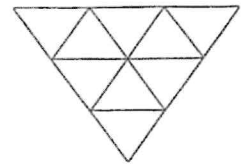
- (4)25. 「如果你要報答父母的恩惠，想有一番成就，這固然很好，但是有一個前提，就是不可以一受到挫折，便心灰意冷，□□□□，否則就無法如願。」上文缺空的詞語宜填入
(1)自我陶醉(2)自知之明(3)自命不凡(4)自甘墮落。

- (3)26. 27，45 的正公因數共有幾個？
(1)1(2)2(3)3(4)4 個。

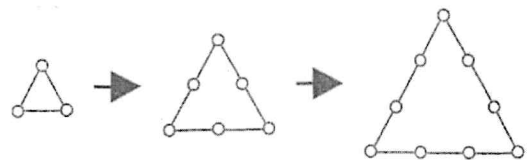
- (1)27. 如三角形面積不變，底邊長度減短 20%，則高應增加幾%？
(1)25%(2)30%(3)36%(4)50% 。

- (3)28. 一元美金可以兌換 32.30 元臺幣，若宗琪有 60000 元臺幣，最多可兌換多少元美金？
(1)1950(2)1887(3)1857(4)1990 元。

- (1)29. 如右圖所示，共有幾個三角形？
(1)13(2)12(3)11(4)10 個。



- (3)30. 用乒乓球排列正三角形如右圖，如果要排成一個邊長為 10 顆乒乓球的正三角形，需要幾顆乒乓球？
(1)21(2)24(3)27(4)30 顆。



- (1)31. 如甲圓面積是乙圓面積的 4 倍，則甲圓周長是乙圓周長的幾倍？
(1)2(2)4(3)6(4)8 倍。

- (2)32. 有甲、乙、丙三位候選人，在某次選舉中共得 154 票。甲與乙的得票數之比為 11:3，乙與丙的得票數之比為 4:7，則得票數最高的甲得幾票？

(1)77(2)88(3)99(4)101 票。

- (4)33. 有一等差數列共有 5 項，其首末兩項和為 80，則中間三項和是多少？

(1)70(2)80(3)110(4)120 。

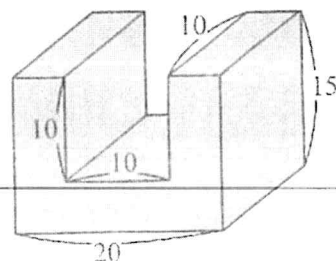
- (4)34. 有一個二位數，其數字和是 9，把它的個位數字與十位數字對調後所得的新數為甲，把原數的十位數字與個位數字分別加 2，所得另一個新數為乙，若乙比甲的 2 倍多 13，則原數是多少？

(1)36(2)45(3)54(4)63 。

- (4)35. 算出右列圖形的體積：(單位：公分)

(1)3000(2)4000(3)5000(4)2000

cm^3 。



- (1)36. 有甲、乙兩人分別自 A、B 兩地同時相向而行，已知甲每小時走 3 公里，乙每小時走 5 公里，當乙走到兩地中點時，與甲恰好相距 6 公里，則甲自 A 地走到 B 地要幾小時？

(1)10(2)6(3)5(4)3 小時。

- (1)37. 以下哪一數不是 1599 的因數？

(1)203(2)123(3)41(4)13 。

- (4)38. 一罐牛奶淨重 1.8 公斤，歡歡寵物店每天餵寵物喝掉一打牛奶，已知店裡共有 30 隻寵物，則平均每隻寵物每天喝掉幾公克的牛奶？

(1)700(2)800(3)900(4)720 公克。

- (2)39. 忠義國小六年一班數學科月考成績平均是 87 分，已知前五名的平均成績為 98.2 分，其餘同學的平均成績是 85 分，問班上有多少個學生？
(1)35(2)33(3)37(4)39 個。
- (3)40. 吳老師有書 55 本，橡皮擦 121 個，筆 99 枝，平分給學生，每人得到的東西都一樣多，問最多可以平分給幾位學生？
(1)9(2)12(3)11(4)13 位。
- (1)41. Ms. Liu usually gives us a lot of homework, _____ she didn't give us any today.
(1) but (2) if (3) or (4) so
- (3)42. Diane had a bad cold last week. She is still too _____ to go mountain climbing with you.
(1) busy (2) short (3) weak (4) young
- (2)43. It almost killed Kevin to take care of his baby sister for one afternoon. He wondered how his mom could do _____ every day.
(1) her (2) it (3) one (4) them
- (4)44. _____ that last piece of pie? If not, can I have it? I didn't eat much this morning.
(1) Had you eaten (2) Were you eating (3) Do you eat (4) Are you going to eat
- (4)45. Tom's voice _____ when he talks about his neighbors. He speaks faster, his face becomes redder and you can almost see fire in his eyes.
(1) appears (2) drops (3) grows (4) rises
- (3)46. Jim always forgets my birthday. He has asked me many times and still can't _____ it.
(1) answer (2) celebrate (3) remember (4) understand
- (3)47. Which of the following is not an audio format extension name?

(1) wav (2) mp3 (3) mp4 (4) wma

Sarah: You're VERY popular today. I've had seventeen calls asking for you.

Mike: Finally! After all these years of kicking and running, I've got my own fans!

So what did they want? My photos? Do I need to sign my name? Are they starting a fan club for me?

Sarah: Well, let me ask you this: What day was yesterday?

Mike: Friday... Why?

Sarah: Did you forget something?

Mike: Did I forget... OH, NO! I didn't pick up my soccer team's sport shirts from the shop! And we're having this big game tomorrow!

Sarah: Yeah. And from what I've heard, it's your team's most important game this season.

Mike: OK. I have to go fix this now.

Sarah: Too late. They've tried. It's not open on the weekend. And if you want to know, they are Johnny, Ricky, Archie, Freddie...

Mike: I know, I know, everyone on my team. Oh, I'm a dead man now.

Sarah: Yeah, that was what they said on the phone, seventeen times.

(1)48.Why were there seventeen calls asking for Mike?

(1) His team was angry at him.

(2) He is a popular soccer player.

(3) He did not show up for the game on Friday.

(4) His name did not appear on the list of players.

(1)49. What does It mean in the dialogue?

(1) The shop. (2) The fan club. (3) The soccer game. (4) The soccer season.

(2)50.What can we learn about Mike?

(1) He is nice to people from his fan club.

(2) He plays soccer with Johnny and Ricky.

(3) He found a way to fix the trouble he made.

(4) He decided not to go to the game on Sunday.