

勞動部勞動力發展署高屏澎東分署
109 年度第 5 梯次職前訓練招訓甄試試題

【適用職類：智慧電子實務應用】

座位號碼：_____

姓 名：_____

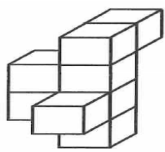
◎親愛的考生，您好

為瞭解職業訓練訊息露出管道效益，請您撥冗勾選由何種管道得知本次招訓訊息(可複選)：親友同學介紹曾經參加職業訓練
台灣就業通網站本分署網站其他政府機關網站：_____

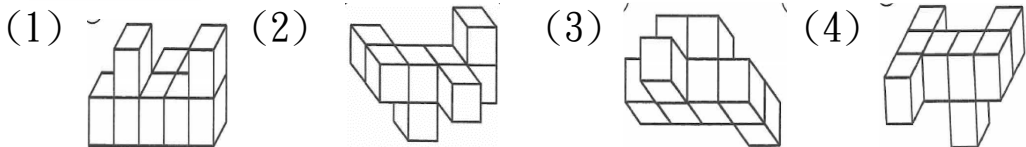
入口網站(如 Google、Yahoo)關鍵字搜尋賈蕾妮 FB招生海報報紙廣播招生布條高捷車廂廣告校園宣導其它：_____

選擇題：100 分每題 2 分，共 50 題單選題。(答錯不倒扣)

(3) 1.



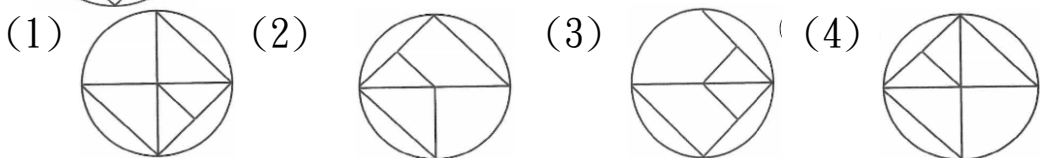
選出左圖移轉後之圖形。



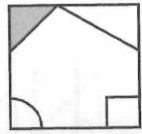
(2) 2.



選出左圖移轉後之圖形。

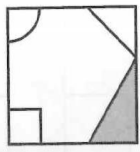


(3) 3.



選出左圖移轉後之圖形。

(1)



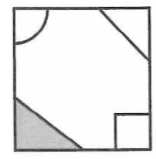
(2)



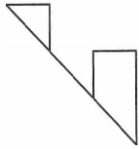
(3)



(4)

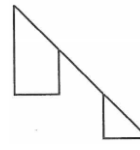


(4) 4.

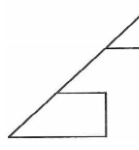


左右對稱圖形測驗。

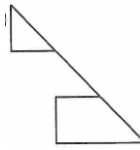
(1)



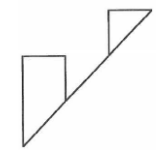
(2)



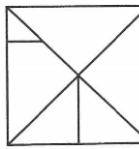
(3)



(4)

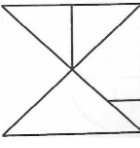


(4) 5.

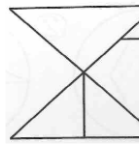


上下對稱圖形測驗。

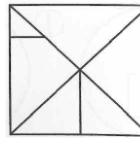
(1)



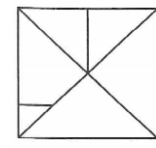
(2)



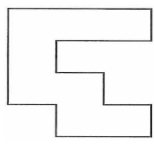
(3)



(4)

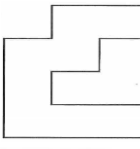


(1) 6.

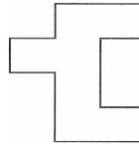


上下對稱圖形測驗。

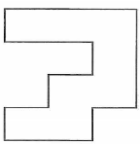
(1)



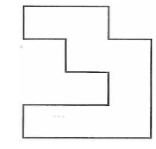
(2)



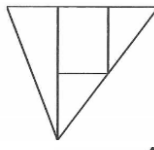
(3)



(4)

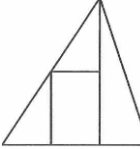


(3) 7.

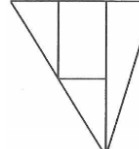


上下對稱圖形測驗。

(1)



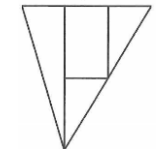
(2)



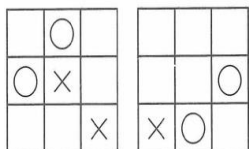
(3)



(4)

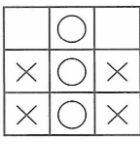


(3) 8.

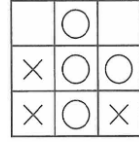


圖形疊合測驗。

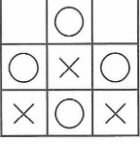
(1)



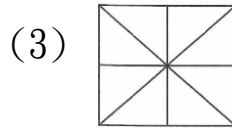
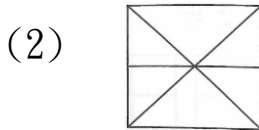
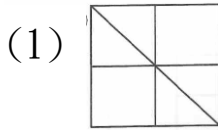
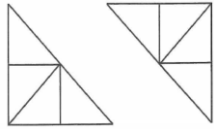
(2)



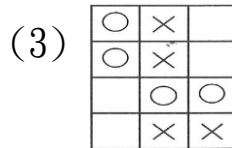
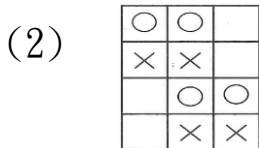
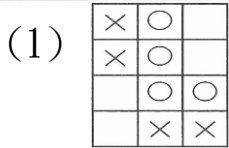
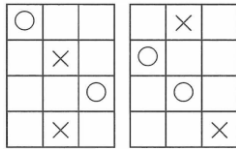
(3)



(3) 9. 圖形組合測驗。



(3) 10. 圖形疊合測驗。



(1) 11. 「遮□、□病、錢□」，以上□內的字，正確的寫法依序是
 (1)蔽、弊、幣(2)蔽、幣、弊(3)弊、幣、蔽(4)弊、蔽、幣。

(4) 12. 「參差」是屬於聲母相同的「雙聲複詞」，下列何者也是？
 (1)聆聽(2)雅量(3)天仙(4)容忍。

(4) 13. 遭受許多挫折失敗，仍然不退縮，不屈服。
 (1)百感交集(2)百口莫辯(3)百思不解(4)百折不撓。

(3) 14. 下列「聽」中，何者不可以唸「去一ㄥ」？
 (1)「聽」從(2)「聽」證會(3)「聽」天由命(4)打「聽」消息。

(3) 15. 下列注音何者正確？
 (1)延「宕」：ㄉㄨㄤˋ(2)倔「強」：ㄍㄨㄤˋ(3)「凋」謝：ㄉㄧㄠ(4)推「卸」：ㄑㄩㄝˋ。

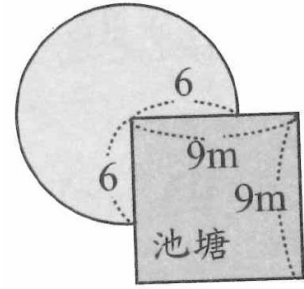
(4) 16. 后羿的「后」讀音不同於
 (1)「候」補(2)「厚」此薄彼(3)「後」生可畏(4)為民「喉」舌。

(3) 17. 「只有等到最後一株樹被砍掉了，最後一條河被汙染了，最後一條魚被捕食了，人們才會發現金錢不能充飢。」下列何者最適合做為這段文字的標題？

(1)人定勝天(2)奉獻的種子(3)與自然共舞吧(4)一葉可以知秋。

- (1)18. 「金黃色的稻穗，垂在田野上。」應填
(1)披(2)彼(3)坡(4)被。
- (3)19. 選出部首不同者。
(1)后(2)否(3)駕(4)召。
- (2)20. 選出錯誤的成語。
(1)多彩多姿(2)方星未艾(3)一事無成(4)供不應求。
- (4)21. 選出正確的成語。
(1)老少嫌宜(2)人海茫茫(3)躬行實賤(4)鍾靈毓秀。
- (3)22. 「古人讀書，先知字之詁，而後識句之意。」以上共有幾個動詞？
(1)一(2)二(3)三(4)四 個。
- (3)23. 〈座右銘〉一文中：「柔弱生之徒，老氏誠剛強。」此句的意思，與下列哪一個最相近？
(1)夙夜匪懈(2)自強不息(3)剛則易折(4)風行草偃。
- (1)24. 百「般」寵辛。意同
(1)十八「般」武藝(2)「般」若(3)凶神惡煞「般」(4)一「般」人。
- (1)25. 我們要用功讀書，讓父母放心要注意身體健康，不讓父母擔心。
(1);(2)，(3)!(4)： 。
- (2)26. 有一正方體的六個面之面積總和為 24 平方公分，則此正立方體的體積是幾立方公分？
(1)1(2)8(3)27(4)64 立方公分。

- (1)27. 將牛栓在如右圖邊長 9 公尺的正方形池塘的一角，而牛繩長 6 公尺，問牛吃草的面積最多是多少平方公尺？



(1)84.78(2)84.68(3)84.58(4)84.48
平方公尺。

- (4)28. 佳佳到百貨公司買一件外套原價 2500 元，剛好公司在促銷活動打 8 折，結帳時又因持有該公司的貴賓卡再打 85 折，則佳佳最後付幾元？

(1)1950(2)1900(3)1800(4)1700 元。

- (1)29. 36，24 的正公因數共有多少個？

(1)6(2)4(3)3(4)2 個。

- (3)30. 教堂鐘樓上的大鐘敲了 3 下費時 6 秒，若敲 10 下時，則需費時多少秒？

(1)25(2)26(3)27(4)28 秒。

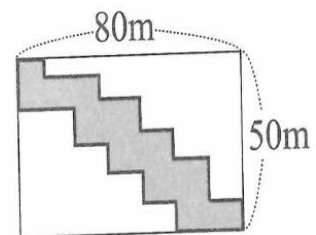
- (2)31. 如把長 2 公尺的竹竿直立於地上的影長是 1.4 公尺；此時一棵樹的影長是 4.2 公尺，則這棵樹的高是幾公尺？

(1)7(2)6(3)5(4)4 公尺。

- (2)32. 河岸上、下游有甲、乙兩個城鎮，若船在靜水中時速為 15 公里，水流時速為 3 公里，往返甲、乙兩鎮需 15 小時，求甲、乙兩鎮的距離？

(1)105(2)108(3)120(4)180 公里。

- (1)33. 在一塊長方形的公園裡建了一條步道，如右圖，求步道的周長為多少？



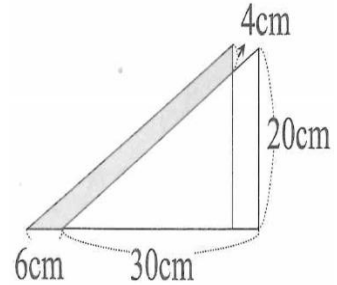
(1)260(2)270(3)280(4)290 公尺。

(2)34. A、B 二齒輪，互相銜接，A 齒輪有 24 齒，B 齒輪有 40 齒，A 齒輪轉 60 周時，B 齒輪會轉幾周？

(1)35(2)36(3)37(4)38 周。

(4)35. 右圖為兩個相同形狀的直角三角形重疊而成，求灰色部分的面積？

(1)103(2)105
(3)106(4)108 cm^2 。



(4)36. 有一工程，甲獨做 12 天完成，乙獨做 16 天完成，丙獨做 20 天完成，今三人合作 10 天完工，只知合作期間，甲休息 4 天，乙休息 6 天，請問丙休息幾天？

(1)2(2)3(3)4(4)5 天。

(4)37. 有一隧道長 1360 公尺，在隧道內裝有照明燈，每隔 20 公尺裝一盞燈，且兩端都裝，今為增加照明，改為每 16 公尺裝設一盞燈，施工時有多少盞燈可不必移動？

(1)15(2)16(3)17(4)18 盞。

(4)38. 已知 $\triangle ABC$ 中， $\angle A = 50^\circ$ ， $\angle C$ 的外角為 110° ，則 $\triangle ABC$ 是哪一種三角形？

(1)無法判斷(2)鈍角三角形(3)直角三角形(4)銳角三角形。

(3)39. 有甲、乙、丙三人，同時同地出發，依同方向繞周長 360 公尺的圓形操場競走，每分鐘甲走 72 公尺，乙走 90 公尺，丙走 60 公尺，則於幾分鐘後三人第一次會合於原出發點？

(1)48(2)54(3)60(4)72 分。

(3)40. 若以萬人為單位，且以四捨五入法取得台南市人口的概數為 72 萬人，則該市人口的最大可能值與最小可能值之差是幾人？

(1)4999(2)5000(3)9999(4)10000 人。

- (2) 41. 下列何者不是人力搬運的正確姿勢？(1)應先將一端抬高後緊抓物件(2)儘量保持脊椎骨彎曲，並使用背部肌肉(3)保持身體的平衡，兩腳分開與肩同寬，儘量靠近物件(4)如由兩人共同搬運時，應注意平衡各人體力，身高不要差太多。
- (3) 42. 下列何者為防止作業勞工暴露於有害物質中的根本有效之方法？(1)設置局部排氣(2)設置整體換氣裝置(3)改變生產製程及變更原料(4)使用個人防護具。
- (2) 43. 失能傷害是指因受傷而損失的工作時間超過多久？(1)四十八小時(2)二十四小時(3)十二小時(4)八小時。
- (4) 44. 日常用電為確保安全，下列描述何者錯誤？(1)依電器所規定的使用電壓選擇相符的電源電壓(2)電路的電流容量，應選用適當的保險絲(3)無熔絲開關若自動跳脫切斷電源時，應先查明原因，排除故障後，才可重啟開關送電(4)若電線絕緣部份損壞時，可利用膠帶包紮，不須更換。
- (1) 45. 在工場實習中，發生任何傷害時(1)應該立即報告老師(2)用口吸吮傷口(3)用膠布貼於開裂的傷口(4)若有水炮應先弄破水炮。
- (4) 46. 下列因素中何者不是由不安全的個人因素所造成的意外事件？(1)粗心(2)遲鈍(3)不使用防護器具(4)噪音。
- (3) 47. $X=A'B'C'+A'B'C+AB'C'+AB'C$ 可化簡為
(1) $A+C$ (2) AC (3) B' (4) A 。
- (3) 48. (00111001)相當於十進制的(1)31(2)39(3)57(4)105。
- (1) 49. 38.25 轉換為 BCD 碼應為
(1)00111000.00100101(2)100110.11001(3)100110.1100(4)1110111.1001。
- (2) 50. 下列記憶體中何者需以紫外線來消除其原有資料？

(1)PROM(2)EPROM(3)EEPROM(4)DRAM ◦