

勞動部勞動力發展署高屏澎東分署
112 年度第 3 梯次職前訓練招訓甄試試題

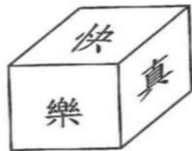
**【適用職類：國際貿易行銷、物流從業人員、旅遊從業人員、
網拍多媒體行銷】**

座位號碼：_____

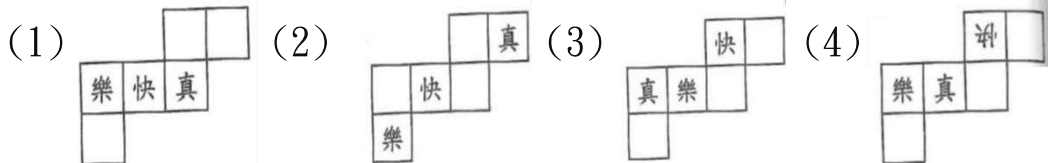
姓 名：_____

選擇題：100 分每題 2 分，共 50 題單選題。（答錯不倒扣）

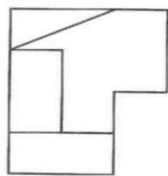
(4) 1.



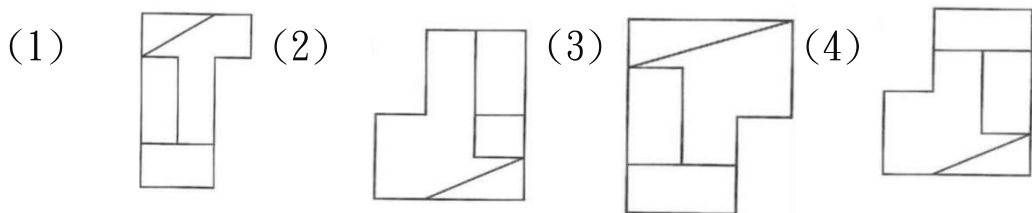
紙板展開測驗。



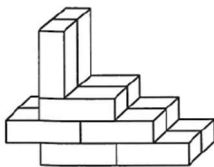
(4) 2.



選出與左邊圖形相同的圖形。



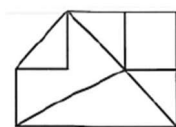
(3) 3.



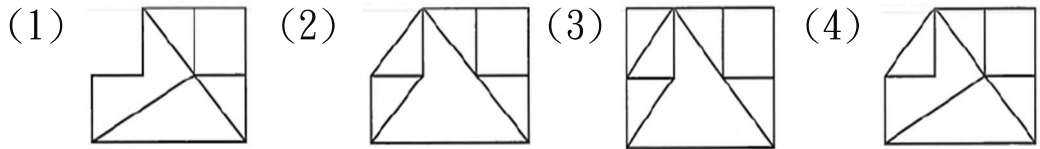
左圖中，共有多少個方塊？

(1)9 (2)8 (3)12 (4)10 個。

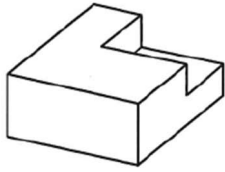
(4) 4.



選出與左邊圖形相同的圖形。



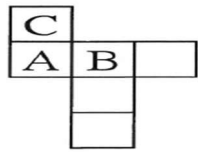
(2) 5.



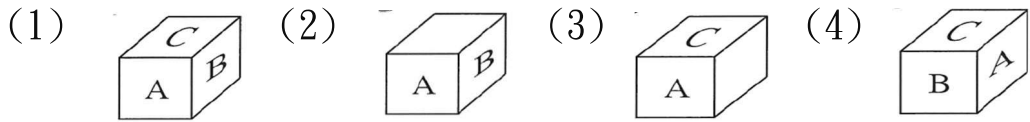
左圖中，共有多少個「面」？

(1)10 (2)9 (3)8 (4)11 個。

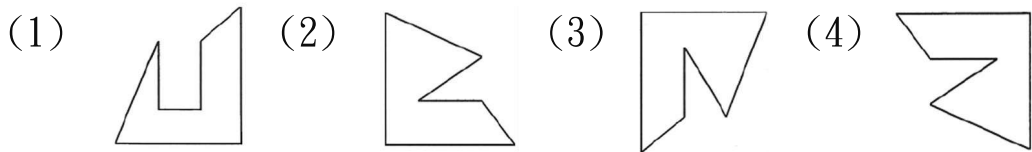
(1) 6.



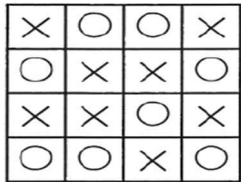
選出由左圖摺合而成的圖形。



(1) 7. 找出一個不相似的圖形。



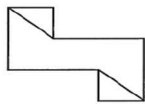
(4) 8.



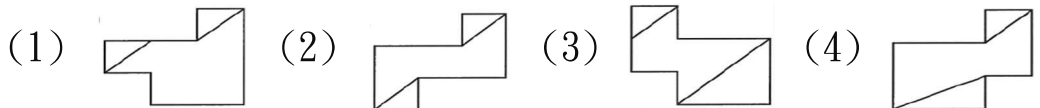
左圖中，共有多少個「○」？

(1)7 (2)6 (3)5 (4)8 個。

(2) 9.



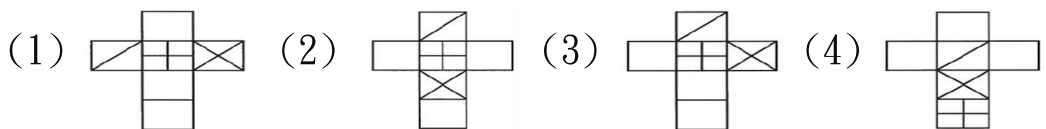
找出與左圖上下對稱的圖形。



(3) 10.



選出由左圖展開而成的圖形。



- (2)11. 俯首「稱」臣、「稱」心如意、「稱」霸武林、「稱」兄道弟，以上「稱」之讀音有
(1)一 (2)二 (3)三 (4)四種。
- (2)12. 中了敵人的「弩」箭。讀如
(1)「如」顏婢膝 (2)「努」力奮鬥 (3)「怒」不可遏
(4)「攻」其不備。
- (2)13. 「任馮烽湮沖天，諸候都不派兵來救。結果幽王被殺，褒姒被滷。」以上共有錯字
(1)三 (2)四 (3)五 (4)六個。
- (4)14. 以下之詞語，何者有誤？
(1)插秧灌畦 (2)防範漸疏 (3)生死不渝 (4)風塵撲撲。
- (2)15. 下列詞語，何者錯誤？
(1)炙手可熱 (2)篷頭垢面 (3)年高德劭 (4)嚴刑峻法。
- (1)16. 選出正確的部首。
(1)乍—冫部 (2)執—丸部 (3)支—又部 (4)甚—八部。
- (2)17. 「陽春佈德澤，萬物生光輝。常恐秋節至，焜黃華葉衰。百川東到海，何時復西歸」(〈樂府長歌行〉節錄)這段詩句旨在表達
(1)大自然的奇奧 (2)時光流逝太匆匆 (3)年老體衰，晚景淒涼 (4)大海寬闊，容納百川。
- (3)18. 下列「」中的注音，何者錯誤？
(1)一「蹴」可幾：ㄑㄨˋ (2)萬惡淵「藪」：ㄌㄨˇ
(3)玩日「愒」歲：ㄉㄞˋ (4)「訐」發陰私：ㄑㄩㄝˊ。
- (4)19. 「如果能持之以恆，那麼，等到時機成熟，自然會□□□□，得到豐碩的成果。」上文缺空的詞語宜填入
(1)故步自封 (2)每下愈況 (3)曇花一現 (4)水到渠成。

- (4)20. 棋高一「著」、「著」作等身、「著」迷、「著」急，以上「著」字讀音有
(1)一 (2)二 (3)三 (4)四種。
- (2)21. 選出正確者。
(1)萬「乘」之國：彳亍ノ (2)哽「咽」失聲：一廿、
(3)一「匹」布：夕一 (4)「勝」任愉快：尸亍、。
- (2)22. 顏色「殊」異讀如
(1)「珠」聯璧合 (2)「書」香門第 (3)「贖」回人質
(4)「數」典忘祖。
- (4)23. 「掌狀的瓜葉波狼似的前俯後仰，相玩童一樣的發出笑聲。」
以上共有錯字
(1)一 (2)二 (3)三 (4)四個。
- (2)24. 三十而立，四十而□□，五十而知天命，六十而耳順。
(1)不知 (2)不惑 (3)不淫 (4)不咎。
- (2)25. 「總公司財務入不□出的消息上了報，果然引起□然大波。這都是因為高層主管一向偏□小人，才會弄出這麼大的□漏。」□中應填入的字依序是
(1)敷、掀、坦、皮 (2)敷、軒、袒、紕 (3)躑、渲、袒、皮 (4)躑、喧、坦、紕。
- (3)26. 下列成語，何者有誤？
(1)歸根究柢 (2)昭然若揭 (3)盛氣零人 (4)斬首示眾。
- (4)27. 春聯又可稱為
(1)紅帖 (2)白帖 (3)春卷 (4)對聯。
- (1)28. 「盛」舉與下列何者意思不同？
(1)「盛」飯 (2)「盛」會 (3)「盛」況空前 (4)「盛」筵。
- (4)29. 近鄉情「怯」：
(1)拒絕 (2)發愁 (3)來來去去 (4)害怕。

(1)30. 雪「皛皛」是形容：
(1)光明潔白的樣子 (2)波濤洶湧的樣子 (3)聚集眾多的樣子 (4)汗濁不堪的樣子。

(2)31. 丟擲一枚硬幣(正反兩面)及一粒骰子(六種點數)可能出現的種類有幾種?
(1)8 (2)12 (3)66 (4)128 種。

(3)32. 右圖三角形共有多少個?
(1)25 (2)28 (3)27 (4)31 個。



(4)33. 有四個分數 $\frac{29}{30}$ ， $\frac{30}{31}$ ， $\frac{31}{32}$ ， $\frac{32}{33}$ ，則哪一數最大?
(1) $\frac{29}{30}$ (2) $\frac{30}{31}$ (3) $\frac{31}{32}$ (4) $\frac{32}{33}$ 。

(1)34. 一根竹竿長 12 公尺，只知插入水中的部分是全長的 $\frac{3}{4}$ ，且插入水底泥土的長度是 0.5 公尺，水深是多少公尺?
(1)8.5 (2)9.5 (3)6.5 (4)7.5 公尺。

(4)35. 甲有 540 元，乙的錢為甲的 $\frac{13}{18}$ ，今後每日甲用 3 元，乙存 2 元，幾天後，兩人的存款就會相等?
(1)10 (2)20 (3)40 (4)30 天。

(2)36. 小於 25 的質數共有多少個?
(1)10 (2)9 (3)8 (4)7 個。

(2)37. 右圖所示：每邊 1 公分的正三角形，正立倒立連接著排列 80 個正三角形時，周長是幾公分?



(1)80 (2)82 (3)84 (4)104 公分。

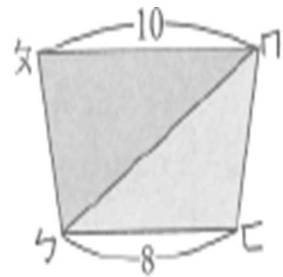
- (1)38. 兩列火車相向而行，A 車每小時走 90 公里，B 車每小時走 120 公里，當兩車交錯通過時，A 車上的阿華，從看見 B 車的車頭開始到看見 B 車的車尾，共經過 3 秒鐘，試問 B 車車長幾公尺？

(1)175 (2)150 (3)125 (4)100 公尺。

- (3)39. 有一長方形水池，長 20 公尺，寬 12 公尺，在其周圍每隔 4 公尺，植樹一棵，四個角落都要種，共要植幾棵樹？

(1)20 (2)18 (3)16 (4)14 棵。

- (3)40. 右圖所示： $\square ABCD$ 是一個梯形， $\triangle ABC$ 的面積是 25 平方公分，則梯形 $ABCD$ 的面積是幾平方公分？



(1)36 (2)40 (3)45 (4)54 平方公分。

- (2)41. 有大小兩水管，大水管一分鐘可注水 $10\frac{1}{2}$ 公升，小水管一分鐘可注水 $5\frac{4}{5}$ 公升；則兩管同時注水 $1\frac{3}{4}$ 分鐘，共可注水幾公升？

(1) $26\frac{21}{40}$ (2) $28\frac{21}{40}$ (3) $30\frac{21}{40}$ (4) $32\frac{21}{40}$ 公升。

- (3)42. 正方形桌子每邊坐 2 人，1 張桌子可坐 8 人，2 張併起來可坐 12 人，3 張併起來可坐 16 人，8 張桌子併起來，可坐幾人？

(1)30 (2)32 (3)36 (4)38 人。

- (4)43. 甲每 4 天到健身房運動，乙每 6 天到健身房運動，他們星期五一同到健身房，問下一次星期五一同到健身房要經過幾天？

(1)80 (2)82 (3)86 (4)84 天。

- (2)44. 有一個三位數，其百位數是 5，十位數是 2，如果它可以被

3 與 7 整除，則這三位數是多少？

(1)524 (2)525 (3)526 (4)527。

(1)45. 有一長方形的長寬比為 2 : 1，則其面積與等周長的正方形面積的比是多少？

(1)8 : 9 (2)3 : 2 (3)2 : 3 (4)1 : 2。

(2)46. 甲、乙、丙三人合夥做生意，總資本額為 180 萬元，其中甲出 3 股，乙出 4 股，丙出 2 股而籌足，問三人中，所出資本額最小的是多少元？

(1)20 (2)40 (3)60 (4)72 萬元。

(4)47. 某書店有一本故事書定價 1200 元，打八折當作售價，刷卡購買還可以再享九五折優惠，如果刷卡買這本書是多少錢？

(1)712 (2)810 (3)612 (4)912 元。

(4)48. 下列何者不是 11 的倍數？

(1)3758282 (2)6028 (3)248567 (4)391818。

(2)49. 如甲、乙的和是 36，乙、丙的平均是 20，丙、甲的和是 48，則乙 = ?

(1)16 (2)14 (3)12 (4)10。

(3)50. 接上題，以下何者正確？

(1) 甲 > 乙 > 丙 (2) 乙 > 甲 > 丙 (3) 丙 > 甲 > 乙

(4) 甲 > 丙 > 乙。