

勞動部勞動力發展署高屏澎東分署
111 年度第 1 梯次職前訓練招訓甄試試題

【適用職類：綜合銲接、水電技術、網拍多媒體行銷及物流從業人員】

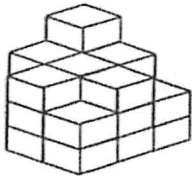
座位號碼：_____

姓 名：_____

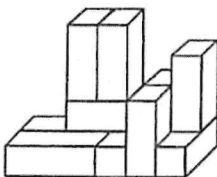
◎親愛的考生，您好

為瞭解職業訓練訊息露出管道效益，請您撥冗勾選由何種管道得知本次招訓訊息(可複選)：親友同學介紹曾經參加職業訓練
本分署網站其他政府機關網站：_____賈蕾妮 FB
招生海報報紙廣播招生布條高捷車廂廣告其它：_____

選擇題：100 分每題 2 分，共 50 題單選題。(答錯不倒扣)

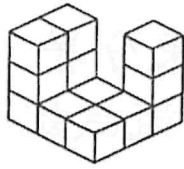
(3) 1.  左圖中，共有多少個方塊？

(1)20(2)19(3)23(4)22 個。

(2) 2.  左圖中，共有多少個方塊？

(1)11(2)10(3)13(4)12 個。

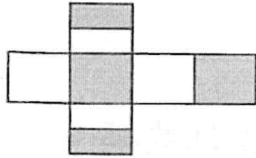
(1) 3.



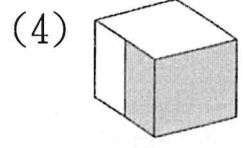
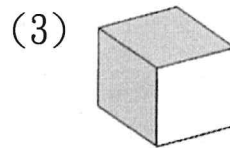
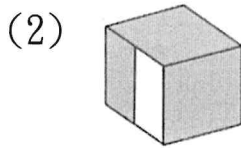
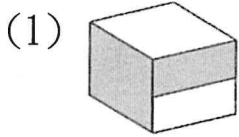
左圖中，共有多少個方塊？

(1)13(2)14(3)12(4)11 個。

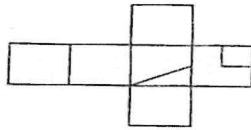
(4) 4.



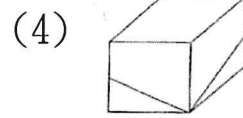
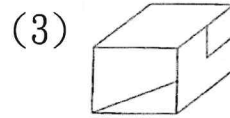
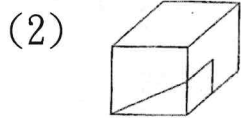
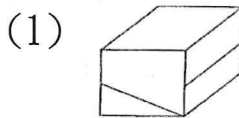
紙板摺合測驗。



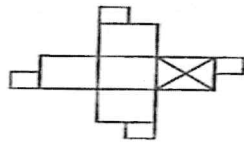
(3) 5.



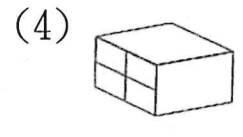
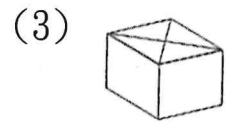
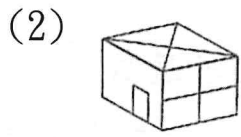
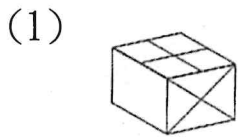
紙板摺合測驗。



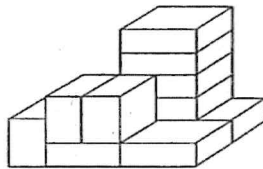
(1) 6.



紙板摺合測驗。




(1) 7.



左圖中，共有多少個方塊？

(1)11(2)10(3)12(4)13 個。

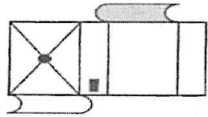
(4) 8.



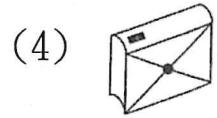
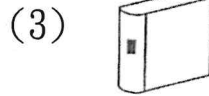
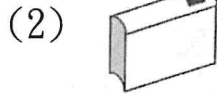
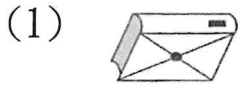
左圖中，共有多少個「○」？

(1)7(2)10(3)8(4)9 個。

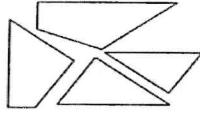
(1) 9.



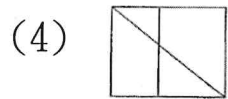
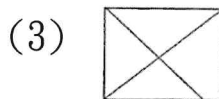
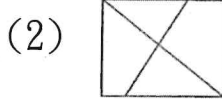
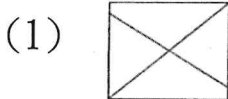
選出由左圖摺合而成的圖形。



(2) 10.



找出由左邊圖形組合而成的圖形。



(1) 11. 凜冽

(1)是形容非常寒冷的意思(2)是形容非常炎熱的意思(3)地上有一道裂痕(4)是說地上積雪。

(3) 12. 下列名言佳句都訴說一個道理，請選出不恰當者？

(1)一枝筷子脆如紙，一把筷子鋼如鐵—團結(2)曲膝可以跳得更高—謙遜(3)在山腳下徘徊的人，永遠到不了山頭—惜時(4)最小的行動，勝過最大的打算—實踐。

(2) 13. 「桂林山水甲天下，陽朔山水甲桂林。」根據上文，你能推知哪一個地方的景色最美嗎？

(1)桂林(2)陽朔(3)一樣美(4)都不美。

(4) 14. 〈琵琶行〉中的名句：「同是天涯淪落人，相逢何必曾相識。」這是哪位詩人的作品？

(1)李白(2)杜甫(3)王維(4)白居易。

(3) 15. 下列引號內的字音，何者錯誤？

(1)閉月「羞」花：ㄒ一ㄨ(2)「袖」手旁觀：ㄒ一ㄨˋ(3)閃「爍」其詞：ㄉㄨˋˋ(4)「偃」旗息鼓：一ㄥˇ。

(1) 16. 蕭伯納說：「人生最大的兩齣悲劇：一是萬念俱灰，另一是躊躇滿志。」這句話的用意在提醒人如何？

(1)勝不驕，敗不餒(2)生於憂患，死於安樂(3)知己知彼，百

戰百勝(4)滿招損，謙受益。

- (3)17. 俗話說：「人不如故，衣不如新。」意思是：
(1)衣不如人(2)人要衣裝(3)故人可貴，不可輕棄(4)崇尚潮流，除舊佈新。
- (1)18. 他終於
(1)克服(2)克制(3)克難(4)克敵 了重重的困難，完成長官交付他的任務。
- (4)19. 魁梧
(1)凶悍的樣子(2)長相醜陋(3)力大無比(4)身材高壯。
- (4)20. 請選出意思最相近的成語：始終不渝
(1)魚貫而入(2)飢不擇食(3)無可厚非(4)貫徹始終。
- (4)21. 「要特別小心、開車、山路陡峭、駕駛人」依序排列後，第二詞是什麼？
(1)要特別小心(2)開車(3)山路陡峭(4)駕駛人。
- (3)22. 未雨「綢繆」：
(1)時間急迫(2)絲織品(3)預先經營準備使其牢固(4)用膠水黏起來的意思。
- (4)23. 下列哪句歇後語是錯誤的？
(1)乞丐趕廟公—反客為主(2)碗裡的豆子—歷歷在目(3)和尚撐傘—無法無天(4)豬八戒照鏡子—願者上鉤。
- (3)24. 「烏合之眾，漫無□□，怎能打勝仗呢？」缺空的詞語不可填上
(1)準繩(2)紀綱(3)網羅(4)規矩。
- (4)25. 下列各句歇後語的寓意，何者不正確？
(1)泥菩薩過江／自身難保(2)姜太公釣魚／願者上鉤(3)千里送鵝毛／禮輕情意重(4)小和尚念經／有志不在年高。

(3)26. 「衣帶漸寬終不悔，為伊消得人□□。」上文中缺空的詞語宜填入

(1)滿意(2)知足(3)憔悴(4)得意。

(1)27. 「先天下之憂而憂，後天下之樂而樂」是誰說的名句

(1)范仲淹(2)文天祥(3)岳飛(4)蘇軾。

(1)28. 關於人體器官的讀音，找一找下列何者讀音正確？

(1)腳「踝」：尸乂𠃉ノ(2)手「腕」：乂弓ノ(3)骨「髓」：ム乂ノ(4)「顴」骨：ㄍ乂弓。

(1)29. 下列何者有誤？

(1)遠「眺」觀音山：出么ノ(2)俯「瞰」淡水河：弓弓ノ(3)萬「壑」爭流：尸乂乙ノ(4)付「諸」實行：出乂。

(3)30. 「交情甚篤」、「生死不渝」、「千里之搖」、「一言為訂」。以上共有錯字

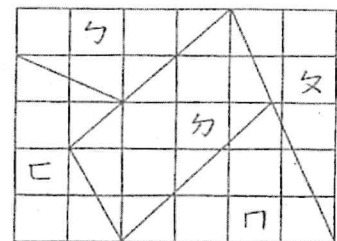
(1)1(2)2(3)3(4)4 個。

(3)31. 有印表機印一個一位數需 1 秒，印一個二位數需 2 秒，印一個三位數需 3 秒，若這個印表機從 1 印到 199，全部印完需多少秒？

(1)199(2)398(3)489(4)527 秒。

(1)32. 右圖所示：圖中五個部分，哪兩個部分面積相等？

(1)ㄅ、ㄆ(2)ㄅ、ㄇ(3)ㄆ、ㄏ(4)ㄇ、ㄏ。



(3)33. 有大小兩隻甲蟲，從相距 18 公尺兩地相向而行，大甲蟲每分走 3 公尺，小甲蟲每分走 2 公尺，相遇後大甲蟲即刻回頭走回原出發點，再出發，相遇再回頭，小甲蟲則一直向前走，一直到小甲蟲走完全程，大甲蟲共走幾公尺？

(1)12(2)24(3)27(4)108 公尺。

(4)34. 有一級數 $3+5+7+9+11+\cdots+93+95+97$ 的總和是多少?

(1)2550(2)2500(3)2450(4)2400。

(4)35. 有一個底面是正三角形的三角柱，底面的正三角形邊長是 5 公分，柱體的高是 8 公分，則側面積是幾平方公分?

(1)100(2)110(3)130(4)120 平方公分。

(3)36. 雞和兔共有 30 隻，腳數共有 84 隻，則雞有多少隻?

(1)14(2)16(3)18(4)20 隻。

(3)37. 有糖果 290 顆、餅乾 140 包要平均分給幼稚園的小朋友，結果糖果不夠 7 顆、餅乾剩下 5 包，問幼稚園的小朋友最多有多少人?

(1)9(2)18(3)27(4)54 人。

(2)38. 設甲為正整數，則使 $\frac{91}{甲}$ 亦為正整數的甲共有多少個?

(1)3(2)4(3)5(4)6 個。

(2)39. 有一個圓形跑道，甲 30 秒跑完一圈。若甲乙兩人在此圓形跑道上同時同地依相反方向起跑，經過 12 秒相遇，則乙跑完一圈的時間為多少秒?

(1)18(2)20(3)24(4)25 秒。

(1)40. 三位數中，8 的倍數共有多少個?

(1)112(2)113(3)114(4)115 個。

(2)41. 海水鹽的濃度原是 2.85%，若在 8 公升的海水中加入 12 公升的水，則鹽的濃度會變成多少?

(1)1.64(2)1.14(3)11.4(4)1.04 %。

(4)42. 母親 43 歲，女兒 13 歲，則多少年後，母親年齡是女兒年齡的 2 倍？

(1)23(2)21(3)19(4)17 年後。

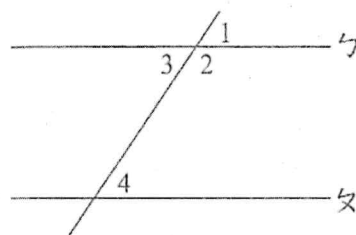
(3)43. 有一工程，如 10 人做，12 天可以完工；今想在 8 天內完工，則需增加幾人？

(1)15(2)10(3)5(4)3 人。

(3)44. 一長方形的周長為 100 公分，長和寬差 10 公分，這長方形的面積是多少？

(1)300(2)500(3)600(4)400 平方公分。

(3)45. 如圖所示，以下哪一個條件能判斷出直線 ℓ 與直線 m 是互相平行的？



(1) $\angle 1 = \angle 2$ (2) $\angle 1 = \angle 3$

(3) $\angle 1 = \angle 4$ (4) $\angle 2 = \angle 4$ 。

(4)46. 大、小兩數的和是 170，小數是大數的 0.7 倍，大、小二數的差是多少？

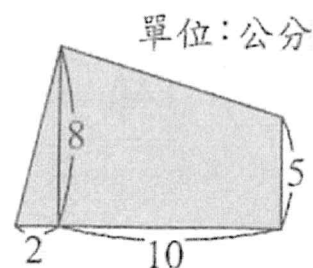
(1)10(2)40(3)20(4)30。

(2)47. 甲、乙兩人分別自兩地同時出發，兩人相向而行，已知甲每小時走 8 公里，乙每小時走 5 公里，當甲走至兩地中點時與乙恰好相距 18 公里，則乙走完兩地的距離需要幾時？

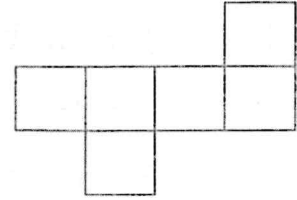
(1)18(2) $\frac{96}{5}$ (3) $\frac{102}{5}$ (4) $\frac{108}{5}$ 時。

(4)48. 右圖是 $\frac{1}{400}$ 的縮圖，則實際面積是幾平方公尺？

(1)868(2)968(3)1068(4)1168 平方公尺。



- (2)49. 右圖所示：每個正方形的面積是 25 平方公分，如摺成有蓋的正方體，則體積是幾立方公分？



(1)100(2)125(3)144(4)225 立方公分。

- (4)50. 以 800 元買進一個電子鍋，加二成五做定價，再打八折出售，可賺或賠多少元？

(1)賺 120 元(2)賠 120 元(3)賺 60 元(4)不賺不賠。