

108-4 勞動力發展署雲嘉南分署職前訓練室內設計班甄試試卷

壹、基本資料：

(參考答案)

姓名：_____ 年齡：_____ 歲 性別： 男 女

身分證字號：_____

聯絡電話：_____ 手機：_____

居住地：_____ 縣、市 _____ 鄉、鎮、市、區 _____

兵役狀況：未役 役畢 免役

婚姻狀況：未婚 已婚 (子女數：_____ 人)

最高學歷：_____ 學校 _____ 科系

工作經歷：

已具專長：

已具證照：

※ 注意事項 ※

1. 個人資料請詳實填答，如因故意填答不實而錄取者，本中心保留強制退訓之權力。
2. 台南職業訓練中心為公立訓練中心，您可以在中心得到公費訓練及輔導就業的待遇。公費訓練指您毋須負擔受訓學費，但仍須負擔您個人的生活、飲食、交通、書籍、文具等相關費用。輔導就業為輔助您尋找就業機會，不是保證就業。
3. 受訓期間學員應按時上下課、負責環境清掃及導師指派工作等義務。
4. 如有疑問請當場詢問清楚，確認您的權利義務及參訓意願無誤後再繼續作答，以保障您的權益及應盡之義務。謝謝您的配合。

貳、筆試作答：(滿分 100 分，佔總成績 50%)

一、設計題(25 分)

1. 根據你的考場座位位置為觀察位置，繪製一張考場教室的圖，可用平面圖或其他形式繪製表達。

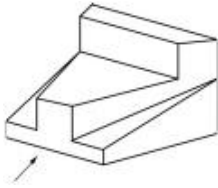
二、選擇題(75分，每一題3分)

- (D) 1. $4770 \div (1 + 1\% \times 6) = ?$
(A)4200 (B)4300 (C)4400 (D)4500。
- (A) 2. 甲：乙 = 1：5，那麼甲是乙的幾%?
(A)20% (B)40% (C)50% (D)60%。
- (D) 3. 已知今年淑美年齡與老公俊毅的年齡比為 5：6，且淑美比老公俊毅小 4 歲，則請問 2 人明年的年齡和為幾歲?
(A)40 歲 (B)42 歲 (C)44 歲 (D)46 歲。
- (C) 4. 小勇在沙漠中迷路，目前身邊只有比例尺 1:1,000,000 的地圖可參考；若地圖上東北方 3 公分距離有綠洲可獲救，則他實際上應該向東北方再走多少距離?
(A)0.3 公里 (B)3 公里 (C)30 公里 (D)300 公里。
- (D) 5. 一物價 25 元，先打八折，再減三成後賣價為多少元?
(A)11 (B)12 (C)13 (D)14 元。
- (C) 6. 請問與「破釜沉舟」相似的意思為?
(A)死期將至 (B)衰毀骨立 (C)勇往直前 (D)放棄。
- (C) 7. 某軍隊存糧可供 80 人吃 6 個月，可供 60 人吃幾個月?
(A)4 個月 (B)6 個月 (C)8 個月 (D)10 個月。
- (C) 8. _____ 之於呼吸作用，好像二氧化碳之於_____。
(A)氫氣、循環作用 (B)氮氣、排泄作用 (C)氧氣、光合作用
(D)氫氣、氧化作用。
- (A) 9. 時鐘的分針從 2 時 0 分到 2 時 45 分時，其分總共移動了多少角度?
(A)270 度 (B)480 度 (C)22.5 度 (D)40 度。
- (D) 10. 全班 40 人，做 A、B 兩題，A 做對 23 人，B 做對 16 人，全對 7 人，問全錯幾人?
(A)5 人 (B)6 人 (C)7 人 (D)8 人。
- (A) 11. 醫生給你 3 個藥丸，要你每 30 分鐘吃 1 個，這些藥丸多久後會被吃完?
(A)60 分 (B)90 分 (C)120 分 (D)150 分。

背後還有試題

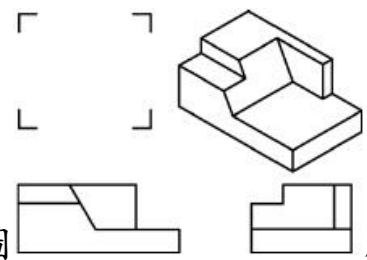
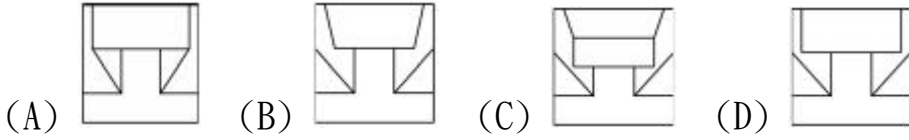
- (A) 12. 請問與「危言聳聽」相似的意思為？
(A)恐嚇人的話 (B)嚇人的故事 (C)好聽的話 (D)罵人的話。
- (B) 13. 請問與「屏營待命」相似的意思為？
(A)枕戈待旦 (B)誠惶誠恐 (C)指日中原 (D)待命而發。
- (D) 14. 50、38、____、14、2。
(A)18 (B)21 (C)25 (D)26。
- (B) 15. $5\square 6 = 12\square 3 + 7$ ， \square 應該是填入什麼？
(A) \div ， \times (B) $+$ ， \div (C) $-$ ， $+$ (D) \times ， $-$ 。
- (A) 16. 「感奮」，請從右邊答案中，找出最符合左邊辭彙的意義。
(A)感動而振作 (B)努力做事 (C)感恩圖報 (D)奮勇向前。
- (C) 17. 已知木製地板一塊為每邊 30 公分的正方形，每一片單價 50 元，工錢為每平方公尺 150 元。老王新屋裝潢，地板面積為長 12 公尺，寬 15 公尺，則請問老王鋪滿全部地板，總共要付多少錢？
(A)27,000 元 (B)100,000 元 (C)127,000 元 (D)200,000 元。
- (B) 18. 地圖上 $\frac{1}{4}$ 吋代表 8 公里，問 64 公里在地圖上共是幾吋？
(A)1 吋 (B)2 吋 (C)3 吋 (D)4 吋。
- (A) 19. 請問與「鼓吹」相似的意思為？
(A)提倡 (B)吹牛 (C)打鼓 (D)吹噓。
- (C) 20. 油的比重是水的 0.6 倍，水 1 加侖重 2 公斤，問油 3 加侖重幾公斤？
(A)2 公斤 (B)2.4 公斤 (C)3.6 公斤 (D)6 公斤。
- (A) 21. 菱形的對角相等，有一角為 92 度，其鄰角為？
(A)88 度 (B)90 度 (C)92 度 (D)135 度。
- (C) 22. 30 除以二分之一再加上 10 等於多少？
(A)15 (B)25 (C)70 (D)90。
- (D) 23. 大月有 31 天，小月有 30 天，那麼一年中幾個月有 28 天？
(A)2 (B)6 (C)10 (D)12。

背後還有試題



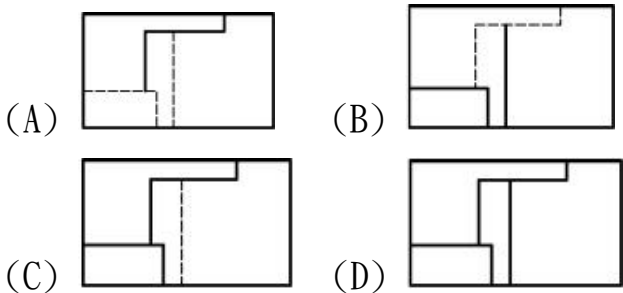
(D) 24.

請依箭頭所指的投影方向，選擇正確的前視圖。



(D) 25.

請依據第三象限投影法(第三角法)，對照如圖所示右上的立體圖，及其前視與右側視圖，選出正確俯視圖？



參、口試紙筆作答：(滿分 100 分，佔總成績 50%)

1. 請問你是否具有以下身分？(如原住民、低收入戶、屆退官兵、身心障礙者、更生保護協會受刑人…) 是否持有證明文件
2. 試述你曾參訓的職業訓練單位，及參加過哪些課程、過去是否曾離退訓的原因？(20 分)
3. 目前的應試職缺是否與你以前所學相關？以及為何選擇與所學不相關之職缺？(25 分)
4. 試述希望於本訓練課程中學到甚麼？希望對個人職涯有何幫助？(25 分)
5. 試述未來所從事工作與本次參訓之關聯性。(30 分)

※面談時，請在 2 分鐘內進行個人自我介紹、學習意願、就業規劃…等說明，爭取甄試老師的肯定！謝謝您報名參訓，祝您順利！