

勞動部勞動力發展署雲嘉南分署

108-5 期職前訓練測驗卷

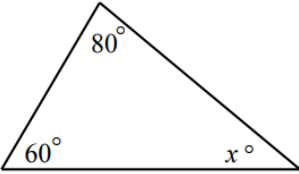
職類：裝修工程(老屋)班

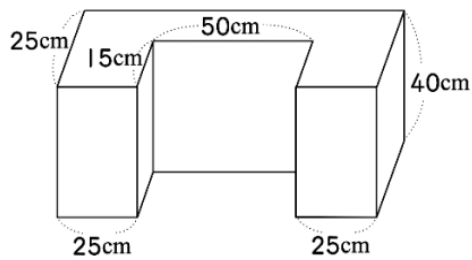
姓名：

得分：

選擇題共20題每題5分

題號	答題	題目
(1)	A	下列選項「 」中各量詞的使用，何者有誤？ (A) 一「台」火車 (B) 一「座」電冰箱 (C) 一「具」電話 (D) 一「口」豬。
(2)	D	下列各選項「 」中疊字使用，何者正確？ (A) 歌唱界「頂頂」有名的五月天，深受年輕人喜愛 (B) 她戰戰「競競」地上臺為觀眾演奏了三首悅耳動聽曲子 (C) 大華信誓「但但」地對女朋友說會給她幸福 (D) 霧氣「騰騰」，景物忽隱忽現。
(3)	C	下列那種防護具較能消滅噪音對聽力的危害？ (A) 耳塞 (B) 棉花球 (C) 耳罩 (D) 碎布球
(4)	A	臺灣俚語有不少俏皮話，既好玩又有趣。下列各組俏皮話及其對應詞，何者有誤？ (A) 班會上討論畢業旅行地點，「一人一把號」，吵翻天了：胡鬧 (B) 社區老王雖然常常罵人，但他是「刀子嘴，豆腐心」，私下卻是常對有困難的人伸出援手：口惡心善 (C) 用盡心計想獲得代理權，結果仍被另一家公司搶了去，真是「竹籃子打水」：一場空 (D) 比賽場中常見選手們如「八仙過海」般展現其最好的技巧：各顯神通。
(5)	B	日常生活中我們不自覺會使用一些外來語，下列外來語有些是日語音譯也是我們常掛嘴邊的詞語，請選出何者中文意思是不對的？ (A) 卡哇伊：可愛 (B) 沙西米：芥末醬 (C) 柏青哥：小鋼珠電玩 (D) 宅急便：送貨快遞。
(6)	A	「人們常因為不了解自己的弱點而受到責備，然而更多的時候，人們卻恰恰不了解自己的優點所在。人生好似一片土地，有時依自己並不知道自己竟然還潛藏著一座金礦」這段文字主要在說明什麼？ (A) 天生我材必有用 (B) 天公疼憨人 (C) 天無絕人之路 (D) 皇天不負苦心人。

(7)	B	8 吋等於幾公厘？ (A) 198 (B) 203.2 (C) 200 (D) 190																		
(8)	D	「本次消費電子展以【智慧生活】為主題，煮咖啡像是在滑手機，不再只是按鈕選擇，只要手指滑一滑，挑選想喝的就能自動完成」由這段文字來判斷其主要在強調咖啡機的那一種變革？ (A)耐用程度 (B)節能減炭 (C)體積輕薄 (D)操作模式。																		
(9)	C	「從十二月三十日起，太平洋將縮小 20%」，你認為此則廣告應為何者所刊登的？(A)旅遊業者 (B)汽車公司 (C)航空公司 (D)金融機構。																		
(10)	D	下圖中，6 顆黑球和 8 顆白球讓天平平衡，若一顆黑球重 30 公克，用 W 表示一顆白球的重量，哪個算式是正確的？ (A) $W = 8 \div (30 \times 6)$ (B) $W = 6 \div (30 \times 8)$ (C) $W = 30 \times 8 \div 6$ (D) $W = 30 \times 6 \div 8$ 。																		
(11)	A	右圖三角形中，x 之值為？ (A) 40 (B) 50 (C) 60 (D) 140。																		
																				
(12)	C	有 5 個班級買披薩慶生，下表為各班人數及披薩的數量。請問那一班每人吃到的披薩最多？ (A)甲 (B)乙 (C)丙 (D)戊。																		
		<table border="1" data-bbox="523 1406 1002 1615"> <thead> <tr> <th></th> <th>甲班</th> <th>乙班</th> <th>丙班</th> <th>丁班</th> <th>戊班</th> </tr> </thead> <tbody> <tr> <td>披薩 (個)</td> <td>4</td> <td>8</td> <td>8</td> <td>6</td> <td>9</td> </tr> <tr> <td>學生 (人)</td> <td>28</td> <td>32</td> <td>24</td> <td>24</td> <td>30</td> </tr> </tbody> </table>		甲班	乙班	丙班	丁班	戊班	披薩 (個)	4	8	8	6	9	學生 (人)	28	32	24	24	30
	甲班	乙班	丙班	丁班	戊班															
披薩 (個)	4	8	8	6	9															
學生 (人)	28	32	24	24	30															
(13)	A	由美國發射的人造衛星繞地球 1 周，需要 8 小時，則繞地球 20 周需要幾日幾小時？ (A) 6 日 16 小時 (B) 2 日 4 小時 (C) 5 日 20 小時 (D) 6 日 18 小時。																		
(14)	B	下圖的體積是多少立方公分？ (A) 68000 (B) 70000 (C) 72000 (D) 75000。																		



(15)

C

木材產生表面僵化的原因是？

(A)加工刀具太鈍(B)材料太濕(C)乾燥處裡不當(D)木材本性。

(16)

C

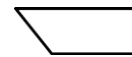
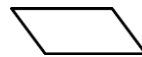

下圖是普悠瑪號的座位配置圖，請問下面哪一個座位號碼是靠窗戶的位置？(A) 20 (B) 27 (C) 30 (D) 35。

靠窗	靠走道		靠走道	靠窗
1	3		4	2
5	7	走	8	6
9	11		12	10
⋮	⋮	道	⋮	⋮
⋮	⋮		⋮	⋮

(17)

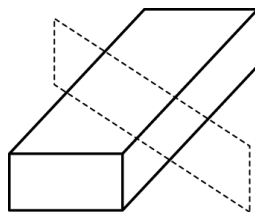
A

下圖為一長方體之木塊，若沿虛線所示的位置將木塊鋸成兩塊，則截面圖形為下列哪一個？



(A) (B)

(C) (D)



(18)

D

小新要編 1 條 120 顆珠子的幸運項鍊，送給老師做紀念。珠子的顏色以紅、橙、黃、綠、藍、靛、紫的順序排列，請問第 97 顆珠子是什麼顏色？(A)橙色 (B)紅色 (C)紫色 (D)靛色。

(19)

D

七邊形的內角合是(A)680度(B)720度(C)840度(D)900度

(20)

C

門窗施工圖中，前視圖需依工作物位置或施工情況來選擇，通常以最能表現工作物之外觀形狀與尺寸大小者為前視，故室外門應以 (A)朝向屋內的面(B)朝向戶外的面(C)能見到活葉軸的面(D)能清楚標註尺寸的面 為前視圖

