

107-02 期自動控制(微處理與 PLC 控制)班 筆試測驗

(每題 5 分共 20 題)100% 姓名:

一、請寫出認知中自動控制須具備那些基本技能課程，隨意列舉三項技能名稱

1 _____、2 _____、3 _____。

4.台灣地區居家用插頭電壓種類規格為_交流 110V_____

二、將下列單位進行轉換

5. 題目 17.62851 公里為__1762851__ 公分

6. 題目 0.78125 公尺為__781.25__ mm

7. 題目 64G 隨身碟容量等於多少_65536_& 64000_ M 容量






8. 題目 $2^{12} =$ __4096__

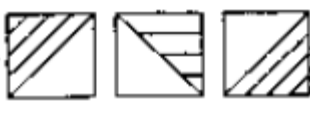




三、翻譯題請填入對應之代號





9 設備 (A)、10 專案 (F)、11 執行 (C)、12 編輯 (D)、13 診斷 (B)


A.device B.diagnosis C.execute D.edit E. connection F. project G. save

四、圖形推理

14.(C)  _____ (A)  (B)  (C)  (D) 

15.(C)  _____ (A)  (B)  (C)  (D) 

16.(B)  _____ (A)  (B)  (C) 

(D) 



五、數字推理

19. (C)

12	4	64
9	6	9
17	11	?

- (A) 18 (B) 20 (C) 43 (D) 72

20. (A)

12	9	?
1	33	66
8	3	27

- (A) 117 (B) 88 (C) 36 (D) 81

21. 請寫出目前自己所擁有之證照名稱級別_____

(該題不列入筆試成績計算)