

108-3 勞動力發展署雲嘉南分署職前訓練 建築空間繪圖班 甄試試卷

壹、基本資料：

(參考答案)

姓名：\_\_\_\_\_ 年齡：\_\_\_\_\_ 歲 性別： 男 女

身分證字號：\_\_\_\_\_

聯絡電話：\_\_\_\_\_ 手機：\_\_\_\_\_

居住地：\_\_\_\_\_ 縣、市 \_\_\_\_\_ 鄉、鎮、市、區 \_\_\_\_\_

兵役狀況：未役 役畢 免役

婚姻狀況：未婚 已婚 (子女數：\_\_\_\_ 人)

最高學歷：\_\_\_\_\_ 學校 \_\_\_\_\_ 科系

工作經歷：

已具專長：

已具證照：

※ 注意事項 ※

1. 個人資料請詳實填答，如因故意填答不實而錄取者，本中心保留強制退訓之權力。
2. 台南職業訓練中心為公立訓練中心，您可以在中心得到公費訓練及輔導就業的待遇。公費訓練指您毋須負擔受訓學費，但仍須負擔您個人的生活、飲食、交通、書籍、文具等相關費用。輔導就業為輔助您尋找就業機會，不是保證就業。
3. 受訓期間學員應按時(上下課)打卡、負責環境清掃及導師指派工作等義務。
4. 如有疑問請當場詢問清楚，確認您的權利義務及參訓意願無誤後再繼續作答，以保障您的權益及應盡之義務。謝謝您的配合。

貳、筆試試題：(滿分 100 分、佔總成績 50%)

一、設計題(15 分)

1. 根據你的考場座位位置為觀察位置，繪製一張考場教室的圖，可用平面圖或其他形式繪製表達。

二、問答題：(10 分)

1. 良好的訓練成效源自於強烈的學習意願，相信您一定參閱過本班招訓相關資訊，請問本班本期訓練的起迄日為何？

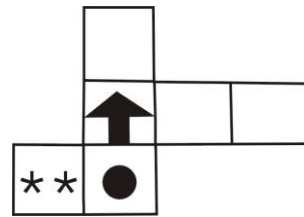
Ans. 自 108 年 04 月 12 日至 108 年 09 月 19 日





三、選擇題(75 分，每一題 3 分。)

- (B) 1. 邊長分別為 45 公分和 120 公分之長方形木板，要拼出最小的正方形，則此正方形共用掉多少塊木板？(A)12 塊 (B)24 塊 (C)36 塊 (D)40 塊。
- (D) 2. 工兵 2 人 2 天可築碉堡 2 座，問工兵 4 人 4 天可築碉堡幾座？(A)1 座 (B)2 座 (C)4 座 (D)8 座。
- (D) 3. 執迷不悟：痛改前非＝理屈詞窮：\_\_\_\_\_。(A)口乾舌盡 (B)有理不明 (C)心有不甘 (D)理直氣壯。
- (A) 4. 請問與「終南捷徑」相似的意思為？(A)取巧干進 (B)行不由徑 (C)略有門徑 (D)終南山路。
- (A) 5. 請問與「衰頹」相似的意思為？(A)萎靡 (B)不行 (C)低落 (D)敗亡。
- (C) 6. A、B、C 三人參加籃球比賽，A 比 B 少得 6 分，C 比 B 多一倍，又比 A 多得 22 分，問三人合計共得幾分？(A)56 (B)57 (C)58 (D)59。
- (B) 7. 由字串 10、8、11、9、12 找出其規則，接下來的數字應為？(A)10、11 (B)10、13 (C)13、14 (D)10、12。
- (D) 8. 大雄有錢 30 元，用掉  $\frac{1}{3}$  去買鉛筆，他還有多少錢？(A)15 元 (B)10 元 (C)5 元 (D)20 元。
- (C) 9. 2 公尺立方是 2 立方公尺的(A)1 倍 (B)2 倍 (C)4 倍 (D)8 倍。
- (A) 10. 今年大學聯考的錄取率為 61%，今錄取了 12200 人，問報考大學的人有多少人？(A)20000 人 (B)22000 人 (C)24000 人 (D)28000 人。
- (B) 11. 某登山隊出發前點名，每三個一數，每五個一數，都餘二人，則加上嚮導一人，此登山隊共有幾人？(A)17 (B)18 (C)19 (D)20 人。
- (C) 12. 風光之於\_\_\_\_\_，好比\_\_\_\_\_之於斷瓦(A)得意、斷炊 (B)秀麗、人潮 (C)明媚、殘垣 (D)晴朗、颱風。

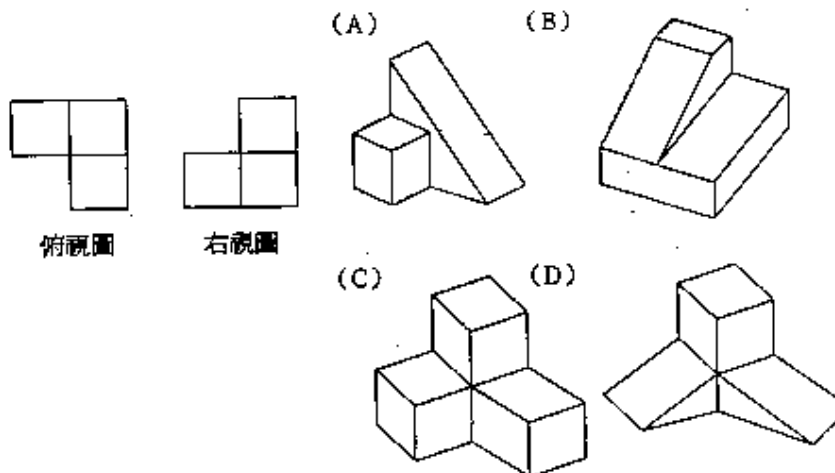
背後還有試題

- (D) 13. 專制：民主=不諧：\_\_\_\_\_ (A)同意 (B)不和 (C)調音 (D)和群。
- (C) 14. 某電影院放映電影，每場放映1小時三十分，總共放映2場電影，則總共放映電影的時間為(A)1小時三十分 (B)三時二十分 (C)三小時 (D)三小時四十分。
- (D) 15. 「夕」陽請問與「夕」相似的意思為？(A)早晨 (B)中午 (C)晚上 (D)傍晚。
- (A) 16. \_\_\_\_\_之於獎盃，好比金銀銅鐵之於\_\_\_\_\_ (A)冠亞季軍、金屬 (B)風調雨順、金屬 (C)冠亞季軍、資源回收 (D)風林火山、五金行。
- (A) 17. 機器腳踏車和坦克車同時向同地開動，當坦克車走至150公尺時，機器腳踏車可以走到250公尺，那若坦克車走到180公尺時，機器腳踏車走多少公尺？(A)300公尺 (B)240公尺 (C)108公尺 (D)280公尺。
- (D) 18. 兩個房間可住160人，現在較小的房間所住人數占總數的 $\frac{3}{8}$ ，較大的房間應住若干人？(A)60人 (B)70人 (C)80人 (D)100人。
- (C) 19. 甲是乙的3倍減4，甲、乙相差6，求甲是多少？(A)12 (B)17 (C)11 (D)8。
- (C) 20. 4、5、8、13、\_\_\_\_\_、29。(A)16 (B)19 (C)20 (D)23。
- (B) 21. 右圖所構成之立體造形下列何者正確？



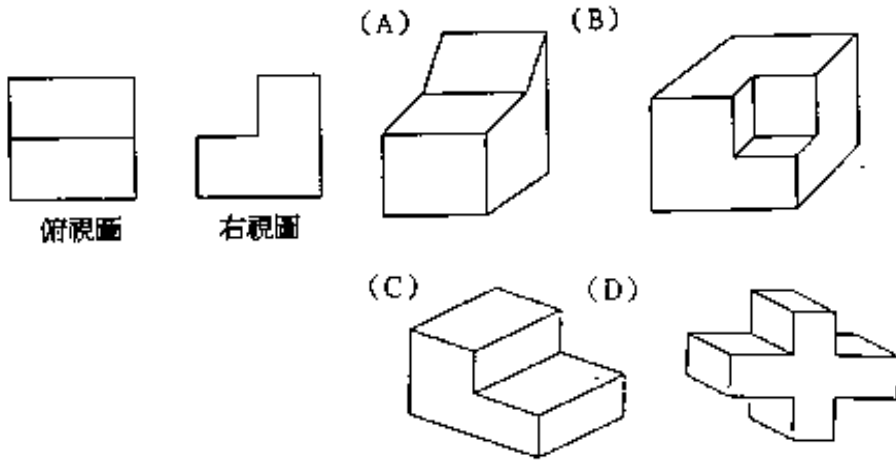
- (A)  (B)  (C)  (D)  。

(C) 22.



背後還有試題

(C) 23. 左邊為某一立體圖之俯視圖和右側視圖，要從四個選項圖中選出該立體圖做為答案。



(B) 24. 轟炸機 8 架，航行 5 小時，共用汽油 10,000 加侖，設各機消耗油量相等，則每機每小時耗油多少加侖？(A)500 (B)250 (C)150 (D)520。

(A) 25. 甲：乙 = 4：5，那麼甲是乙的(A)80% (B)100% (C)125% (D)120%。

參、口試紙筆作答：(滿分 100 分、佔總成績 50%)

1. 請問你是否具有以下身分？(如原住民、低收入戶、屆退官兵、身心障礙者、更生保護協會受刑人…) 是否持有證明文件
2. 試述你曾參訓的職業訓練單位，及參加過哪些課程、過去是否曾離退訓的原因？(20 分)
3. 目前的應試職缺是否與你以前所學相關？以及為何選擇與所學不相關之職缺？(25 分)
4. 試述希望於本訓練課程中學到甚麼？希望對個人職涯有何幫助？(25 分)
5. 試述未來所從事工作與本次參訓之關聯性。(30 分)

※面談時，請在 2 分鐘內進行個人自我介紹、學習意願、就業規劃…等說明，爭取甄試老師的肯定！  
謝謝您報名參訓，祝您順利！