

# 勞動部勞動力發展署雲嘉南分署


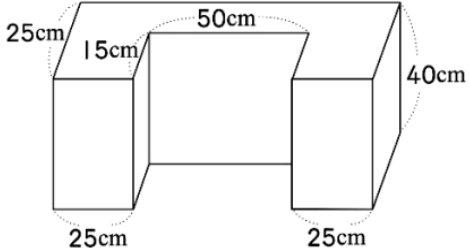
## 108-3 期職前訓練測驗卷





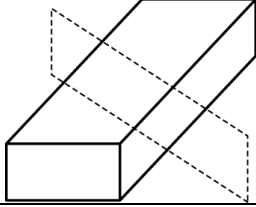
班別：裝修工程實務(老屋修復)班 姓名： 得分：

電話：

選擇題共20題每題5分 請依題目填入正確答案

題號	答題	題目
(1)	(C)	_____之於止渴，好像畫餅之於_____： (A)飲水.....觀賞(B)水果.....販售(C)望梅.....充饑(D)芒果.....食物。
(2)	(B)	下列 4 個選項連成一句話，請問哪一選項 <u>不</u> 適合？ (A)情場失意的老王(B)終日焚膏繼晷(C)醉生夢死(D)令人惋惜。
(3)	(A)	時鐘的分針從 2 時 0 分到 2 時 45 分時，其分針總共移動了多少角度？ (A)270(B)480(C)22.5(D)40 度。
(4)	(A)	<u>臺灣</u> 俚語有不少俏皮話，既好玩又有趣。下列各組俏皮話及其對應詞，何者有 <u>誤</u> ？ (A)班會上討論畢業旅行地點，「一人一把號」，吵翻天了：胡鬧 (B)社區 <u>老王</u> 雖然常常罵人，但他是「刀子嘴，豆腐心」，私下卻是常對有困難的人伸出援手：口惡心善 (C)用盡心計想獲得代理權，結果仍被另一家公司搶了去，真是「竹籃子打水」：一場空 (D)比賽場中常見選手們如「八仙過海」般展現其最好的技巧：各顯神通。
(5)	(C)	小勇在沙漠中迷路，目前身邊只有比例尺 1：1,000,000 的地圖可參考而已；若地圖上東北方 3 公分距離有綠洲可獲救，則他實際上應該向東北方再走多少距離？ (A)0.3(B)3(C)30(D)300 公里。
(6)	(A)	「人們常因為不了解自己的弱點而受到責備，然而更多的時候，人們卻恰恰不了解自己的優點所在。人生好似一片土地，有時依自己並不知道自己竟然還潛藏著一座金礦」這段文字主要在說明什麼？ (A)天生我材必有用 (B)天公疼憨人(C)天無絕人之路(D)皇天不負苦心人。
(7)	(C)	有一正三角形的面積為 9，今截去三個角，使成為一個正六邊形，則此正六邊形的面積為何？ (A)2(B)4(C)6(D)8。

(8)	(B)	小綯花了 1 小時 20 分溜冰 40 公里，則 50 公里需耗時間為多久？ (A)120 分鐘(B)100 分鐘(C)1 小時(D)40 分鐘。
(9)	(C)	「從十二月三十日起，太平洋將縮小 20%」，你認為此則廣告應為何者所刊登的？(A)旅遊業者 (B)汽車公司 (C)航空公司 (D)金融機構。
(10)	(D)	下圖中，6 顆黑球和 8 顆白球讓天平平衡，若一顆黑球重 30 公克，用 W 表示一顆白球的重量，哪個算式是正確的？ (A) $W = 8 \div (30 \times 6)$ (B) $W = 6 \div (30 \times 8)$ (C) $W = 30 \times 8 \div 6$ (D) $W = 30 \times 6 \div 8$
		
(11)	(A)	欲將一條鉛線焊成每邊長 25 公分的正方體，則請問共需鉛線長度多少公尺？ (A)3(B)2(C)200(D)300 公尺。
(12)	(A)	花鈹機為高速切削的刀具材質，使用下列何者最為普遍？ (A) 鎢碳鋼 (B) 高碳鋼 (C) 中碳鋼 (D) 高速鋼
(13)	(D)	下列對平鈹機之敘述，何者 <u>不</u> 正確？ (A) 下進料滾軸應略高於台面 (B) 進料滾軸可調整速度 (C) 後壓桿與切削圈同高 (D) 毛料四周均可用平鈹機鈹成直角
(14)	(B)	下圖的體積是多少立方公分？ (A) 68000 (B) 70000 (C) 72000 (D) 75000 。
		
(15)	(C)	木材產生表面僵化的原因是？ (A)加工刀具太鈍(B)材料太濕(C)乾燥處理不當(D)木材本性。

(16)	(C)	<p>下圖是普悠瑪號的座位配置圖，請問下面哪一個座位號碼是靠窗戶的位置？ (A) 20 (B) 27 (C) 30 (D) 35 。</p> <table border="1" data-bbox="679 322 1059 633"> <tr> <td>靠窗</td> <td>靠走道</td> <td></td> <td>靠走道</td> <td>靠窗</td> </tr> <tr> <td>1</td> <td>3</td> <td></td> <td>4</td> <td>2</td> </tr> <tr> <td>5</td> <td>7</td> <td>走</td> <td>8</td> <td>6</td> </tr> <tr> <td>9</td> <td>11</td> <td></td> <td>12</td> <td>10</td> </tr> <tr> <td>⋮</td> <td>⋮</td> <td>道</td> <td>⋮</td> <td>⋮</td> </tr> </table>	靠窗	靠走道		靠走道	靠窗	1	3		4	2	5	7	走	8	6	9	11		12	10	⋮	⋮	道	⋮	⋮
靠窗	靠走道		靠走道	靠窗																							
1	3		4	2																							
5	7	走	8	6																							
9	11		12	10																							
⋮	⋮	道	⋮	⋮																							
(17)	(A)	<p>下圖為一長方體之木塊，若沿虛線所示的位置將木塊鋸成兩塊，則截面圖形為下列哪一個？</p> <p>(A)  (B)  (C)  (D) </p> 																									
(18)	(C)	<p>砂紙有 E 的記號，表示下列何者？</p> <p>(A) 碳化矽一級 (B) 柘榴石 (C) 金鋼砂 (D) 氧化鋁一級</p>																									
(19)	(C)	<p>印刷術之於____，好像____之於蒙恬：</p> <p>(A) 倉頡.....字  (B) 蔡倫.....紙  (C) 畢昇.....筆  (D) 伏帝.....字。</p>																									
(20)	(C)	<p>門窗施工圖中，前視圖需依工作物位置或施工情況來選擇，通常以最能表現工作物之外觀形狀與尺寸大小者為前視，故室外門應以下列何者為為前視圖？</p> <p>(A) 朝向屋內的面 (B) 朝向戶外的面 (C) 能見到活葉軸的面 (D) 能清楚標註尺寸的面。</p>																									