





**勞動部勞動力發展署桃竹苗分署**  
**自辦在職進修訓練甄試參考題型**

<b>訓練班別：室內設計 AutoCAD 繪圖班</b>	
1 ( 1 )	CAD 的含義是?(1)電腦輔助繪圖(2)電腦輔助製造(3)計算與輔助設計(4)電腦工程分析。
2 ( 2 )	在我們把文字「區塊」選取後，要拷貝此段文字要利用?(1)  (2)  (3)  (4)  。
3 ( 2 )	下列工業規格中何者為中國國家標準?(1)ANS(2)CNS(3)JIS(4)ISO。
4 ( 1 )	等角投影圖之等角軸線夾角度量為?(1)30 度(2)60 度(3)90 度(4)120 度。
5 ( 3 )	A0 圖紙可以等分裁剪成 A3 多少張?(1)2 張(2)4 張(3)8 張(4)16 張。
6 ( 2 )	結構平面圖中符號 C，表示為?(1)梁(2)柱(3)樓版(4)基礎。
7 ( 3 )	繪製 1/15 比例圖樣使用下列那一刻度的比例尺最方便? (1)1/100 (2)1/600 (3)1/300 (4)1/200。
8 ( 4 )	地坪鋪磁磚一坪約等於?(1)10 才(2)12 才(3)24 才(4)36 才。
9 ( 3 )	依據建築技術規則規定，分隔建築物內部各不同用途之區劃間之牆壁，稱之為? (1)帷幕牆 (2)外牆 (3)分戶牆 (4)分間牆。
10 ( 1 )	1/2B 通常代表? (1)半磚隔間牆(2)承重牆(3)1/2 梁寬(4)1/2 跨距。