

107 年度自辦職前訓練

時尚飲料輕食專業班 A 期甄試筆試考卷

選擇題(單選題)/智力測驗 25 題、專業科目 25 題/一題 2 分

智力測驗(共 25 題)

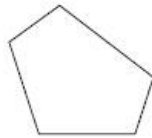
題號 題目

1. 若半打果汁賣 n 元，則 8 瓶賣多少元？(A) $8n$ (B) $4n/3$ (C) $3n/4$ (D) $2n$
2. 4 個連續偶數，若最小的為 x ，則此四數之和為？(A) $4x+4$ (B) $x+12$
(C) $4x+12$ (D) $4x+16$
3. 客諺「冤枉錢水流田，血汗錢萬萬年。」，意思是勸人？(A)靠血汗錢永遠無法致富 (B)家無田產，工作再努力也白費 (C)錢財乃身外之物，應安貧樂道 (D)應生財有道，勿冀望不勞而獲
4. $1+2+3+\dots+10=?$ (A)56 (B)55 (C)47 (D)62
5. 請問下列哪一個不是五角形？

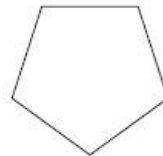
(A)



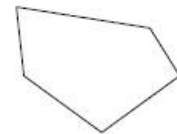
(B)



(C)



(D)



6. 甲時速 4 公里，乙時速 3 公里，車站到學校 24 公里。現在 2 人同時從學校走向車站，問多久之後 2 人都到達車站？(A)8 小時 (B)6 小時
(C) $24/7$ 小時 (D)7 小時
7. 兩部隊人數相等，加入 4 人後，總數為 104 人，問各部隊原有多少人？
(A)48 人 (B)50 人 (C)52 人 (D)54 人
8. 下列「」中的詞，何者用後面的詞代換後意思改變了？(A)「了悟」事理：釋懷 (B)「頓然」明白：突然 (C)「砥礪」節操：磨鍊 (D)「局限」視野：限制。
9. 一人每週工作 40 小時，每小時可得 X 元，超過 40 小時，多一小時可得 $2X$ 元，若一週工作 46 小時，可得多少元？(A) $46X$ 元 (B) $49X$ 元
(C) $52X$ 元 (D) $55X$ 元
10. 人世間的功名富貴不過是□□□□罷了，又何必耿耿於懷呢？(A)曇花一現 (B)滄海一粟 (C)雨後春筍 (D)錦上添花
11. 劉師長已經完成作戰兵棋推演「全盤」計畫。請問與「全盤」相似的意思為？(A)局部 (B)整體 (C)整個 (D)一般

12. 高低：位置=南北：_____。(A)地形 (B)方向 (C)指針 (D)東西
13. 端午節之於_____，好像_____之於花燈。(A)粽子、重陽節 (B)龍舟、元宵節 (C)划船、正月 (D)屈原、小孩
14. 小豪上次抽考數學得 70 分，這次增加 $\frac{1}{5}$ ，這次的成績是幾分？(A)80 分 (B)82 分 (C)84 分 (D)86 分
15. 英、數、理、化。(A)職業 (B)科學 (C)學科 (D)補習
16. 甲比乙多 39 元，乙比丙的 3 倍少 4 元，已知丙有 12 元，問甲有多少元？(A)71 元 (B)39 元 (C)42 元 (D)40 元
17. $A:B=4:5$ ，那麼 A 是 B 的？(A)40% (B)50% (C)60% (D)80%
18. 千金之於_____，好像_____之於女婿。(A)黃金、女兒 (B)白金、兒子 (C)父母、親家 (D)女兒、半子
19. 有一文具店舉行大特價促銷，原子筆 1 枝 10 元，買 5 枝送 1 枝；鉛筆 1 枝 5 元，買 10 枝送 1 枝；橡皮擦 1 塊原價 20 元，1 次買 3 塊特價 50 元。現在秀琴需要原子筆 6 枝，鉛筆 12 枝，橡皮擦 5 塊，而她有現金 500 元鈔票 1 張，則老闆要找他多少錢？(A)185 元 (B)195 元 (C)205 元 (D)305 元
20. 木頭之於_____，好比_____之於生鏽。(A)腐朽、磚塊 (B)破碎、磚塊 (C)腐朽、鐵器 (D)破碎、玉器
21. 有五位小朋友輪流玩兩顆球，而今有 90 分鐘可玩球，若每人玩球時間均相同，請問每人可以玩幾分鐘？(A)10 分鐘 (B)20 分鐘 (C)18 分鐘 (D)36 分鐘
22. 安妮今年 42 歲，依琳比柏娜小 5 歲，而柏娜的年齡為安妮的一半。試問依琳今年幾歲？(A)15 歲 (B)16 歲 (C)17 歲 (D)12 歲
23. 利用數學公式 $(a+b)(a-b)=a^2-b^2$ ，可以簡單計算出 1505×1495 等於多少？(A)2249975 (B)2250025 (C)6249975 (D) 6250025
24. 對尊長的態度應該_____。(A)恭敬 (B)恭維 (C)恭候 (D)鞠躬
25. 杜甫〈登高〉：「無邊落木□□下，不盡長江□□來。」缺空處宜填入？(A)飄飄、脈脈 (B)蕭蕭、滾滾 (C)琅琅、款款 (D)漠漠、盈盈

專業試題(共 25 題)

題號 題目

26. 在水質良好，水量穩定的地區，其咖啡豆的精製方法宜採(A)乾燥法 (B)水洗法 (C)焙煎法 (D)釀造法
27. 卡布奇諾咖啡(Cappuccino)是由熱牛奶、奶泡及濃縮咖啡各多少的比例調製而成？(A)1:1:1 (B)1:2:3 (C)2:3:1 (D)3:1:2

接背面試題

28. 義式咖啡機的沖泡頭應多久清洗一次？(A)每次用完 (B)每天 (C)每週 (D)每月
29. 以一隻小小的單柄銅壺來煮咖啡的是哪一個國家？(A)越南 (B)法國 (C)義大利 (D)土耳其
30. 下列何者屬錫蘭紅茶？(A)大吉嶺茶 (B)阿薩姆茶 (C)尼爾吉里茶 (D)烏瓦茶
31. 下列何者具有賞茶與置茶的功能？(A)茶荷 (B)茶海 (C)茶漏 (D)茶則
32. 下列何者屬於陳年茶？(A)白毫烏龍 (B)鐵觀音 (C)凍頂烏龍 (D)普洱茶
33. 港口茶是臺灣何處生產的茶葉？(A)南投 (B)花蓮 (C)鹿港 (D)屏東
34. 有關咖啡的產地及品名，下列敘述何者錯誤？(甲)巴西—山多士、(乙)肯亞—摩卡、(丙)牙買加—曼特寧、(丁)印尼—藍山。(A)甲乙丙 (B)甲丙丁 (C)甲乙丁 (D)乙丙丁
35. 下列哪一個國家採用水洗式的咖啡豆精製法？(A)巴西 (B)哥倫比亞 (C)衣索比亞 (D)葉門
36. 關於咖啡品種的敘述，下列何者是錯誤的？(甲)阿拉比卡種產量約占全世界70%、(乙)羅巴斯塔種的品質優於阿拉比卡種、(丙)阿拉比卡種，耐旱耐高溫，抗病力較強、(丁)羅巴斯塔種的咖啡因含量較高(A)甲丙 (B)乙丁 (C)丙丁 (D)乙丙
37. 咖啡經過高溫烘焙之後，其變化何者正確？(A)體積減少30% (B)重量增加18~25% (C)烘焙愈深，重量增加愈多 (D)產生濃郁的香氣
38. 製作卡布奇諾(Cappuccino)咖啡，宜採用何種烘焙程度的咖啡豆？(A)肉桂色烘焙 (B)中度烘焙 (C)城市烘焙 (D)義式烘焙
39. 下列哪一種磨豆機，較需要一點經驗與技術？(A)營業用磨豆機 (B)小型電動磨豆機 (C)手搖式磨豆機 (D)Espresso 咖啡專用磨豆機
40. 咖啡調製法之濾壓壺沖泡法的缺點是(A)咖啡不夠香醇濃郁 (B)沉澱物過多 (C)沖泡時間過長 (D)沖泡溫度過高
41. 下列何者不是連鎖飲料店的特色？(A)亮麗時尚的裝潢 (B)豐富多樣的飲品 (C)人數眾多的工作人員 (D)有限的空間規劃
42. 咖啡豆何時研磨為咖啡粉最合適？(A)烘焙好之後 (B)購買時 (C)沖泡之前 (D)隨時皆可
43. 運動飲料中具調節細胞滲透壓之電解質為(A)鈣、磷、鎂 (B)鈉、鉀、氯 (C)鈷、銅、鐵 (D)碘、氯、鋅
44. 下列何者是香氣和滋味並重的茶？(A)龍井茶 (B)包種茶 (C)紅茶 (D)凍頂茶
45. 下列哪一種果汁若未及時飲用顏色會變深？(A)蘋果 (B)鳳梨 (C)西瓜 (D)番茄

46. 國際貿易常使用的報價方法是(A)固定報價 (B)有條件報價 (C)還報價 (D)有利報價
47. 1 盎司丁骨牛排賣 80 元，則 1.5 磅的丁骨牛排該賣(A)1280 元 (B)1920 元 (C)1800 元 (D)2400 元
48. 間接成本不包含(A)餐飲成本 (B)人事成本 (C)營運費用 (D)水電費用
49. 在餐飲業經營管理原則下，若盲目大批預購，會造成何種結果？(A)既方便又節省 (B)有效利用庫房空間 (C)增加食物腐爛及員工偷竊行為 (D)可降低投資成本
50. 進行餐飲採購第一個要注意的原則是(A)適時的交貨 (B)適當的品質 (C)適當的數量 (D)合適的物料

交卷時請連同答案卷一起繳回

勞 動 部 勞 動 力 發 展 署 桃 竹 苗 分 署

1 0 7 年 自 辦 職 前 訓 練

筆試答案卷

班別：時尚飲料輕食專業班 A 期 號碼：_____ 姓名：_____

1	2	3	4	5	6	7	8	9	10
B	C	D	B	A	A	B	A	C	A
11	12	13	14	15	16	17	18	19	20
B	B	B	C	C	A	D	D	D	C
21	22	23	24	25	26	27	28	29	30
D	B	A	A	B	B	A	B	D	C
31	32	33	34	35	36	37	38	39	40
A	D	D	D	B	D	D	D	B	B
41	42	43	44	45	46	47	48	49	50
C	C	B	D	A	A	B	A	C	D

錄取名單將於甄試後 5 個工作天下午五時前公告於本分署網頁最新消息