

勞動部勞動力發展署高屏澎東分署
105 年度第 10 梯次職前訓練招訓甄試試題
【適用職類：旅遊從業人員】

准考證號：

姓 名：

◎親愛的考生，您好

為瞭解職業訓練訊息露出管道效益，請您撥冗勾選由何種管道得知本次招訓訊息(可複選)：親友同學介紹曾經參加職業訓練台灣就業通網站本分署網站其它政府機關網站：_____

入口網站(如 Google、Yahoo)關鍵字搜尋 賈蕾妮 FB招生海報
報紙廣播第四台跑馬燈捷運站內電視公車亭廣告公車車體廣告招生布條其它：_____

選擇題：100 分每題 2 分，共 50 題單選題。(答錯不倒扣)

- (4) 1. 陳勝「斬木為兵，揭竿為旗」，卻能一舉而瓦解強秦，其憑藉為何 (1)人才 (2)神力 (3)兵器 (4)時勢
- (2) 2. (甲)創作不「綴」、(乙)備受「呵」護、(丙)室內裝「篁」、(丁)沉思「暝」想，以上用字正確為：
(1)甲 (2)乙 (3)丙 (4)丁
- (1) 3. 〈過秦論〉：「仁義不施，而攻守之勢異也。」「攻守之勢」意指
(1)昔攻今守之勢 (2)昔守今攻之勢 (3)以攻為守之勢
(4)先守後攻之勢
- (4) 4. 「你的書齋也許華貴，而我的簡樸，但我不愛你的華貴而愛我的簡樸。」根據句意，作者對於書齋的態度是：
(1)安然無恙 (2)安步當車 (3)安內攘外 (4)安貧樂道

- (3) 5. 語文中以其他相關的名稱或語詞來代替的修辭方法，稱為「借代」，下列借代修辭錯誤的是：
- (1) 僂僂借代老人 (2) 垂髫借代小孩 (3) 提攜借代老人
(4) 絲竹借代音樂
- (4) 6. 下列「 」內的詞語，不是罵人之詞的選項是
- (1)「豎子」！不足與謀(2)「庸奴」！此何地也，而汝來前 (3)
「鯁生」說我曰：距關，毋內諸侯(4)吾今日壓倒「老生」矣
- (1) 7. 下列各詞語，皆代表一個不同的時間，試從早晨到夜晚，依序排列：(甲) 亭午 (乙) 申時 (丙) 五更
- (1) 丙甲乙 (2) 丙乙甲 (3) 甲乙丙 (4) 乙丙甲
- (2) 8. 中國古典小說中，常借詩詞以增添小說的藝術性。請問何詩最可能出現在《紅樓夢》中？
- (1) 滾滾長江東逝水，浪花淘盡英雄。是非成敗轉頭空，青山依舊在，幾度夕陽紅。
- (2) 滿紙荒唐言，一把辛酸淚。都云作者癡，誰解其中味？
- (3) 玉階寂寞墜秋露，月照當時歌舞處；當時歌舞人不回，化為今日西陵灰！
- (4) 天地生成靈混仙，花果山中一老猿。水簾洞裡為家業，拜友尋師悟太玄。
- (3) 9. 世人都曉神仙好，惟有□□忘不了。古今將相在何方？荒塚一堆草沒了！
- 世人都曉神仙好，只有□□忘不了。終朝只恨聚無多，及到多時眼閉了！
- 世人都曉神仙好，只有□□忘不了。君生日日說恩情，君死又隨人去了！
- 世人都曉神仙好，只有□□忘不了。癡心父母古來多，孝順子孫誰見了！

上述為《紅樓夢》第一回之〈好了歌〉，歌詞中缺空的部分依序宜填入：

- (1)功名／嬌妻／兒孫／金銀 (2)兒孫／金銀／嬌妻／功名
(3)功名／金銀／嬌妻／兒孫 (4)金銀／嬌妻／功名／兒孫

(4) 10. 「滄海之一粟」意同於：

- (1)蒼顏白髮 (2)白雲蒼狗 (3)布帛菽粟 (4)九牛一毛

(1) 11. 文學作品常見由作者提問，又由作者自答的表現方式。下列文句，不屬於此類表達方式的選項是：

- (1)便縱有、千種風情，更與何人說？
(2)問君能有幾多愁？恰似一江春水向東流
(3)天下英雄誰敵手？曹劉
(4)今宵酒醒何處？楊柳岸、曉風殘月

(3) 12. 下列對台灣諺語的解釋，何者有誤？

- (1) 送佛送到西——好人做到底
(2) 一暝全頭路，天光無半步——整個晚上腦海中有很多計劃，可是天亮以後什麼也做不出來
(3) 十指伸出，無平長——人生不如意十之八九
(4) 三年一閏，好歹照輪——指人的一生不可能永遠保持好運，總是有好、壞運交替的時候

(3) 13. 下列各文句，何者所透露的季節和其他三者不同？

- (1) 泥褐色翻滾的麥浪中，有萬鴉嘎然飛過
(2) 莫道不消魂，簾捲西風，人比黃花瘦
(3) 整條山徑鋪上了油桐花編織的白色長毯
(4) 今日太陽回到赤道上，明日起，太陽進入南半球

(3) 14. 下列各文句中，何者沒有錯別字？

- (1) 一個心地純良又熱烈的藝術家，生活逼到決境時，反而促

成創作力的火花併現

- (2) 梵谷的油畫好像是色盲的人畫的風景畫，但亦有粗曠原始的風味
- (3) 家生的雞群，黃昏時被趕入雞埕時，也是要焦躁地吵鬧一番才入睡
- (4) 我們約定，必定要找個假日完成這未盡之旅

(4) 15. 「晴川歷歷漢陽樹」意謂：

- (1) 太陽照著清澈的河水，不斷地流向漢陽樹
- (2) 在晴空之下的河，能清楚看到漢陽樹的倒影
- (3) 晴朗的天空下，河水歷歷不停地流，映出漢陽樹的翠綠
- (4) 在晴天時，可以分明地看到河對岸漢陽的樹木

(1) 16. 下列成語皆出於《韓非子》，請選出語意使用正確者：

- (1) 生病不去就醫，反而一味迷信偏方的行為，無疑是「買櫝還珠」
- (2) 小毛趁著公司週年慶，「買履信度」的試穿了許多名牌鞋，高興得通通買回家
- (3) 雨下到連汽車雨刷都刷不掉眼前的水幕，開車簡直是「目不見睫」，非常危險
- (4) 為了避免「色衰愛弛」的情況發生，她一直不敢跟認識已久的網友見面

(3) 17. 古人很喜歡「詠物」，自然萬物，大至山川河流，小至花鳥蟲魚，都可以成為詩人描摹的對象，託物言志。及至現代，詩歌創作上對於「物」的描摹亦極常見。下列詩歌與所詠之物，何者配對錯誤？

- (1) 走過／才知道那是中年／以後弄皺了的／一張臉／凹的是舊疾／凸的是新傷／談笑之間／有人說／涼拌最好：苦瓜

(2) 感謝你們／對於我／小小的存在／還報予／生命最熱烈的
／掌聲：蚊子

(3) 只有翅翼／而無身軀的鳥／在哭與笑之間／不斷飛翔：眼睛

(4) 憨直的傻小子／幾度落髮／幾度還俗：山

(4) 18. 下列「 」中的讀音，何者前後相同？

(1) 「喁喁」細語 \ 登樓「顛」望

(2) 舊志誤「謬」 \ 未雨綢「繆」

(3) 莫可阻「遏」 \ 干「謁」公卿

(4) 「俾」能自立 \ 「裨」補闕漏

(4) 19. 下列「 」的讀音，正確的是：

(1) 《「樂」城集》：ㄉㄛˇ \ (2) 求「謁」：ㄌㄧˊ

(3) 倉「廩」：ㄨㄥˇ \ (4) 「汨」沒：ㄍㄨˋ

(1) 20. 〈燭之武退秦師〉：「因人之力而敝之，不□；失其所與，不□；以亂易整，不□。」以上文句中□，依序可填入：

(1)仁；知；武 (2)忠；孝；仁 (3)信；望；愛 (4)智；仁；勇

(3) 21. 一個蘋果切了一半後，又切了一半，拿其中的一塊是多少？

(1) $\frac{1}{2}$ (2) $\frac{1}{3}$ (3) $\frac{1}{4}$ (4) $\frac{1}{5}$ 。

(3) 22. 想要製作一張一平方公尺的正方形海報，請問此正方形邊長需為多少公分？

(1)1 公分(2)10 公分(3)100 公分(4)1000 公分

(3) 23. 95463218 中的十萬位的數字是多少？(1)9 (2)5 (3)4 (4)6

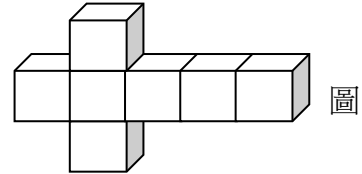
(3) 24. $5\frac{1}{3} - \frac{2}{7} - 1\frac{5}{8}$ 的計算過程和下列哪個式子不一樣？

(1) $5\frac{1}{3} - (\frac{2}{7} + 1\frac{5}{8})$ (2) $(5-1) - (\frac{2}{7} + \frac{5}{8} - \frac{1}{3})$

(3) $5 - \frac{1}{3} - \frac{2}{7} - 1\frac{5}{8}$ (4) $5\frac{1}{3} - \frac{5}{8} - 1\frac{2}{7}$

(1) 25. 0×9999 比 $0 + 9999$ 的答案？(1)小(2)大(3)相等(4)無法比較

(4) 26. 七個正立方塊疊成右圖的形狀，



若這七個正立方塊的表面積為

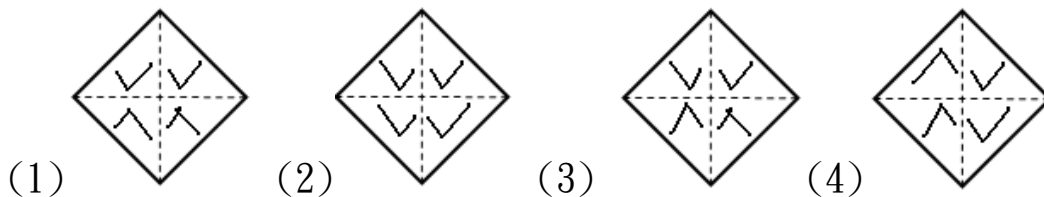
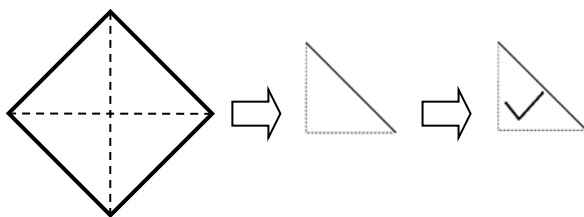
1 平方單位，則一個正立方塊的一個面的面積為多少平方單位？

(1)1 (2) $\frac{1}{14}$ (3) $\frac{1}{26}$ (4) $\frac{1}{30}$

(3) 27. 將數字 0、1、2、3 組合成一個四位數，這四位數是奇數的有多少種組合方式？(1) 4 (2) 6 (3) 8 (4) 16

(2) 28. 將 60 寫成兩個大於 1 的正整數乘積，這兩個正整數相加的和最大是哪一個？(1) 61 (2) 32 (3) 23 (4) 19

(3) 29. 一張紙張對摺兩次摺成如下圖，今在三角形內剪下一個 \checkmark ，將紙張全部打開後，那一張是剪下後的正確圖案？



(3) 30. 小明上午 7:30 以前到學校，早上起來刷牙時間為 8 分鐘，穿衣服時間為 6 分鐘，吃早餐時間為 20 分鐘，走路到學校為 15 分鐘，

整理書包時間為 4 分鐘，則小明的起床時間最晚應在幾點幾分之間？(1) 6:20~6:25 (2) 6:25~6:30 (3) 6:30~6:35

(4) 6:35~6:40

(2) 31. 將 $\frac{3}{7}$ 化成小數後，小數點右邊第 50 位數字為何？

(1) 4 (2) 2 (3) 7 (4) 1

(3) 32. 大高雄 電子商城出售電腦零組件，訂出現有價格 50% 再 50% 的售價，則兩次打折後的價格為原價的多少%？

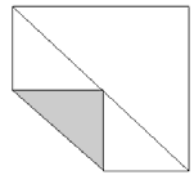
(1) 75 (2) 50 (3) 25 (4) 20

(2) 33. 一顆圓形水晶球用紙盒來包裝，若紙盒的體積為 600 立方公分，則水晶球的最大直徑為多少公分？

(1) 9 (2) 8 (3) 7 (4) 6

(4) 34. 將一張正方形紙張中的一角摺到對角線正中央位置，如下圖。若

灰色部分面積有 24 平方公分，則原來正方形紙張的面積為多少平方公分？



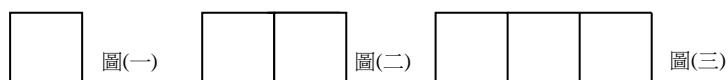
(1) 72 (2) 96 (3) 168 (4) 192

(4) 35. 從台灣的富貴角到鵝鑾鼻的實際距離為 395.5 公里，在地圖上的距離為 11.3 公分，則此地圖的比例尺為多少？(1) 1 : 35 (2) 1 :

350 (3) 1 : 3500 (4) 1 : 3500000

(2) 36. 用等長的牙籤依次向右排出相連的正方形，如下圖。請問第十個

圖形用了幾根牙籤？(1) 28 根 (2) 31 根 (3) 34 根 (4) 40 根



(4) 37. 小強想到山頂欣賞日出，目前已走完全程的五分之三，再走 12.9

公里，則剩下全程的 0.25 的路程，請問要爬上山頂要走的全程是幾公里？

(1) 21.5 公里 (2) 30.96 公里 (3) 51.6 公里 (4) 86 公里

(3) 38. $甲 \times \frac{4}{5} = 乙 \times \frac{2}{3}$ ，乙是甲的幾倍？(1) $1\frac{7}{8}$ (2) $\frac{8}{15}$ (3) $1\frac{1}{5}$ (4) $\frac{5}{6}$

(2) 39. 下列算式何者與 $4 \div \frac{1}{3} \div 2$ 的答案相同？(1) $4 \times \frac{1}{3} \times \frac{1}{2}$ (2) $4 \times 3 \times \frac{1}{2}$

(3) $4 \times \frac{1}{3} \times 2$ (4) $4 \times 3 \times 2$

(1) 40. 地圖上的比例尺為 1 : 70000，表的是的是：(1) 地圖上距離與實際距離的比(2) 地圖上面積與實際面積的比(3) 地圖上高山數與實際高山數的比(4) 地圖上房屋數與實際房屋數的比

(4) 41. 生態旅遊解說的最終目的，是希望遊客與解說標的物之間的關係達到何種層次？(1) 知覺改變 (2) 認知改變 (3) 態度改變 (4) 行為改變

(2) 42. 旅行業辦理大陸地區人民來臺從事觀光業務，應指派或僱用(1) 至少領有華語導遊執業證人員二名(2) 至少領有華語導遊執業證人員一名(3) 至少領有外語導遊執業證人員一名(4) 至少領有外語導遊及華語導遊執業證人員各一名

(3) 43. 旅遊行程因沿途塞車延誤時，導遊為避免旅館誤認團體不來而將房間賣出，應如何處理？(1) 請司機加速，儘快到達旅館(2) 告知旅館已快到達了，不必先取房間號碼(3) 先聯絡旅館告知到達時間，同時取得團體所需的房間號碼(4) 依一般車速到達旅館以策安全，不必聯絡

(4) 44. 下列何者為影響旅遊消費行為的個人因素？(1) 意見領袖 (2) 參考團體 (3) 社會階層 (4) 生活型態

(1) 45. 動機可分為「生理性」與「心理性」兩大類，下列何者不是心理性的動機？(1) 飲食 (2) 成就 (3) 文化 (4) 地位和聲望

- (2) 46. 身材過於肥胖的客人，若搭乘經濟艙需佔用兩份座位時，航空公司的處理原則為何？(1)請其直接升等至商務艙(2)加收票價，並給予其兩份座位(3)要求客人補差額，讓其搭乘商務艙的座位(4)要求其額外購買商務艙的座位，否則不允許其搭機
- (2) 47. 日本料理店所提供的濕手巾，是讓客人擦拭什麼用的？(1)頸 (2)手 (3)臉 (4)嘴
- (3) 48. 下列何項物品是在離開旅館時可以免費帶走的？(1)菸灰缸 (2)浴袍 (3)小肥皂 (4)浴巾
- (4) 49. 遞送或接受名片時，下列哪一種行為不合乎禮儀規範？(1)遞送者雙手齊胸奉上(2)遞送者將名片的字體正面朝向對方(3)接受者複誦對方名字(4)接受者隨手放入口袋
- (3) 50. 西餐進餐中途，若餐具掉落應如何處理？(1)自己撿 (2)請別人幫忙撿 (3)請服務生換一副新的 (4)拿別的餐具代替