

110 年度自辦職前訓練



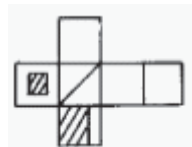
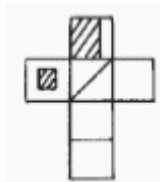
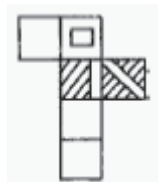
創意商品設計 第 1 期 二次甄試筆試考卷

選擇題(單選題)/智力測驗 25 題、專業科目 25 題/一題 2 分

考試不得使用計算機

智力測驗(共 25 題)

題號 題目

- 「若能在問題還沒擴大之前先未雨綢繆、____，就不用花這麼多時間心力在處理後續賠償事宜了。」下列選項何者適合填入空格處？
(A)否極泰來 (B)刻舟求劍 (C)防微杜漸 (D)池魚之殃。
- 請選出下列句子內不適宜的選項。
這對情侶/經過了八年的愛情長跑/終於自食惡果/結成了佳偶。
(A) (B) (C) (D)
- 「掮客」指：
(A)皮條客 (B)挑夫 (C)促成交易的中間人 (D)奸惡之徒。
- 在試題中，四個答案內僅有一個答案與其他三個不符，請將它挑出。
(A)春 (B)秋 (C)夏 (D)寒。
- 下列各組成語的關係，何者與其他三者不同？
(A)寅吃卯糧/入不敷出 (B)風聲鶴唳/草木皆兵 (C)藐小微物/滄海一粟 (D)明察秋毫/不見輿薪。
- 
(A)  (B)  (C)  (D) 
- $\frac{1}{32}, \underline{\quad}, \frac{1}{8}, \frac{1}{4}, \frac{1}{2}$
(A) $\frac{1}{20}$ (B) $\frac{1}{18}$ (C) $\frac{1}{16}$ (D) $\frac{1}{12}$ 。
- 長方體的高
(A)體積÷長÷寬 (B)體積÷長 x 寬 (C)體積 x 2÷長÷寬 (D) 體積÷長÷寬÷2。
- 鋼筆一打，定價 120 元，現在特別特價，照定價七五折後再打九折，實際售價為多少？
(A)72 (B)81 (C)87 (D)90。
- $13 \times 3 + 7 \times 3 = ?$
(A)39 (B)21 (C)60 (D)76。
- 教師：學校 = 醫生：____
(A)病房 (B)醫院 (C)病床 (D)西藥房。

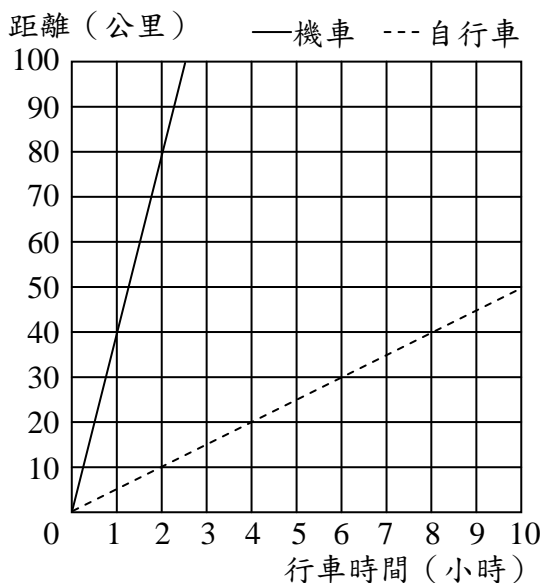
12. 請找出下列選項中，「覺」讀音與其他三個不同者。
 (A)覺醒 (B)發覺 (C)睡一覺 (D)覺得好冷。
13. 西方哲學家說：「諾亞建造方舟時，天可沒一直下著雨。」這句話意同哪一句成語？
 (A)亡羊補牢 (B)未雨綢繆 (C)有志竟成 (D)班門弄斧。
14. 下列各選項中的數量詞，何者使用不當？(A)他在海邊撿到「一枚」龍宮貝殼 (B)她穿著「一襲」高雅的旗袍出席盛會 (C)「一輪」皎潔的明月高掛天空 (D)她有著一副好歌喉，也寫得「一首」好字。
15. 下面哪一個不是用來形容動作的短語？
 (A)抓頭思索 (B)嘟著嘴巴 (C)堅持信念 (D)高興得舉手大喊。
16. 爸爸身高是 1.8 公尺，爸爸比媽媽高 24 公分，媽媽身高是幾公分？
 (A)156 公分 (B)158 公分 (C)160 公分 (D)162 公分。
17. 下面是自強號火車的票價表，小照從松山坐到竹南，要花多少元？

松山									
23	臺北								
31	23	板橋							
81	66	50	桃園						
103	89	72	23	中壢					
192	177	161	111	89	新竹	(單位：元)			
235	220	204	154	132	43	竹南			
383	369	352	303	280	191	148	清水		

- (A) 31 元 (B) 192 元 (C) 235 元 (D) 383 元。
18. 六年甲班有 20 人，有 50%的人參加舞動青春；六年乙班有 30 人，有 40%的人參加舞動青春，兩個班參加舞動青春人數加起來，占兩個班總人數的百分率是多少？
 (A) 44% (B) 46% (C) 60% (D) 65%。

【第19~20題題目】

下圖是機車和自行車的行車時間與距離的關係圖：



機車和自行車的行車時間與距離的關係圖

19. 機車和自行車的時速各是多少？
 (A) 機車：35km/hr，自行車：6 km/hr (B) 機車：40km/hr，自行車：5 km/hr (C) 機車：40km/hr，自行車：10 km/hr (D) 機車：45km/hr，自行車：5 km/hr。

20. 自行車騎 30 公里，需要多久的時間？
(A)4 小時 (B)5 小時 (C)6 小時 (D)7 小時。
21. 「三思而後行」用「三」來表示「多」。下列選項中的「三」字，何者用法與此相同？
(A)三更燈火五更難 (B)逢人只說三分話 (C)貨比三家不吃虧 (D)判官還講三分理。
22. 「白茫茫的蘆花，像巨龍在風中翻滾。」從這一段文章可以知道發生的季節是？
(A)春 (B)夏 (C)秋 (D)冬。
23. 「哇□熱死人了□我們去街角的那家冰品店□清涼冰品店，吃碗冰，消消暑好嗎□」上句□處依序應填入何組標點符號？
(A)！？……！ (B)：，：？ (C)；，——？ (D)！！——？
24. 下列「」中的注音寫成國字後，何組字形相同？
(A)環「ㄉㄨㄛˋ」蕭然 / 先「ㄉㄨㄛˋ」為快 (B)醃魚「ㄉㄨㄛˋ」肉 / 隆冬「ㄉㄨㄛˋ」月
(C)平「ㄉㄨㄛˋ」沃野 / 運「ㄉㄨㄛˋ」帷幄 (D)「ㄉㄨㄛˋ」帚自珍 / 坐以待「ㄉㄨㄛˋ」。
25. 以下「」中的相似字，何組字音前後相同？(A) 敝車「羸」馬 / 「羸」得勝利 (B) 飯後「剔」牙 / 自我警「惕」 (C) 垂死掙「扎」 / 穩「紮」穩打 (D) 筋疲力「竭」 / 昭然若「揭」。

專業試題(共 25 題)

題號 題目

26. 針對膨脹色與收縮色的定義，何者正確？(A)膨脹色屬於距離心理感的後退色 (B)收縮色屬於溫度心理感的溫暖色 (C)膨脹色明度較低 (D)收縮色彩度較弱。
27. 色彩的心理感覺中何者與彩度高低有直接關係？(A)色彩的溫度心理感覺 (B)色彩的面積心理感覺 (C)色彩的造形心理感覺 (D)色彩的氣候心理覺。
28. 下列何種條件差異愈大，明視度愈高？(A)色相差 (B)色調差 (C)彩度差 (D)明度差。
29. 純色在黑色背景上，何者注目性最高？(A)黃圖黑底 (B)紫圖黑底 (C)黃橙圖黑底 (D)青紫圖黑底。
30. 由下筆的一個點開始畫到線條結束時，與起始點相同為 (A)幾何曲線 (B)自由曲線 (C)閉鎖曲線 (D)拋物曲線。
31. 下列各色彩中何者的明度最高？ (A)藍色 (B)紅色 (C)綠色 (D)黃色。
32. 「明度」意謂由黑到白的亮度層次，較暗的顏色如：深藍色，是屬於(A)輕明度 (B)重明度 (C)高明度 (D)低明度。
33. 下列哪一個是屬於點立體？ (A)浮雕 (B)屏風 (C)綠豆 (D)指甲彩繪。
34. 物體表面光滑與粗糙的感受，稱為： (A)形態 (B)質感 (C)性質 (D)材質。
35. 設計構成要素中最小的單位是 (A)體 (B)點 (C)線 (D)面。
36. 現代設計的科技工具為何 (A)數位化、電腦 (B)網路 (C)精細繪圖 (D)複製。
37. 十八世紀時期的洛可可風格 (Rococo)，其特色在於呈現何種美感？
(A)優雅、輕快 (B)神聖、莊重 (C)韻律、躍動 (D)權威、誇耀。
38. 在 Photoshop 中，下列那個快速鍵可以放大「筆刷」的尺寸。(A)鍵盤上的「}」鍵 (B)鍵盤上的「{」鍵 (C)Ctrl+「+」(Windows)或 Command+「+」(Mac) (D)Ctrl+「-」(Windows)或 Command+「-」(Mac)。
39. 網頁上無法使用的圖形檔案格式有哪些？(A)JPG (B)GIF (C)PSD (D)PNG
40. 影像的亮度在黑白影像中稱為？(A)灰階 (B)色階 (C)色相 (D)飽和度。

41. 在索引色模式下，影像包含多少種顏色。(A)1,670 萬色 (B)256 色 (C)65 萬色 (D)1600 萬色。
42. 拖曳 A 影像到目的地 B 影像中，在拖曳過程中按住哪個按鍵，此時 A 影像會自動將自己擺放到目的地 B 影像的中心。(A)Shift (B)Ctrl(Windows)或 Command(Mac) (C)CapsLock (D)Alt(Windows)或 Option(Mac)。
43. 影像的亮度在彩色影像中稱為？(A)灰階 (B)色階 (C)色相 (D)飽和度。
44. 下列何種影像格式提供未經處理過的原始影像？(A)JPG (B)TIFF (C)PSD (D)RAW
45. 長期使用 Photoshop 軟體之後，可能會因為操作的緣故而變動了各項工具的預設設定，因而使影像設計工具在操作時呈現非預設的結果。為此操作者可以利用重設 Photoshop 軟體的偏好設定來消除各項工具的設定，然後回到最初的預設狀態。請問要執行甚麼指令以重設 Photoshop 偏好設定？(A)編輯>預設集>預設集管理員 (B)編輯>預設集>遷移預設集 (C)編輯>偏好設定>一般>結束時重設偏好設定 (D)編輯>偏好設定>一般>重設全部警告對話框。
46. 在 Photoshop 中工作時，為了便於進行常用的操作，您可以將常用的工具面板配置到軟體工作視窗中，再將之儲存為「工作區」設定。請問要如何將已經配置好的設定儲存為自訂的「工作區」？(A)執行：視窗>工作區>新增工作區 (B)執行：視窗>工作區>重設工作區 (C)執行：編輯>鍵盤快速鍵，在應用程式選單中儲存工作區 (D)執行：編輯>偏好設定>介面，在顯示的視窗中儲存工作區。
47. 在 Photoshop 中處理影像時，通常使用「ppi」做為影像的螢幕解析度單位，請問 ppi 是下列何者的縮寫？(A)Points Per Inch (B)Picas Per Inch (C)Pitches Per Inch (D)Pixels Per Inch。
48. 請問 () 「海綿工具」的作用為何？(A)使影像銳利化 (B)使影像模糊化 (C)提升或降低影像的色彩飽和度 (D)提升或降低影像的明亮度。
49. 在圖層遮色片中，繪製黑色與白色的功能為何？(A)黑色隱藏影像，白色顯現影像 (B)黑色羽化影像，白色強調影像 (C)白色隱藏影像，黑色顯現影像 (D)白色羽化影像，黑色強調影像。
50. Photoshop 預設的色彩模式為？(A)RGB (B)CMYK (C)HSB (D)LAB。

交卷時請連同答案卷一起繳回

勞 動 部 勞 動 力 發 展 署 桃 竹 苗 分 署

1 1 0 年 自 辦 職 前 訓 練

創意商品設計第 1 期二次甄試

筆試答案卷

班別：

號碼：

姓名：

1	2	3	4	5	6	7	8	9	10
C	C	C	D	D	A	C	A	B	C
11	12	13	14	15	16	17	18	19	20
B	C	B	D	C	A	C	A	B	C
21	22	23	24	25	26	27	28	29	30
C	C	D	B	C	D	B	D	A	C
31	32	33	34	35	36	37	38	39	40
D	D	C	C	B	A	A	A	C	A
41	42	43	44	45	46	47	48	49	50
B	A	B	D	C	A	D	C	A	B

錄取名單將於甄試後5個工作天下午五時前公告於本分署網頁最新消息