

勞動部勞動力發展署高屏澎東分署
109 年度第 3 梯次職前訓練招訓甄試試題

【適用職類：冷凍空調配線、網拍多媒體行銷、室內配線及物流從業人員】

座位號碼：_____


姓 名：_____

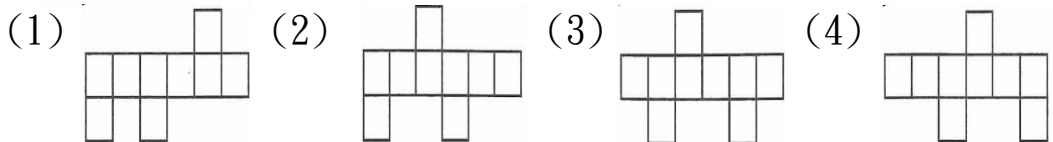
◎親愛的考生，您好

為瞭解職業訓練訊息露出管道效益，請您撥冗勾選由何種管道得知本次招訓訊息(可複選)：親友同學介紹曾經參加職業訓練
台灣就業通網站本分署網站其他政府機關網站：_____

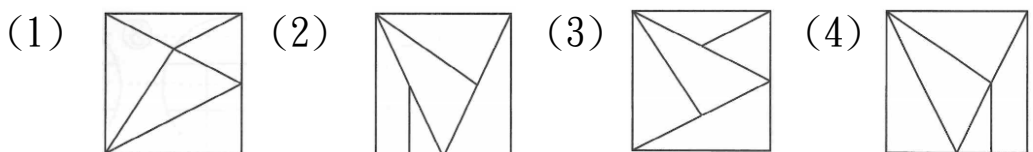
入口網站(如 Google、Yahoo)關鍵字搜尋賈蕾妮 FB招生海報報紙廣播招生布條高捷車廂廣告校園宣導其它：_____

選擇題：100 分每題 2 分，共 50 題單選題。(答錯不倒扣)

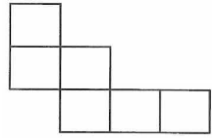
(3) 1.  選出與左圖相同的圖形。



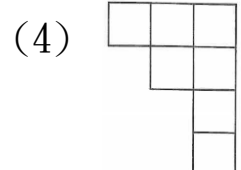
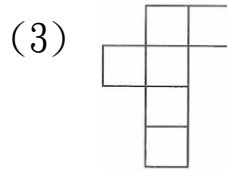
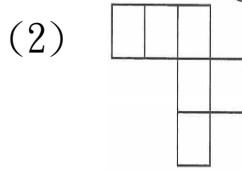
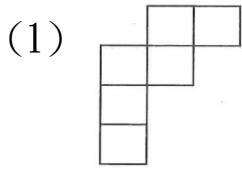
(4) 2.  選出左圖移轉後之圖形。



(1) 3.



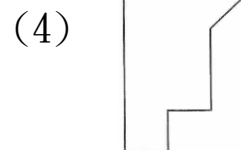
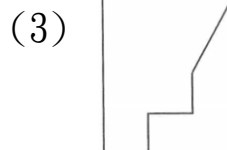
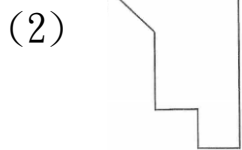
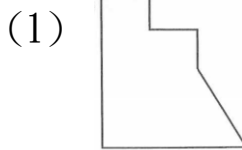
選出左圖移轉後之圖形。



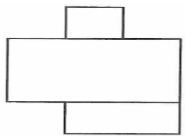
(3) 4.



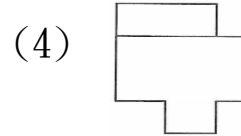
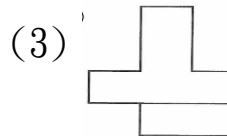
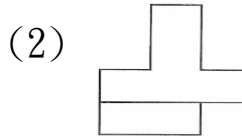
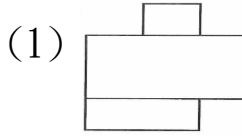
左右對稱圖形測驗。



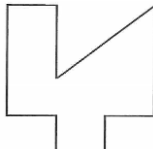
(1) 5.



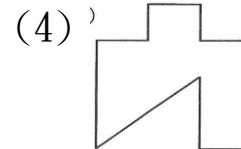
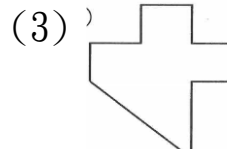
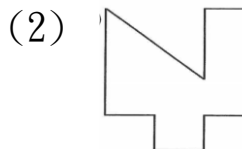
左右對稱圖形測驗。



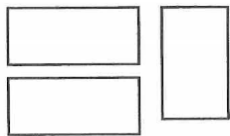
(2) 6.



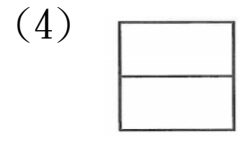
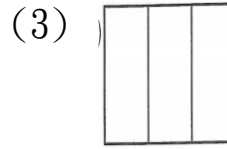
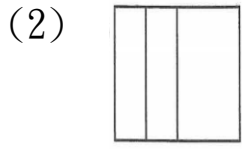
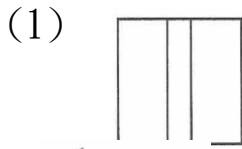
左右對稱圖形測驗。



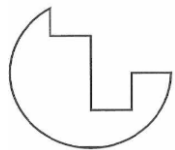
(3) 7.



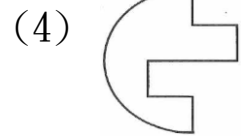
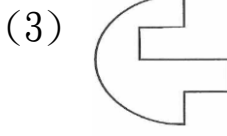
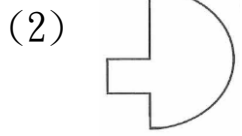
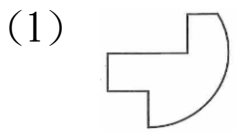
圖形組合測驗。



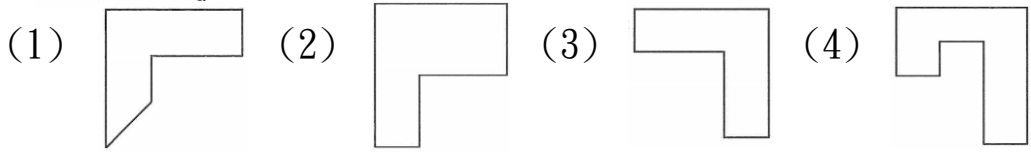
(1) 8.



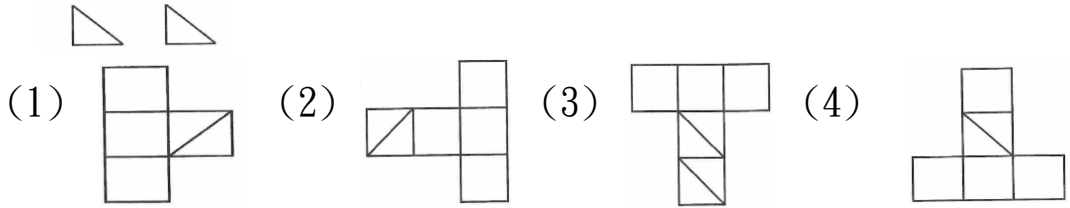
圖形補合測驗。



(1) 9.  圖形補合測驗。



(1) 10.  圖形組合測驗。



(3) 11. 比喻先後次序顛倒，或輕重緩急失序。(1)比手畫腳(2)畢恭畢敬(3)本末倒置(4)避重就輕。

(2) 12. 勢力不能達到，或管不著的地方。(1)表裡如一(2)鞭長莫及(3)便宜行事(4)兵荒馬亂。

(1) 13. 「擇其善者而從之；其不善者而改之。」這與下列哪一項道理相通？

(1)見賢思齊，見不賢而內自省(2)知過能改，善莫大焉(3)學如不及，猶恐失之(4)近朱者赤，近墨者黑。

(4) 14. 那是完全不同的兩件事，怎麼可以

(1)先聲奪人(2)畏首畏尾(3)傷風敗俗(4)相提並論。

(1) 15. 下列詞語的運用何者欠妥？

(1)他這種「不愠不火」、毫不妥協的個性，連對手都敬畏他(2)夏天一面看報紙，一面大啖西瓜「不亦樂乎」(3)人應知「見賢思齊」的道理，並且把不好的習性逐漸改善(4)他無法堅持最後五分鐘，「未成一簣」真是可惜。

(2) 16. □□見到他，我要向他道謝。

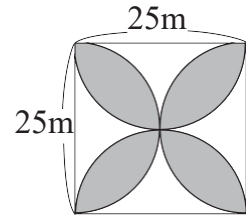
(1)然後(2)下次(3)一再(4)一直。

- (2)17. 「把酒」問青天。「把酒」意指
(1)敬酒(2)拿起酒杯(3)買酒(4)喝醉酒。
- (4)18. 「向晚」意不適，驅車登古原。夕陽無限好，只是近黃昏。意同
(1)夜晚(2)清晨(3)中午(4)傍晚。
- (2)19. 「知足」的相反詞是
(1)想念(2)貪心(3)高興(4)無知。
- (3)20. 下列何者與秋天無關？
(1)收穫(2)月餅(3)驚蟄(4)文旦。
- (4)21. 下列何者不可以唸「ㄅㄨㄛˋ」？
(1)「暴」虎馮河(2)「暴」殄天物(3)「暴」跳如雷(4)一「暴」十寒。
- (4)22. 下列何者有誤？
(1)「舐」犢情深：尸ˋ(2)悲天「憫」人：冂一ㄣˇ(3)銷聲「匿」跡：ㄋㄧˋ(4)罪「魁」禍首：ㄍㄨㄞˋ。
- (1)23. 以下各句何者完全「沒有」錯別字？
(1)父母細緻的呵護著兒女(2)勿玩日渴歲，因循泄沓(3)要抵志勵行、慎密分析(4)松柏艱忍渡過凜冽寒冬。
- (4)24. 選出錯誤者。
(1)涓滴不剩(2)萬丈深淵(3)琅璫入獄(4)人神共奮。
- (1)25. 下列詞語何者正確？
(1)慘澹經營(2)犯難之交(3)仿冒商標(4)變換莫測。
- (2)26. 下列字音寫成國字後，何者兩兩相同？
(1)甘食「ㄎㄨㄛˋ」衣／美好「ㄎㄨㄛˋ」快(2)驕「ㄐㄧㄠ」自誇／「ㄐㄧㄠ」持莊重(3)大雨滂「ㄆㄨㄥ」／轉啊轉的「ㄆㄨㄥ」螺(4)既往不「ㄐㄧㄠ」／功成名「ㄐㄧㄠ」。

- (1)27. 下列各詞語，何者有錯別字？
(1)崇高的理想(2)半途而廢(3)虛度美好的一生(4)毫不猶豫。
- (3)28. 「好整以暇」的意思是
(1)喜歡在暇日整理環境(2)愛好遊手好閒，作弄他人(3)從容不迫的樣子(4)充分利用空閒時間。
- (1)29. 以下各組詞語「」內的字，何者錯誤？
(1)翻「繹」馬克的名著(2)可歌可「泣」的故事(3)一群白鷺「沐」浴在晚風裡(4)他們兩人交情甚「篤」。
- (4)30. 下列何組詞語可用來比喻「妄想不勞而獲，坐享其成」？
(1)臥薪嚐膽(2)刻畫入微(3)出類拔萃(4)守株待兔。
- (1)31. 已知三角形的三邊長是 7, 3, 甲，則甲「不可能」是下列何數？
(1)3(2)5(3)7(4)9。
- (4)32. A、B、C 三公車同時在 AM6: 00 開出，A、B、C 公車各以每 18 分鐘、6 分鐘、5 分鐘開一班，下次 A、B、C 公車同時開出的時刻是什麼時間？
(1)AM6: 30(2)AM7: 36(3)AM6: 45(4)AM7: 30。
- (4)33. 某商店把定價 24000 元商品打九五折賣出，還有 14%的利潤，則其成本為多少元？
(1)19800 元(2)19600 元(3)19500 元(4)20000 元。
- (3)34. 有一正多邊形，其內角和 3240 度，這是幾邊形呢？
(1)正十八邊形(2)正十九邊形(3)正二十邊形(4)正二十一邊形。
- (2)35. 設 $a=3\frac{2}{5}$ ， $b=2\frac{1}{2}a$ ， $c=3a$ ，則 $b+c=?$
(1)15.7 (2)18.7 (3)18.1 (4)15.3 。

- (1)36. 計算看看，下列哪項的結果有誤？
 (1) $0.93 \times 3.6 > 1.2 \times 3.6$ (2) $3\frac{1}{2} \times 9 > 3\frac{1}{2} \times 3\frac{1}{2}$ (3) $0.55 \times 0.66 = 0.363$ (4) $0.3 > 0.96 \times 0.31$ 。

- (2)37. 求右列圖形灰色部分的面積為多少？
 (1)456.25 (2)356.25 (3)256.25 (4)156.25 m^2 。



- (4)38. 十二邊形的內角和是多少？
 (1)1980 (2)2160 (3)1440 (4)1800 度。

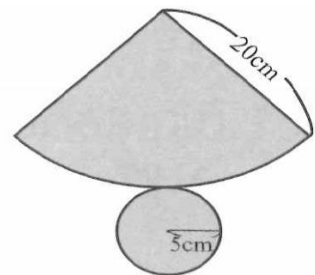
- (3)39. 含鹽量為 8% 的食鹽水 200 公克，最少要加多少公克的食鹽，才能使食鹽水的含鹽量成為 20%？
 (1)10 (2)20 (3)30 (4)40 公克。

- (1)40. 下列哪一個選項算錯了？
 (1) $11 \times 0.1 \times 0.01 = 0.0011$ (2) $0.115 \times 10^3 = 115$ (3) $0.115 \times 10^2 = 11.5$ (4) $11 \times 0.1^2 = 0.11$ 。

- (4)41. 與 20 : 35 有一樣的比值是哪一項？
 (1)16 : 36 (2)20 : 14 (3)12 : 24 (4)8 : 14。

- (1)42. 同質料同粗細的甲、乙二根圓木，甲長 72 公分，乙長 90 公分，甲重 2.4 公斤，問乙重多少？
 (1)3 (2)4 (3)5 (4)6 公斤。

- (3)43. 有一個圓錐體，如右圖所示，求展開圖的周長為幾公分？
 (1)102.5 (2)103.6 (3)102.8 (4)103.8 公分。



- (3)44. 一部機器每 100 秒可生產 100 個瓶子，但其中會打破 6 個，而且須花費 20 秒的時間來清理，如果這部機器要生產 9400 個完好的瓶子，並且將打破的瓶子全部清理完畢，則需花費幾小時幾分？
 (1)2 時 50 分 (2)3 時 10 分 (3)3 時 20 分 (4)3 時 30 分。
- (3)45. 牧場裡有羊 168 頭，羊的頭數是牛的 1.6 倍，問牛和羊共有多少頭？
 (1)253 (2)263 (3)273 (4)283 頭。
- (4)46. 找出下列各選項中正確的結果。
 (1) $231=3\times 7\times 11$ 是一個質數(2)42 的因數共有 10 個(3)2 和 11 的最大公因數是 22(4)35 和 42 的最大公因數是 7。
- (3)47. 有一工程，甲一人獨做 24 日完成，乙一人獨做 12 日完成，問二人合做幾日可完成？
 (1)6 (2)7 (3)8 (4)9 日。
- (1)48. 由 1 至 1000 的整數中，是 3 的倍數或是 5 的倍數的數共有幾個？
 (1)467 (2)461 (3)366 (4)261 個。
- (2)49. 宗安和宗祺相距 5000 公尺，宗安每分鐘走 122 公尺，宗祺每分鐘走 138 公尺，兩人相向而行，走 15 分鐘後，兩人相距多少公尺？
 (1)1000 (2)1100 (3)1200 (4)1300 公尺。
- (3)50. 將右圖的展開圖組合後，問組合成的立體圖形體積為多少立方公分？
 (1)200 (2)210 (3)220 (4)240 cm^3 。

