

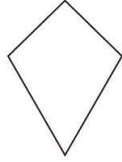
1. (D)黃色的相鄰色為何?

(A)紅色 (B)紫色 (C) 黑色 (D)綠色

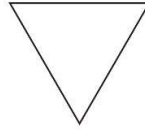
2. (B)以下那個是風箏型?




(A)



(B)



(C)



(D)

3. (A)A4紙張尺寸為何?

(A)29.7cmx21cm (B)25cmx19cm (C)38cmx36cm (D)31.5cmx22.5cm

4. (C)1公分為多少公厘?

(A) 0.1 cm(B)0.1mm (C)10mm (D)1mm

5. (D)物件實為24mm, 工作圖上擬標示為2:1, 而繪圖時應繪製之大小為?

(A)12mm (B)24mm (C)42mm (D)48mm

6. (B)鑽石的重量單位為?

(A)克重 (B)克拉 (C)錢 (D)兩

7. (C)最受歡迎的珍珠是?

(A)星型 (B)方型 (C)圓型 (D)三角型

8. (D)GIA證書是針對下列哪種寶石的認證?

(A)碧璽 (B)紅寶石 (C)藍寶石 (D)鑽石

9. (C)使用水彩顏料時, 紅色加上藍色會變成什麼顏色?

(A)黑色 (B)黃色 (C)紫色 (D) 綠色

10. (B)印刷色CMYK中的M是什麼顏色?

(A)黑色 (B)洋紅色 (C) 黃色(D)青色