

勞動部勞動力發展署高屏澎東分署
111 年度第 6 梯次職前訓練招訓甄試試題

【適用職類：行動商務系統設計與開發】

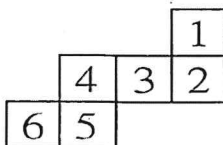
座位號碼：_____

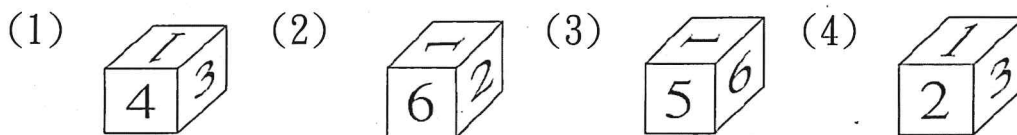
姓 名：_____

◎親愛的考生，您好

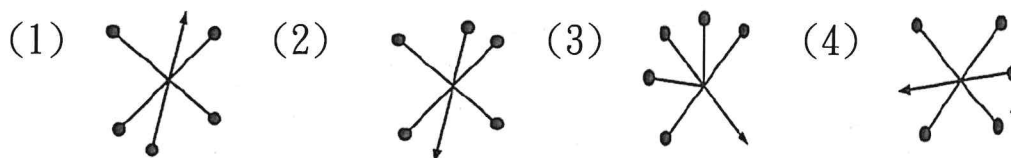
為瞭解職業訓練訊息露出管道效益，請您撥冗勾選由何種管道得知本次招訓訊息(可複選)：親友同學介紹曾經參加職業訓練
本分署網站其他政府機關網站：_____賈蕾妮 FB招生海報報紙廣播招生布條高捷車廂廣告其它：_____

選擇題：100 分每題 2 分，共 50 題單選題。(答錯不倒扣)

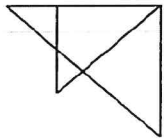
(1) 1.  選出由左圖摺合而成的圖形。



(3) 2. 找出一個不相似的圖形。

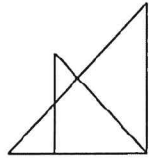


(3) 3.

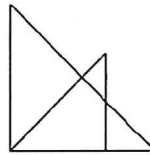


找出與左圖左右對稱的圖形。

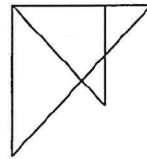
(1)



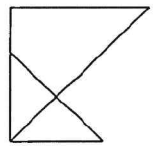
(2)



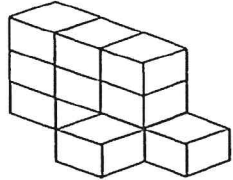
(3)



(4)



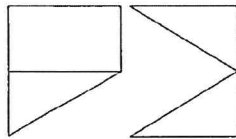
(3) 4.



左圖中，共有多少個方塊？

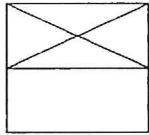
(1)10(2)9(3)11(4)12 個。

(3) 5.

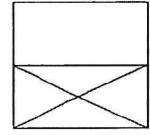


找出由左邊圖形重疊而成的圖形。

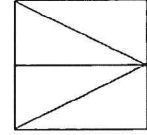
(1)



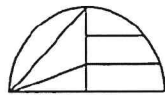
(2)



(3)

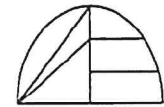


(2) 6.

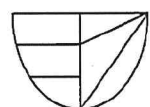


選出與左邊圖形相同的圖形。

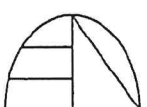
(1)



(2)



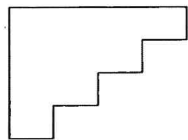
(3)



(4)

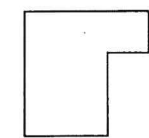


(2) 7.

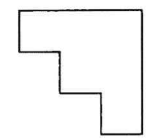


找出與左邊圖形能補合成完整圖形者。


(1)



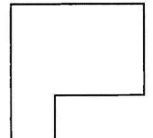
(2)




(3)



(4)

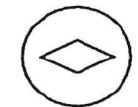


(2) 8.

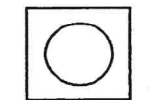


選出與左邊圖形能補合成完整圖形者。

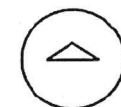
(1)



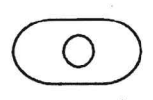
(2)



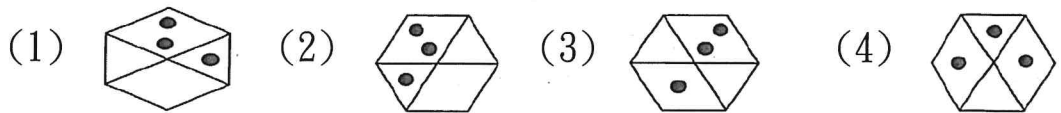
(3)

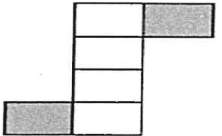


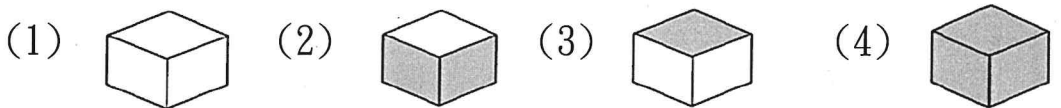
(4)



(1) 9.  選出與左邊圖形相同的圖形。



(3) 10.  選出由左圖摺合而成的圖形。



(1) 11. 選出錯誤者。

(1)清除塵「垢」：厂又、(2)「徒」木立信：丁一、(3)面面相「覷」：く口、(4)交情甚「篤」：勹又、。

(3) 12. 選出錯誤者。

(1)不幸「猝」死：ㄅ又、(2)世途「坎」坷：ㄎ又、(3)「玷」汗心靈：ㄊ又、(4)「跋」山涉水：ㄅ又、。

(3) 13. 「張騫始終保持漢付，給部數無限鼓無。」以上共有錯字

(1)一(2)二(3)三(4)四 個。

(3) 14. 江南好，風景舊曾□。

(1)安(2)黯(3)諳(4)岸。

(3) 15. 選出錯誤的部首

(1)乃—冫部(2)亦—亠部(3)席—广部(4)厚—厂部。

(3) 16. 「忠言逆耳三冬暖，惡語傷人六月寒」此言旨在說明

(1)忠言逆耳，良藥苦口(2)沉默是金(3)鼓勵的言語勝過苛刻的責備(4)巧言令色鮮矣仁。

(2) 17. 下列數量詞的運用何者不正確？

(1)那河裡有幾「尾」魚(2)你要買一「部」房子嗎(3)神龕上有「尊」佛像(4)這一「客」牛排看起來頗為可口。

(1) 18. 下列各詞語，何者注音錯誤？

(1)詛咒：ㄌㄩˇ ㄗㄨˋ ㄨㄥˋ ㄨㄥˋ ㄨㄥˋ ㄨㄥˋ (2)窈窕：ㄧㄠˇ ㄨㄥˋ ㄨㄥˋ ㄨㄥˋ (3)囫圇：ㄏㄨˊ ㄨㄥˋ ㄨㄥˋ ㄨㄥˋ (4)揶揄：ㄧㄝˊ ㄨㄥˋ ㄨㄥˋ ㄨㄥˋ 。

(2)19. 「高興容易使人輕狂；得意容易使人忘形；財富容易使人放縱；成功容易使人驕傲。」此四句話皆在警惕人要
(1)謙虛(2)節制(3)知足(4)守分。

(3)20. 下列何者不可以唸「ㄍㄨㄥˋ」？
(1)後會有「期」(2)不「期」而遇(3)「期」年(4)「期」期艾艾。

(1)21. 選出錯誤者。
(1)「徜」徉詩海：ㄊㄨㄥˋ ㄨㄥˋ ㄨㄥˋ (2)貨「暢」其流：ㄏㄨㄥˋ ㄨㄥˋ (3)萬「壑」爭流：ㄏㄨㄥˋ ㄨㄥˋ ㄨㄥˋ (4)「滔」一瓢水：ㄊㄠˋ ㄨㄥˋ 。

(3)22. 「悲狀的歌聲，還遼繞在西風裡，迴蕩在易水上。」以上共有錯字
(1)一(2)二(3)三(4)四 個。

(3)23. 「慷慨赴義」、「微風拂動」、「擁容華貴」、「窮愁遼倒」。以上共有錯字
(1)一(2)二(3)三(4)四個。

(2)24. 下列各句，何者用字完全正確？
(1)凡事箭及履及，即知即行，才易成功(2)做任何事，均應堅持到底，貫徹始終(3)一個人若沒有智慧，又如何明辨是非(4)不要怕困難，那是生命中最好的粹鍊。

(1)25. 「哄」著：
(1)說好聽的話使人聽從(2)一起聊天(3)吵雜的聲音(4)一起大聲的笑著。

(4)26. 丟擲一枚硬幣(正反兩面)及一粒骰子(六種點數)，如硬幣及骰子是公平的，則硬幣正面朝上，而骰子點數為奇數的機率是多

少？

(1) $\frac{2}{3}$ (2) $\frac{1}{2}$ (3) $\frac{1}{3}$ (4) $\frac{1}{4}$ 。

(2)27. 宗祺想知道一個月中最多有幾個星期六，請你告訴她吧！

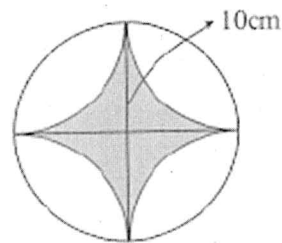
(1)6(2)5(3)4(4)3 個。

(3)28. 甲圓面積是乙圓面積的 9 倍，則甲圓周長是乙圓周長的幾倍？

(1)81(2)9(3)3(4)1 倍。

(1)29. 求右圖灰色部分面積？

(1)21.5(2)22.5(3)23.5(4)24.5 平方公分。



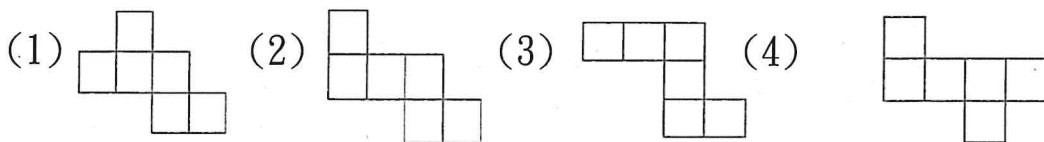
(1)30. 正十九邊形的內角和是幾度？

(1)3060(2)3240(3)3420(4)3600 度。

(1)31. 假如 \square 是整數，且 $1 < \square < 8$ ，則 $96 \div \square$ 的商不可能是以下哪一數？

(1)12(2)16(3)24(4)48 。

(3)32. 下列哪一個展開圖不能構成一正方體？



(4)33. 有一數列如右：2、5、4、5、6、5、8、5、……120，請問：從頭數起的第 38 個數字是多少？

(1)76(2)38(3)18(4)5 。

(4)34. 分母為 60 的數中，比 $\frac{7}{12}$ 小，比 $\frac{1}{5}$ 大，且不能約分的分數共有幾個？

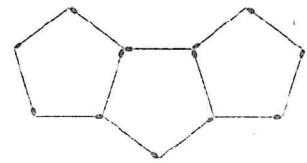
(1)3(2)4(3)5(4)6 個。

(1)35. 陳先生三年前在銀行存了 100000 元，這三年來銀行的年利率分別是 10%、10%、8%，如今三年期滿，他可從銀行領回多少元？
(1)130680(2)103860(3)140680(4)104860 元。

(4)36. 有一長方體的鐵盒一個，長 10 公分，寬 8 公分，高 4 公分，則其表面積共有幾平方公分？
(1)404(2)364(3)324(4)304 平方公分。

(3)37. 琪琪坐在火車車廂內數著外面的電線桿，由 56 號數到 80 號費時 24 秒，且兩根電線桿間的距離為 45m，則火車的時速為多少公里？
(1)142(2)152(3)162(4)172 公里。

(3)38. 如右圖所示，用火柴棒排列正五邊形，若欲排出 15 個正五邊形，共需要多少枝火柴棒？



(1)71(2)81(3)61(4)91 枝。

(2)39. 圓內最長的弦是直徑，如以最長的弦為一邊的圓內接三角形，是哪一種三角形？
(1)銳角三角形(2)直角三角形(3)鈍角三角形(4)等腰三角形。

(4)40. 盒子裡有紅色彈珠 2 個，藍色彈珠 4 個，黃、綠、橘色彈珠各 3 個，任意取出一個，出現橘色彈珠的機率是多少？
(1) $\frac{1}{2}$ (2) $\frac{1}{3}$ (3) $\frac{1}{4}$ (4) $\frac{1}{5}$ 。

(4)41. It took the police lots of time _____ who entered Liu's house and killed her one year ago.
(1) and found out (2) find out (3) finding out (4) to find out

(2)42. The beach party tonight _____ the end of our summer vacation. Tomorrow we are all going back home and getting ready for school.
(1) changes (2) marks (3) passes (4) saves

- (1) 43. Chris: Which _____ looks better on me? Penny: I think purple's better. You look great in purple.
(1) color (2) grade (3) shape (4) size
- (4) 44. Carol sounded happy when we talked on the phone; I could feel joy in her _____ .
(1) eyes (2) mail (3) smile (4) voice
- (2) 45. Susan bought _____ bread in the supermarket, but she did not buy anything to drink.
(1) many (2) some (3) any (4) one
- (2) 46. My mom told me to take care of _____ in England. She worried that I couldn't eat or sleep well there.
(1) me (2) myself (3) her (4) herself
- (1) 47. Which of the following description about JavaScript is wrong?
(1) It must install Java virtual machine for execution.
(2) It is a client-side script language.
(3) It can be executed directly by browser.
(4) It can be written in HTML document.

The sky is turning bright and clear.
The earth is wearing red and green.
Winter is gone; spring has come.
The air smells fresh and sweet.

The summer heat is not yet here;
A little fox comes out to play.
A bird is busy in a tree
Waking a daisy from her sleep.

Little daisy, little daisy,
People call the flower the "day's eye."
When she opens her eye,
The springtime brings us cheer.

- (1) 48. Which season is this poem about?
(1) Spring. (2) Summer. (3) Autumn. (4) Winter.

(3)49. What is a daisy?

(1) A body part. (2) A kind of bird.

(3) A kind of flower. (4) A kind of smell.

(3)50. Who open her eye that means the springtime brings us cheer?

(1) birds (2) foxes

(3) flowers. (4) fishes