

勞動部勞動力發展署高屏澎東分署
111 年度第 6 梯次職前訓練招訓甄試試題

【適用職類：工業配管與銲接實務、可程式機電控制、國際貿易行銷、物流從業人員及旅遊從業人員】


座位號碼：_____

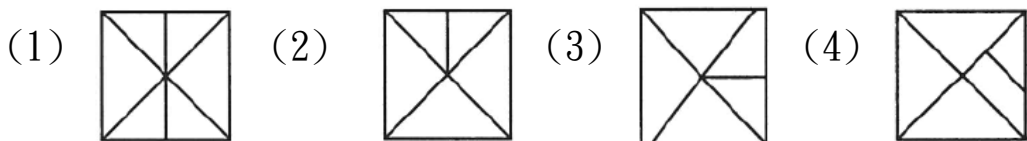
姓 名：_____

◎親愛的考生，您好

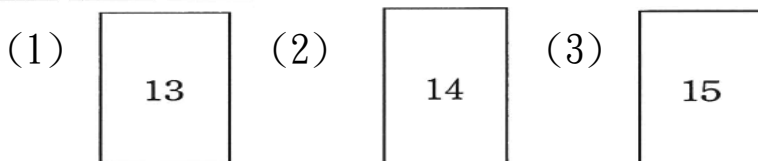
為瞭解職業訓練訊息露出管道效益，請您撥冗勾選由何種管道得知本次招訓訊息(可複選)：親友同學介紹曾經參加職業訓練
本分署網站其他政府機關網站：_____賈蕾妮 FB招生海報報紙廣播招生布條高捷車廂廣告其它：_____

選擇題：100 分每題 2 分，共 50 題單選題。（答錯不倒扣）

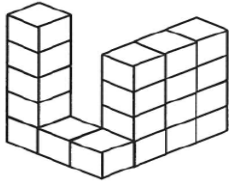
(2) 1.  找出由左邊圖形組合而成的圖形。



(2) 2.  選出具連續關係的圖形。



(4) 3.



左圖中，共有多少個方塊？

(1)18(2)22(3)20(4)19 個。

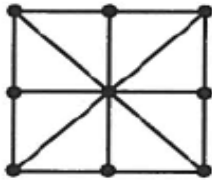
(4) 4.

1	3	6	8
9	12	14	16
17	21	23	25
28	30	32	35

左圖中，共有多少個偶數？

(1)7(2)9(3)6(4)8 個。

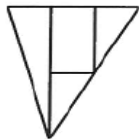
(3) 5.



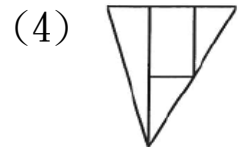
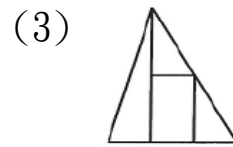
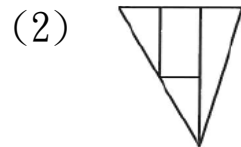
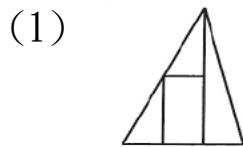
左圖中，共有多少個交點？

(1)10(2)8(3)9(4)11 個。

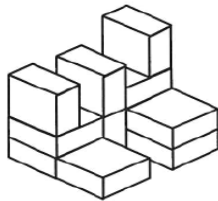
(3) 6.



找出與左圖上下對稱的圖形。



(1) 7.



左圖中，共有多少個方塊？

(1)12(2)13(3)10(4)11 個。

(2) 8.

甲			
			乙
		丙	

找出由左邊圖形重疊而成的圖形。

(1)

甲		
	丙	
		乙

(2)

甲		
	乙	
		丙

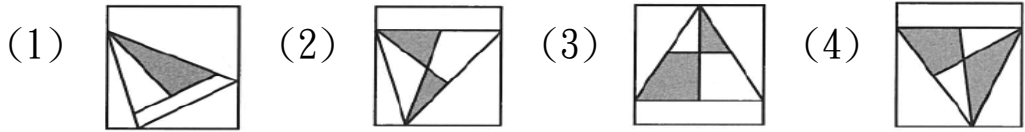
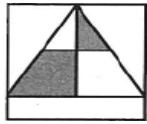
(3)

		甲
	丙	
乙		

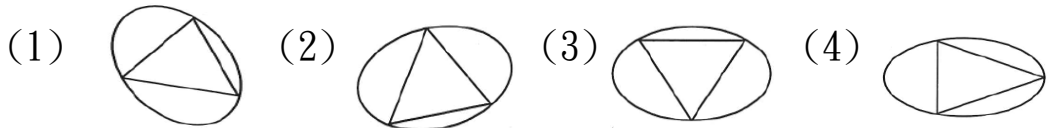
(4)

		乙
	甲	
丙		

(3) 9. 選出與左邊圖形相同的圖形。



(4) 10. 找出一個不相似的圖形。



(4) 11. 「歹陽邪，晚風漂，大家來唱採蓮遙。」以上共有錯字

(1)一(2)二(3)三(4)四 個。

(1) 12. 選出錯誤者。

(1)萬瀨無聲(2)生意盎然(3)怨天尤人(4)人心奸詐。

(3) 13. 偶而看一場電影，可以□□我們的身心。

(1)調理(2)調節(3)調劑(4)調度。

(3) 14. 「哄堂大笑」，猜大陸城市名。

(1)哈爾濱(2)天津(3)齊齊哈爾(4)永嘉。

(3) 15. 下列對於《西遊記》的敘述，何者錯誤？

(1)作者為明代吳承恩(2)「玄奘」是真有其人(3)是一本神話短篇小說(4)故事背景發生在唐代。

(2) 16. 以下詞語，哪一組的用字正確無誤？

(1)「寒喧」、「暄鬧」(2)「剪裁」、「栽培」(3)「穫得」、「收獲」(4)「影嚮」、「響導」。

(2) 17. 「夙夜匪懈」之於「焚膏繼晷」，猶如「怡然自得」之於

(1)案牘勞形(2)鳶飛魚躍(3)風行草偃(4)嘔心絞腦。

(4) 18. 下列何者有誤？

(1)春風「風」人：匕厶、(2)杯盤狼「藉」：卩一ノ(3)大腹便「便」：夕一弓ノ(4)悶不「吭」聲：厂尤ノ。

- (1)19. 心存「僥」倖。讀如
(1)「狡」兔三窟(2)「教」學相長(3)「嬌」生慣養(4)「搖」曳生姿。
- (2)20. 「梅花有一身傲霜鬥雪的鐵骨，富有監忍耐苦的精神。」以上共有錯字
(1)一(2)二(3)三(4)四 個。
- (4)21. 下列文句，何者用字完全正確？
(1)年輕人奮發向上，才能成為國家的中流砥柱(2)多虧楊法醫明查秋毫，才能將兇手蠅之以法(3)阿海玩日愒歲，偷機取巧，視讀書為苦差事(4)飢腸轆轆的老虎躲在樹叢中，伺機攫人而食。
- (1)22. 堆棧：
(1)指倉庫(2)堆放樓梯(3)不聰明的意思(4)供人休息的客棧。
- (4)23. 下列部首，何者有誤？
(1)嘉—口部(2)焚—火部(3)畝—田部(4)兢—十部。
- (3)24. 這個題目很容易，□□是誰，都可以在很短的時間算出答案。
(1)不但(2)不如(3)不管(4)不比。
- (2)25. 面面相覷：
(1)彼此互相嘲笑(2)很驚訝，互相對看不知如何是好(3)彼此坦誠相對待(4)躲躲藏藏。
- (3)26. 選出意義不同者。
(1)「伏」誅(2)「伏」罪(3)「伏」筆(4)「伏」法。
- (4)27. 下列何者之意思不同。
(1)款待—招待(2)瀟灑—充滿(3)沏茶—泡茶(4)羨慕—嫉妒。

(2)28. 做惡多端的人，□□難逃法律的制裁。

(1)終於(2)終究(3)也許(4)可能。

(4)29. 下列何者不是描寫冬天？

(1)瑞雪繽紛(2)臘鼓頻催(3)天寒地凍(4)鳥語花香。

(1)30. 三「孀」是指


(1)叔叔的妻子(2)伯伯的妻子(3)父親之妾(4)媽媽的姐妹。

(3)31. 右圖為某國中藏書的各類書籍百分率，

如果共有 100000 本，文學類有幾本？

(1)23000(2)24000(3)27000(4)25000

本。



(1)32. 有一個頂角為 46 度的等腰三角形，則底角是多少度？

(1)67(2)77(3)87(4)88 度。

(3)33. $6 \times 6 \times 6 = 8 \times 8 \times \square$ ，則 $\square = ?$

(1)8(2)6(3) $3\frac{3}{8}$ (4) $2\frac{3}{4}$ 。

(2)34. 有一項工程，預計 15 個工人每天做 4 個小時，20 天可以完成。為了趕工，增加 5 人並且每天工作時間增加 1 小時，可以提前幾天完工？

(1)6(2)8(3)12(4)14 天。

(1)35. 有一小數 3.6 除 0.87，得商 0.24，則其餘數是多少？

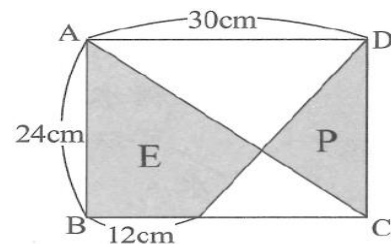
(1)0.006(2)0.06(3)0.6(4)6。

(3)36. 12 點後，分針走 150 度，則此時是 12 時幾分？

(1)15(2)20(3)25(4)35 分。

(3)37. 右圖 E 比 P 的面積多多少 cm^2 ？

(1)164(2)154(3)144(4)134 cm^2 。



- (1)38. 甲乙的平均是 48，乙丙的總和為 50，甲丙的平均是 26，則下列敘述何者正確？
(1)甲 > 乙 > 丙(2)乙 > 甲 > 丙(3)乙 > 丙 > 甲(4)丙 > 乙 > 甲。
- (3)39. 時鐘上的時針分針在 2 點到 4 點間共垂直多少？
(1)1(2)2(3)3(4)4 次。
- (2)40. 在糖水中，糖和水的重量比是 2：8，則 64 公克的糖，可以調配成
(1)280(2)320(3)360(4)400 公克的糖水。
- (1)41. 某家庭孩子的平均年齡是 18 歲，如果再加上 51 歲的父親和 48 歲的母親，則平均年齡是 27 歲，問此家庭孩子有幾人？
(1)5(2)6(3)7(4)8 人。
- (2)42. 蚊香一大盒，每天點燃 50 分，可用 28 天，若每天減少 15 分鐘，可以多點幾天？
(1)10(2)12(3)14(4)16 天。
- (1)43. 現有一個長方體容器由內部量得其長為 8 公分，寬為 6 公分，高為 10 公分，容器內原來裝了一些水；如丟入一邊長 4 公分的正方體鐵塊後，發現正方體仍有 1 公分露出水面外，則此長方體容器內原來水高幾公分？
(1)2(2)3(3)4(4)5 公分。
- (3)44. 一個四邊形最多有幾個內角是鈍角？
(1)1(2)2(3)3(4)4 個。
- (2)45. 把標有 1，2，3，…，15 等號碼的十五枝籤放入籤筒中，任意取出一籤，則此籤的號碼比 10 大的機率是多少？
(1) $\frac{1}{5}$ (2) $\frac{1}{3}$ (3) $\frac{4}{15}$ (4) $\frac{2}{5}$ 。
- (3)46. 甲、乙兩人分別自兩地同時出發而行，已知甲每小時走 3 公

里，乙每小時走 4 公里；當乙走至兩地中點時與甲恰好相距 5 公里，則兩地相距多少公里？

(1)30(2)35(3)40(4)45 公里。

(4)47. 在比例尺 1 : 1000 的縮圖上，底 10 公分、高 5 公分的平行四邊形土地，實際面積是多少 m^2 ?

(1)500(2)50(3)50000(4)5000 m^2 。

(2)48. 宗安計算某數除以 4.5 時，把除數看成加數，得到 130.5，則正確答案是多少？

(1)26(2)28(3)30(4)32 。

(1)49. 以下何者速率較快？

(1) $\frac{1}{8}$ 時走 0.8 公里 (2) $\frac{4}{3}$ 時走 6 公里 (3) $\frac{1}{2}$ 時走 2.5 公里 (4) $\frac{1}{4}$

時走 1.5 公里。

(4)50. 旅行團 60 人，其中 36 人住雙人房，21 人住三人房，其餘住單人房，則需房間幾間？

(1)25(2)26(3)27(4)28 間。