

勞動部勞動力發展署高屏澎東分署
111 年度第 4 梯次職前訓練招訓甄試試題

【適用職類：綜合銲接、機電整合、網拍多媒體行銷】

座位號碼：_____

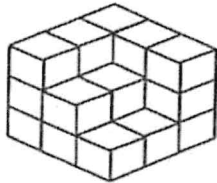
姓 名：_____

◎親愛的考生，您好

為瞭解職業訓練訊息露出管道效益，請您撥冗勾選由何種管道得知本次招訓訊息(可複選)：親友同學介紹曾經參加職業訓練
本分署網站其他政府機關網站：_____賈蕾妮 FB招生海報報紙廣播招生布條高捷車廂廣告其它：_____

選擇題：100 分每題 2 分，共 50 題單選題。(答錯不倒扣)

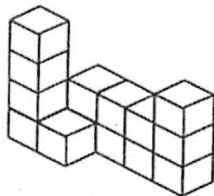
(2) 1.



左圖中，共有多少個方塊？

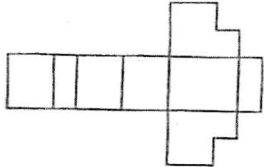
(1)22(2)21(3)23(4)20 個。

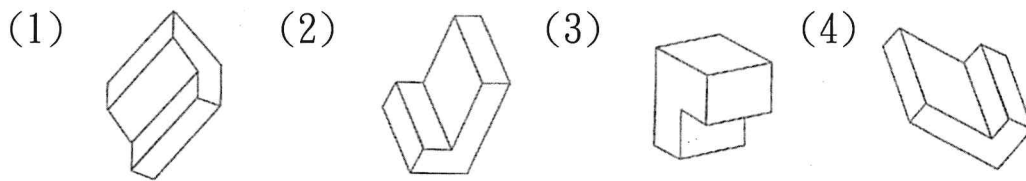
(3) 2.

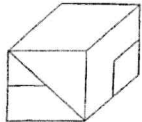


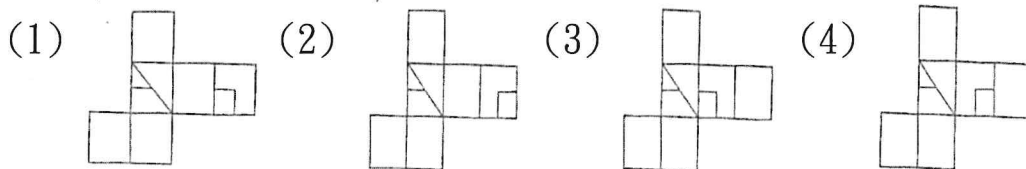
左圖中，共有多少個方塊？

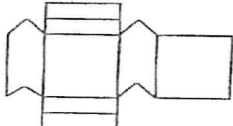
(1)12(2)15(3)14(4)13 個。

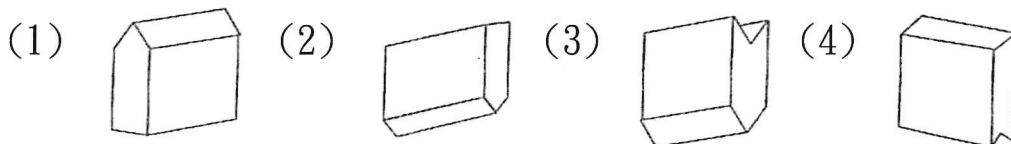
(3) 3.  紙板摺合測驗。

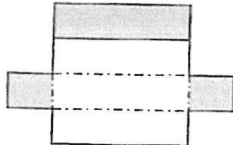


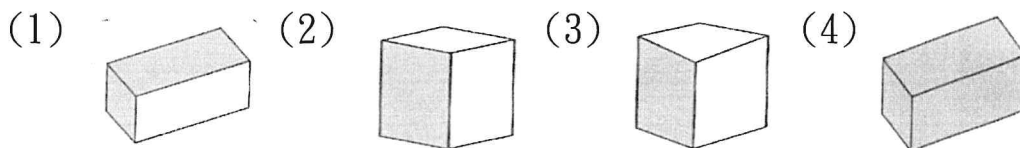
(4) 4.  紙板展開測驗。



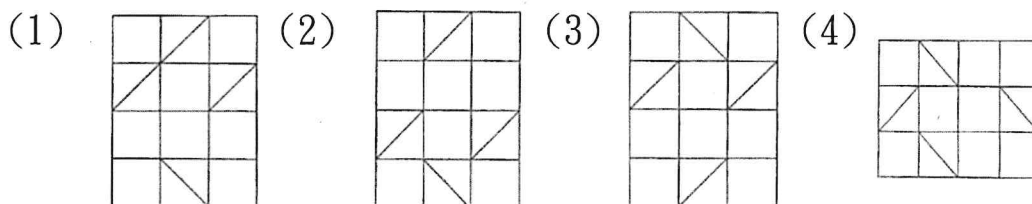
(3) 5.  紙板摺合測驗。

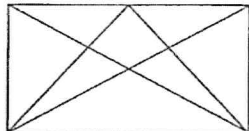


(1) 6.  紙板摺合測驗。




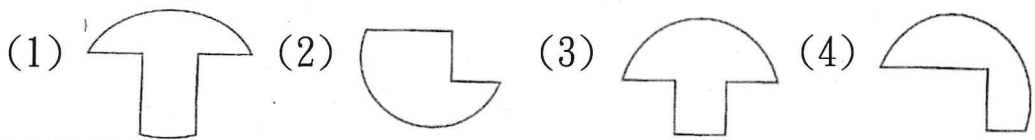
(1) 7. 找出一個不相似的圖形。



(4) 8.  左圖中，共有多少個四邊形？

(1)2(2)4(3)6(4)8 個。

(3) 9.  找出與左邊圖形能補合完整圖形者。



(3) 10. 找出由左邊圖形重疊而成的圖形。

F		R		O	
	A				
C		A		H	
	G		N		E

(1)

F	O	R
	A	
C	A	H
N	E	G

(2)

	F	O
R		A
C	H	A
N	G	E

(3)

F	O	R
	A	
C	H	A
N	G	E

(3) 11. 下列部首，何者正確？

(1)輝—光部(2)哀—宀部(3)奪—大部(4)闐—真部。

(4) 12. 風蕭蕭兮易水□，壯士一去兮不復□！

(1)冷、回(2)冰、來(3)涼、至(4)寒、還。

(4) 13. 「爆竹聲中一歲除，春風送暖入屠蘇；千門萬戶曈曈日，總把新桃換舊符。」文中所描寫的節日是

(1)清明節(2)中元節(3)重陽節(4)春節。

(1) 14. 「驚蟄一過，春寒加劇。先是料料峭峭，繼而雨季開始，時而淋淋漓漓，時而□□□□，天潮潮地濕濕，即便在夢裡，也似乎把傘撐著。」上文缺空處宜填入

(1)淅淅瀝瀝(2)迷迷濛濛(3)爽爽新新(4)虛虛幻幻。

(2) 15. 「沏」茶：

(1)用刀切割(2)用開水沖泡(3)用火烘焙(4)用土掩埋。

(3) 16. 辯論會上，雙方針□相對，據理力爭。

(1)蜂(2)峰(3)鋒(4)封。

(2) 17. 日本腦炎、霍亂、B型肝炎、登革熱。

(1)意外傷害(2)傳染疾病(3)絕症(4)天災。

(2) 18. 「好鳥枝頭亦朋友，落花水面皆文章。」的意思與下列何組文句最為接近？

(1)君子不怨天，不尤人(2)自然之趣到處都有，並不限於名

山大川(3)明月照著積雪，北風哀傷地吹著(4)只問耕耘，不問收穫。

(1)19. 下列成語解釋，何者錯誤？

(1)牛驥同皁：喻相處和樂(2)駢肩雜處：喻人多擁擠(3)董狐之筆：喻文章頗能仗義直言，毫無隱諱(4)皇路清夷：喻清平之世。

(2)20. 使臣「變節」：

(1)轉換季節(2)改變志節(3)變換名牌(4)善於變化。

(1)21. (甲)□立雞群(乙)□杳魚沉(丙)鸞□和鳴(丁)鴻□之志(戊)□雀無聲。以上成語□處依序應填入何字？

(1)鶴、雁、鳳、鵠、鴉(2)鷹、鶴、鳳、鴉、鵠(3)鴉、鳳、鵠、鶴、雁(4)鳳、鵠、雁、鴉、鶴。

(4)22. 「三思而後行」用「三」來代表多數。下列選項中的「三」字，何者用法與此相同？

(1)三更燈火五更雞(2)判官還講三分理(3)逢人只說三分話(4)貨比三家不吃虧。

(1)23. 「己所不欲，勿施於人。」句中「於」字的意義為何？

(1)給(2)在(3)向(4)被。

(2)24. 「皎潔的月光，□□□□□，讓中秋的夜空熱鬧了起來。」空格中應填入哪一句較適合？

(1)好吃的月餅(2)炫亮的煙火(3)開心的小孩(4)圓圓的柚子。

(2)25. 下列從《三國演義》衍生出的歇後語，意義不合的選項是

(1)劉備摔阿斗—收買人心(2)孔明七擒孟獲—假仁假義(3)身在曹營心在漢—懷有二心(4)劉備借荊州—有借無還。

(3)26. 「以」禮相待

(1)所以(2)以為(3)用(4)可以。

(1)27. 「欠」清楚的「欠」同
(1)「欠」佳(2)「欠」債(3)「欠」身(4)打呵「欠」。

(2)28. 唐僧的「僧」指
(1)神仙(2)和尚(3)道士(4)牧師。

(3)29. 下列何者不是動詞?
(1)饒命(2)發愁(3)密切(4)辦理。

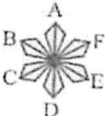
(1)30. 她真的是你的妹妹□?
(1)嗎(2)吧(3)啊(4)呀。

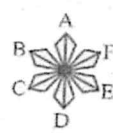
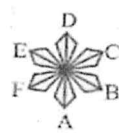

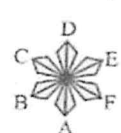
(3)31. 宗棋種花 $\frac{3}{4}$ 小時，可種 9 平方公尺，則種 30 平方公尺，要種多久?

(1) $\frac{2}{5}$ (2) $\frac{4}{9}$ (3) $\frac{5}{2}$ (4) $\frac{9}{40}$ 時。

(2)32. 在沿河的同岸有甲、乙兩鎮，如船在靜水中時速是 10 公里，水流時速為 2 公里，往返甲、乙兩鎮需 5 小時，則甲、乙兩鎮相距幾公里?

(1)20(2)24(3)25(4)30 公里。

(2)33.  與左圖點對稱圖形是

(1)  (2)  (3)  (4) 

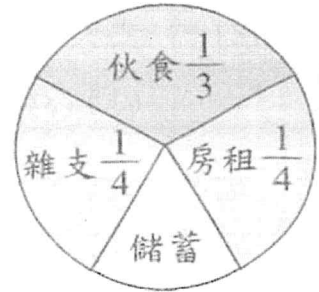
(2)34. 投擲兩粒骰子，出現兩者之和為 11 的機率是多少?

(1) $\frac{1}{36}$ (2) $\frac{1}{18}$ (3) $\frac{1}{9}$ (4) $\frac{1}{6}$ 。

(2)35. 故事書一本原價 80 元，加價若干元作為定價，後因生意不好，以七五折售出虧本 8 元，問定價照原價加了幾成?

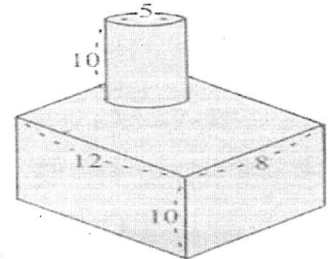
(1)3(2)2(3)5(4)6 成。

- (3)36. 宗琪家四月分家庭總預算共計 36000 元，其分配情形如右圖所示，則儲蓄等於多少元？



(1)3600(2)4800(3)6000(4)8100 元。

- (4)37. 求右圖的表面積?(單位：公尺)



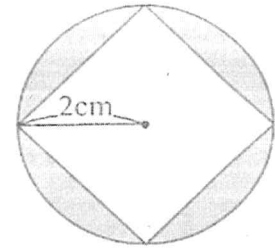
(1)549(2)649

(3)849(4)749 平方公尺。

- (2)38. 池中立一竿，全長的 $\frac{1}{3}$ 在泥中，剩下的 $\frac{3}{4}$ 在水中，露出水面尚有 4 公尺，則此竿長為多少公尺？

(1)34(2)24(3)14(4)44 公尺。

- (4)39. 求右圖，灰色部分的面積是多少平方公分？



(1)2.56(2)3.56(3)5.56(4)4.56 平方公分。

- (1)40. 數列 1, 3, 4, 7, 11, \square , 29, 47, ……，則 $\square = ?$

(1)18(2)19(3)20(4)21。

- (3)41. 假如現在是中午 12 時，則 12 時後，第一次時針和分針成一直線是幾時幾分？

(1)12 時 46 分(2)12 時 36 分(3)12 時 $32\frac{8}{11}$ 分(4)12 時 $31\frac{6}{11}$ 分。

- (2)42. 40.04 左邊的 4 是右邊 4 的幾倍？

(1)10000(2)1000(3)100(4)10 倍。

- (4)43. 以下哪一個不是 420 的質因數？

(1)7(2)5(3)3(4)1。

- (2)44. 某公司有員工 18000 人，每人發給一張同樂會彩券，編號由

1 號編到 18000 號，搖獎的結果普獎為末尾二字 18 或 98 者，則該公司得普獎者共有幾人？

(1)180(2)360(3)720(4)1440 人。

(3)45. 宗棋想寄一封信到紐西蘭需要郵資 82 元，如他手邊只有 3 元和 5 元的郵資，請問：他有幾種組合的方式？

(1)1(2)3(3)5(4)7 種。

(2)46. 有 54 個花片，如排成一個正三角形，每邊共多少個花片？

(1)18(2)19(3)20(4)21 個。

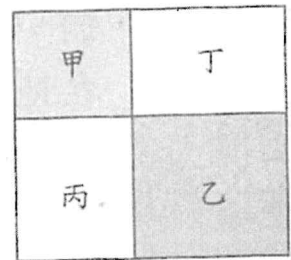
(4)47. 有一個小數，把小數點向左移二位，則與原數差 63.7263，問原數是多少？

(1)643.7(2)637.263(3)67.32(4)64.37 。

(2)48. 有甲、乙兩數，以乙除甲數，得商為 40，餘數 46；如再除下去，則得 40.92，則乙數是多少？

(1)60(2)50(3)40(4)36 。

(3)49. 如圖所示：甲、乙為正方形，面積分別為 9 平方公分、16 平方公分，則丙及丁的面積和是幾平方公分？



(1)30(2)25(3)24(4)20 平方公分。

(2)50. 有人從一樓爬到三樓需 18 秒的時間，如果速度相同，則從一樓爬到八樓共需多少時間？

(1)45(2)63(3)72(4)81 秒。