

**勞動部勞動力發展署高屏澎東分署**  
**111 年度第 2 梯次職前訓練招訓甄試試題**

**【適用職類：國際貿易行銷、旅遊從業人員及會展產業(MICE)  
 人才培訓】**

座位號碼：\_\_\_\_\_

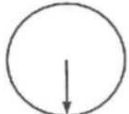
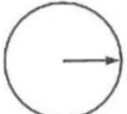

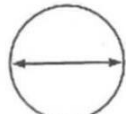
姓 名：\_\_\_\_\_

◎親愛的考生，您好


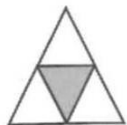
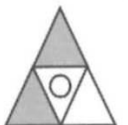

為瞭解職業訓練訊息露出管道效益，請您撥冗勾選由何種管道得知本次招訓訊息(可複選)：親友同學介紹曾經參加職業訓練  
本分署網站其他政府機關網站：\_\_\_\_\_賈蕾妮 FB招生海報報紙廣播招生布條高捷車廂廣告其它：\_\_\_\_\_

**選擇題：100 分每題 2 分，共 50 題單選題。(答錯不倒扣)**

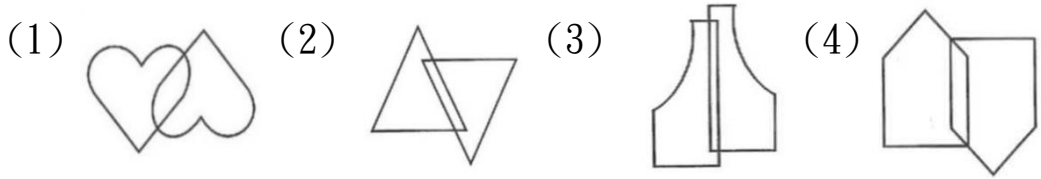
( 3 ) 1.  圖形類比測驗。

- (1)  (2)  (3)  (4) 

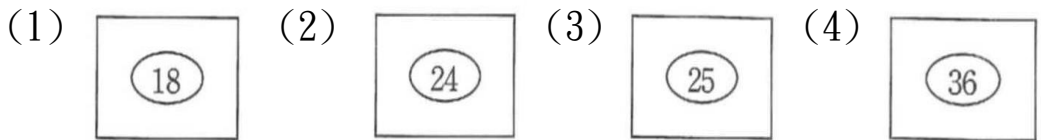
( 2 ) 2.  圖形類比測驗。

- (1)  (2)  (3)  (4) 

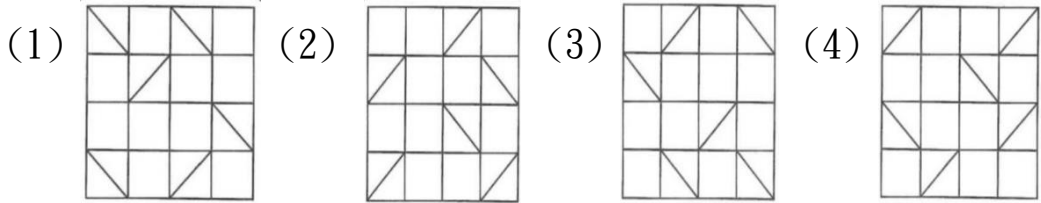
( 3 ) 3. 圖形刪異測驗。



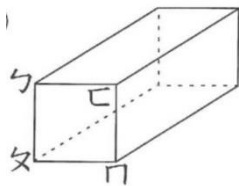
( 3 ) 4. 圖形刪異測驗。



( 2 ) 5. 圖形刪異測驗。



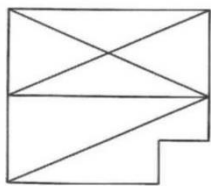
( 4 ) 6.



在左圖中，和面ㄅㄆㄇ互相垂直的面共有幾個？

(1)1(2)2(3)3(4)4 個。

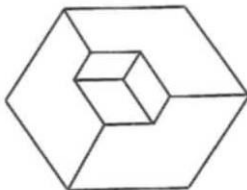
( 2 ) 7.



左圖中，共有多少個三角形？

(1)11(2)10(3)9(4)8 個。

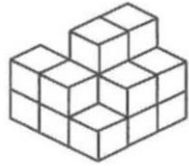
( 2 ) 8.



左圖中，共有多少個面？

(1)8(2)9(3)11(4)12 個。

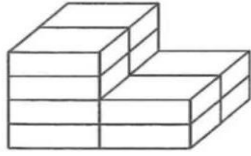
( 4 ) 9.



左圖中，共有多少個方塊？

(1)16(2)13(3)14(4)15 個。

( 2 ) 10.



左圖中，共有多少個方塊？

(1)9(2)12(3)11(4)10 個。

( 4 ) 11.

「童□無欺、□索枯腸、□集資料、一缸□水。」句子□中依序應填入什麼字？

(1)蒐、度、叟、颯(2)搜、叟、颯、餽(3)度、蒐、搜、餽(4)叟、搜、蒐、餽。

( 3 ) 12.

如坐針「氈」：

(1)去弓√(2)卩弓(3)出弓(4)勿弓√。

( 3 ) 13.

飛「揚」／警「惕」／挑「剔」／「踢」球／「楊」柳／「陽」光／蜥「蜴」。上列「」中的形似字，共有幾種不同的讀音？

(1)二(2)三(3)四(4)五種。

( 3 ) 14.

龍、馬、豬、牛、虎、兔、雞。

(1)珍禽(2)家畜(3)生肖(4)野生動物。

( 1 ) 15.

下列各選項內的詞語，何者用字有誤？

(1)頂頂大名、鼎力相助(2)窮途末路、一敗塗地(3)遷就現實、牽強附會(4)聲音清脆、山色青翠。

( 4 ) 16.

下列引號內的字音，何者錯誤？

(1)駕輕就「熟」：尸又√(2)高談「闊」論：巧又丿、(3)自顧不「暇」：丁一丫√(4)三「緘」其口：丁一弓√。

( 1 ) 17.

以下四組詞語引號內的字，何者錯誤？

(1)病從口入，「貨」從口出(2)少年不努力，老大「徒」傷悲

(3)一生之計在於「勤」(4)「青」出於藍而勝於藍。

( 2 )18. 下列單位數量詞的運用，何者錯誤？

(1)一道彎彎的彩虹(2)一棵又大又亮的銀幣(3)一寸光陰一寸金(4)一件粉紅色衣料。

( 3 )19. 「從此談心有捷徑，何須握手始言歡。」上述對聯所描寫的是何種行業？

(1)電力公司(2)快遞(3)電信局(4)醫院。

( 1 )20. 「細雨輕雷，驚蟄後，和風動土。正父老催人早作，東畝南圃。夜月荷鋤村吠犬，晨星叱犢出沉霧。到五更驚起是荒雞，田家苦。」從下列哪一項文字的敘述，可以看出描繪的是春季？

(1)細雨輕雷，驚蟄後(2)正父老催人早作(3)夜月荷鋤村吠犬(4)到五更驚起是荒雞。

( 3 )21. 「除了潔身自愛以外，若能再加上幽默感□包容心你將更受到別人的歡迎。」文中缺空的標點符號是

(1)刪節號(2)分號(3)頓號(4)逗號。

( 2 )22. 下列各組詞語的解釋，何者錯誤？

(1)不屑一顧：形容非常瞧不起(2)萬紫千紅：形容秋天花落的情景(3)萍水相逢：比喻本不相識的人偶然遇合(4)望洋興嘆：比喻無能為力。

( 2 )23. 以下各組詞語引號內字的解釋，何者錯誤？

(1)勤儉的好處是說不「盡」的：完全(2)縣長再命鄉長前往「致」意：造成(3)微風「拂」過林梢：輕擦(4)「向」暮的天空：將近。

( 3 )24. 「創業的人都會自然地想到上天，而敗家的人卻無時不想到自己。」第一句話啟示我們要有下列何者？

(1)果斷的決心(2)不怕失敗的精神(3)感恩的心情(4)克服困難的毅力。

( 1 )25. 下列「」中的注音，何者錯誤？

(1)未盡反「哺」心：ㄉㄨˇ(2)炎黃世「胄」：ㄓㄨˋ(3)有酒食，先生「饌」：ㄓㄨㄣˋ(4)好逸「惡」勞：ㄨˇ。

( 2 )26. 「偶一抬頭，看見一棵結實纍纍的柚子樹。」文中「纍纍」是

(1)圓潤光滑的樣子(2)連接成串的樣子(3)小巧玲瓏的樣子(4)巨大無比的樣子。

( 1 )27. 朱自清在《匆匆》一文中說：「但不能平的，為什麼偏要白白走這一遭啊？」這句話暗示的意思是

(1)生命有限，絕對不能虛度此生(2)人生如此短暫，何必在乎得失呢？(3)人生是虛幻的，一切努力都將轉眼成空(4)生而為人，就得盡無窮的責任。

( 2 )28. 「那案件，雙方當事人及旁觀者的說法各不相同，究竟真相如何，到現在仍是□□□□。」文中缺空處應填入

(1)視若無睹(2)撲朔迷離(3)因循泄沓(4)曇花一現。

( 4 )29. 「自憐□□□□地過了大半生，平日喫飯著衣，何曾嘗到過『真』的滋味。」(夏丏尊〈生活的藝術〉)以上缺空處應填入

(1)醉生夢死(2)潦倒窮困(3)戒慎恐懼(4)囫圇吞棗。

( 3 )30. 著涼和感冒的關係，好像抽煙和什麼的關係？

(1)中風(2)抽筋(3)肺癌(4)休克。

( 4 )31. 如用 1.87 除 2.5 至小數第二位，餘數為多少？

(1)12.9(2)1.29(3)0.129(4)0.0129。

( 2 )32. 有一件工程，若由甲一個人做 20 日可完工，如由乙一個人

做 30 日可完工，則甲、乙兩人工作能力的關係如何？

(1)2 : 3(2)3 : 2(3)3 : 4(4)4 : 3 。

- ( 4 )33. 奇美博物館內，在長 12.7 公尺的牆壁面上，掛有長 0.5 公尺的名畫 10 幅，如各畫間的距離和壁角的距離都等長，則各畫間間隔是多少公分？

(1)55(2)60(3)65(4)70 公分。

- ( 3 )34. 某個家庭有父母和 3 個小孩子，現年父母年齡的和是三個小孩子年齡和的 6 倍，2 年後是 4 倍，且父比母多 4 歲，長子的年齡是次子年齡的 2 倍，請問：現年全家 5 人共幾歲？

(1)90(2)80(3)70(4)60 歲。

- ( 4 )35. 爸爸把 600000 元存入台灣銀行，按三年期定存利率每年 3.5% 計算，問三年期滿後，利息含本金共可領回多少元？

(1)36300(2)63000(3)621000(4)663000 元。

- ( 3 )36. 如三角形的面積不變，底邊的長減短 60%，則高應增加多少？

(1)60%(2)80%(3)150%(4)200% 。

- ( 2 )37.  $\frac{34}{79}$  的分母要加上多少，才能使分數變為  $\frac{1}{4}$ ？

(1)67(2)57(3)47(4)37 。

- ( 1 )38. 原子筆 5 枝的價錢與鋼筆 2 枝相等，如買原子筆 4 枝與鋼筆 3 枝共需 230 元，則一枝原子筆價錢幾元？

(1)20(2)22(3)25(4)30 元。

- ( 4 )39. 某超商以每公斤 18 元的價格買進橘子 150 公斤，從其中選出高級品 40 公斤，以每公斤 30 元賣出；另外中級品 80 公斤，以每公斤 25 元賣出；尚有次級品 30 公斤，以每公斤 15 元賣出。則某超商總共可賺多少元？

(1)650(2)750(3)850(4)950 元。

- ( 4 )40. 將紅色紙 90 張，黃色紙 54 張，藍色紙 72 張混合平分給幾個小朋友，同顏色的色紙都要一樣多且全部分完，請問最多可分給幾個人？

(1)16(2)17(3)20(4)18 人。

- ( 1 )41. 想測試某廠牌甲型球鞋耐穿月數，經抽取 10 個人試穿，得其耐穿月數分別為 3, 3, 6, 4, 18, 5, 4, 4, 5, 6。請問：該組資料的中位數是幾月？

(1)  $4\frac{1}{2}$  (2)5(3)  $5\frac{1}{2}$  (4)6 月。

- ( 4 )42. 若用 100 元的鈔票 9 張，50 元的鈔票 12 張，用這些鈔票來湊成 1100 元，有多少種方法？

(1)8(2)7(3)6(4)5 種。

- ( 4 )43. 有一正十邊形，其每一內角是多少度？

(1)120(2)128(3)136(4)144 度。

- ( 1 )44. 甲、乙兩數的平均是 5，乙、丙的和是 18，甲、丙二數的和是 20，則丙數是多少？

(1)14(2)10(3)6(4)3 。

- ( 1 )45. 弟弟今年 9 歲，媽媽的年齡是他的  $3\frac{2}{3}$  倍多 1 歲，五年後媽媽的年齡是幾歲？

(1)39(2)34(3)33(4)42 歲。

- ( 1 )46. 濃度 8% 的食鹽水 120 公克和濃度 10% 的食鹽水 80 公克混合後，其濃度變為多少%？

(1)8.8%(2)9%(3)17.6%(4)18% 。

- ( 4 )47. 某保全公司共有 10 名警衛輪流守夜，每次要有 6 人同時巡邏，從晚上 9 時 30 分到第二天早上 7 時，每人輪流巡邏幾

時幾分？

(1)4 時 32 分(2)4 時 58 分(3)5 時 28 分(4)5 時 42 分。

- ( 3 )48. 一根竹竿插入池中，在泥中的部分占全長的 $\frac{1}{4}$ ，在水中的部分占全長的 $\frac{3}{5}$ ，若已知有 75 公分露出水面，則竹竿在泥中的長度是多少公分？

(1)90(2)100(3)125(4)150 公分。

- ( 1 )49. 設 $\frac{1}{4} \left\{ \frac{1}{3} \left[ \frac{1}{5} \left( \frac{1}{2} + \square \right) \right] \right\} = 1$ ，則 $\square = ?$

(1)  $59\frac{1}{2}$  (2)  $60\frac{1}{2}$  (3)  $61\frac{1}{2}$  (4)  $62\frac{1}{2}$  。

- ( 2 )50. 姊每分鐘走 80 公尺，妹每分鐘走 55 公尺，現兩人同時同地同方向出發，請問：幾分鐘以後，兩人相距 300 公尺？

(1)15(2)12(3)11(4)10 分。