

勞動部勞動力發展署高屏澎東分署

114 年度第 2 梯次自辦職前訓練招訓甄試試題

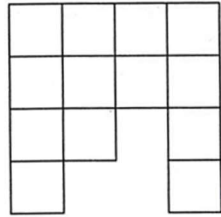
【適用職類：旅遊從業人員、網拍多媒體行銷、冷凍空調】

座位號碼：_____

姓 名：_____

選擇題：100 分每題 2 分，共 50 題單選題。（答錯不倒扣）

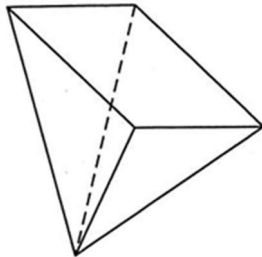
(4) 1.



在左圖中，共有幾個正方形？

(1)13 (2)15 (3)16 (4)17 個正方形。

(2) 2.



在左圖中，共有幾個三角形？

(1)5 (2)4 (3)3 (4)1 個三角形。

(1) 3.



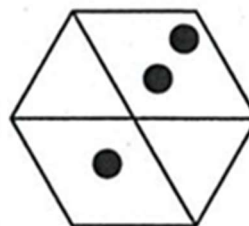

選出與左邊圖形相同的圖形。

(1)

(2)

(3)


(4)



(2)

4.

選出具類比關係的圖形。




(1)

(2)

(3)


(4)



(3)

5.

選出由左圖摺合而成的圖形。

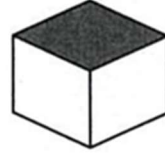
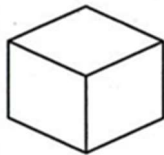


(1)

(2)

(3)

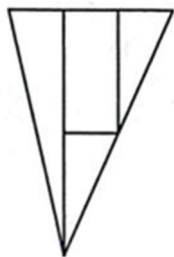
(4)



(3)

6.

找出與左圖上下對稱的圖形。

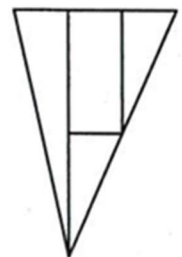


(1)

(2)

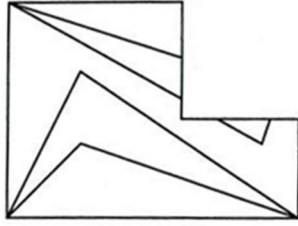
(3)

(4)



(3) 7.

選出與左邊圖形能補合成完整圖形者。



(1)



(2)



(3)

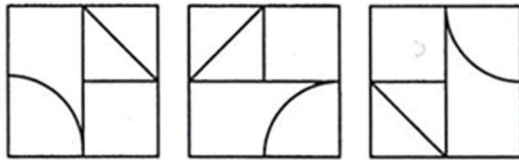


(4)

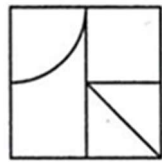


(2) 8.

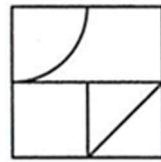
選出具連續關係的圖形。



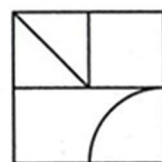
(1)



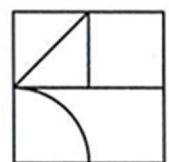
(2)



(3)

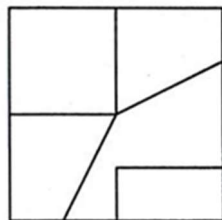


(4)

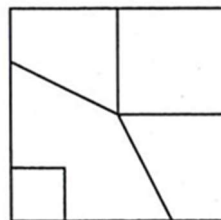


(2) 9. 找出一個不相似的圖形。

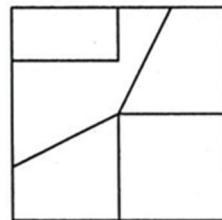
(1)



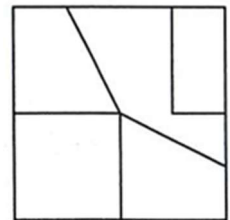
(2)



(3)

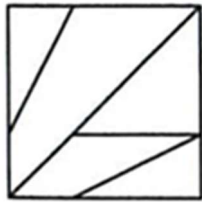


(4)



(4) 10.

找出與左圖左右對稱的圖形。

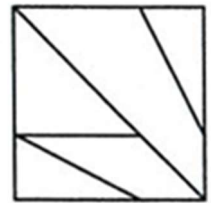
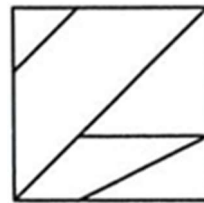
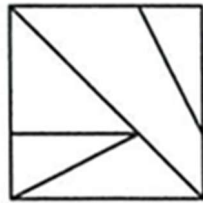
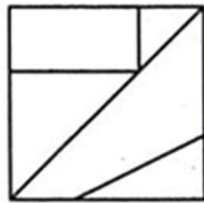


(1)

(2)

(3)

(4)



(2) 11. 下列何句「沒有」錯別字？

(1)時節遞嬗，夏天，菜花躍眼的黃，就像染坊裡所調的色彩 (2)他用生動的筆觸，把鳥類穠纖合度的姿態栩栩如生地畫在紙上 (3)天真瀾縵的小孩們，恣意地在原野上奔馳者 (4)孤雁再也不敢引吭高叫，只是瑟宿地在一旁。

(2) 12. 「雪後尋□、霜前訪□、雨際護□、風外聽□，固野客之間情，實文人之深趣。」此文中□依序填入何物較妥？

(1)梅蘭竹菊 (2)梅菊蘭竹 (3)竹菊梅蘭 (4)菊竹梅蘭。

(3) 13. 以下哪個狀聲詞使用「不當」？

(1)小康的鴻鵠之志語警四座，但在一個晦氣窩囊的環境裡，只能忍受同伴們「嗤嗤」地嘲笑 (2)風恣意地戲弄蘆葦們，不能平啊！蘆葦「窸窣」地抗議風的輕慢 (3)漂泊的日子，一襲青衫，山崖水湄的漂然來去，唯有「淅淅瀝瀝」的激流聲與我共語 (4)蘭花幽立在空谷的絕壁上，接受「瀟瀟」風雨的洗禮，遂有王者之花的美名。

(1) 14. 鉅細□遺，選出正確的字形。

(1)靡 (2)糜 (3)瀰 (4)彌。

- (2) 15. □立不搖，選出正確的字形。
 (1)縊 (2)屹 (3)弈 (4)詣。
- (4) 16. 下列讀音配對，何者正確？
 (1)「稜」角：ㄌㄨㄥˊ (2)竹「篩」：ㄏㄨㄞˊ
 (3)「徜」徉：ㄔㄨㄤˊ (4)「倏」然：ㄕㄨˋ。
- (2) 17. 下列「 」中，何者前後讀音相同？
 (1)「好」人—「好」學
 (2)牌「坊」—街「坊」
 (3)不自「量」力—不可限「量」
 (4)農「會」—「會」計。
- (3) 18. 下列「 」中，何者前後讀音不同？
 (1)不「僅」—「謹」慎 (2)「壁」報—「壁」人
 (3)嬌「媚」—倒「楣」 (4)「陶」器—「淘」氣。
- (1) 19. 下列詞語的讀音，何者正確？
 (1)不禁：ㄅㄨˋ ㄇㄢˋ
 (2)眼眶：ㄧㄢˊ ㄎㄨㄢˋ
 (3)兵馬俑：ㄅㄨㄥˊ ㄇㄚˊ ㄩˇ ㄩˇ ㄩˇ
 (4)傾聽：ㄑㄩㄥˊ ㄊㄩㄥˋ。
- (2) 20. 書法是一項生活藝術的表現，會寫書法也要懂書法的筆勢與工具，下列讀音都是與書法相關的名詞，何者讀音錯誤？
 (1)硯臺：ㄧㄢˊ ㄊㄞˊ (2)拓本：ㄊㄨㄚˋ ㄅㄣˋ
 (3)捺：ㄋㄚˋ (4)挑：ㄊㄧㄠˊ。
- (1) 21. 下列選項中，何者有錯字？
 (1)我喜歡去河濱公園打籃球 (2)我出門一定要彩繪指甲
 (3)我希望在今年有很好的成績 (4)我將再次披上白袍當醫生。

- (2) 22. 下列選項中，何者是「誠惶誠恐」的相反詞？
 (1)誠心誠意 (2)心安理得
 (3)若有所思 (4)戰戰兢兢。
- (1) 23. 「他今年已經換了五個□□」，下列選項中，何者可以填入□□？
 (1)東家 (2)西家 (3)南家 (4)北家。
- (4) 24. 右邊的圖卡是小華的家庭作業，老師要他們認識部首，問號要寫出這四個字的共同部首，應該是哪個部首？
 (1)一部 (2)人部
 (3)八部 (4)大部。
- | | | |
|---|---|---|
| | 失 | |
| 奕 | ？ | 夷 |
| | 奠 | |
- (2) 25. 「人總會去尋找自己喜歡的事物，每個人的看法或觀點不同□並沒有什麼關係，最重要的是□人與人之間□應該有彼此容忍與尊重對方的看法與觀點的雅量。」以上□中請填入適當的標點符號。
 (1)， ； ，
 (2)， — ，
 (3)， ； 。
 (4)， — 。
- (1) 26. 下列選項中對量詞的使用何者正確
 (1)一「匹」布 (2)兩「回」藥
 (3)三「片」瘀傷 (4)四「張」燈。
- (1) 27. 下列「 」中，何者的疊字形容詞較適合？
 (1)你看她「大刺刺」的樣子，真不像淑女 (2)他可是一個「甜蜜蜜」的漢子 (3)小安「怯生生」的跑來，甩了他兩巴掌 (4)她有一雙「水噹噹」的大眼睛。

- (2) 28. 狗雖然是人類最忠心的動物，但是在成語應用上，關於狗的成語多半是負面的意思，下列選項都是與狗有關，哪個選項意思不正確？

(1)雞飛狗跳：形容場面混亂 (2)狗頭軍師：形容有能力、成大事的人 (3)兔死狗烹：比喻事情成功後，曾出過力的人遭遺棄或被殺的命運 (4)白雲蒼狗：比喻世事變化無常。

- (3) 29. 右表是張錯的詩，句子是以擬人法的手法描述，根據句意，很有可能是描述什麼？

(1)鞭子 (2)蝦子 (3)劍
(4)茅。

想當年你鍊我鑄我

播我槌我敲我

把我烏黑的身體

燒成火熱的鮮紅


張錯

- (4) 30. 鳳凰花開又是畢業季節，老師準備在畢業冊上題字，下列選項中，哪個不適合出現作為畢業贈言？

(1)一帆風順 (2)更上層樓
(3)朝乾夕惕 (4)桃李芬芳。

- (2) 31. 兩個同心圓，如右圖，大圓半徑為 10 公分，灰色部分面積為 160.14 平方公分，請問小圓半徑為多少？

(1)6 公分 (2)7 公分 (3)8 公分
(4)9 公分。



- (1) 32. 媽媽買了糖果一百元，共有 200 顆，分給哥哥總數的 $\frac{3}{8}$ ，姐姐拿到總數的 $\frac{3}{10}$ ，小喬拿到總數的 $\frac{3}{12}$ ，請問糖果一顆多少錢？分給哥哥、姐姐和小喬後還剩下幾顆糖果？

(1)糖果一顆 0.5 元，還剩下 15 顆糖果 (2)糖果一顆 2 元，還剩下 20 顆 (3)糖果一顆 0.5 元，還剩下 20 顆 (4)糖果一顆 2 元，還剩下 15 顆。

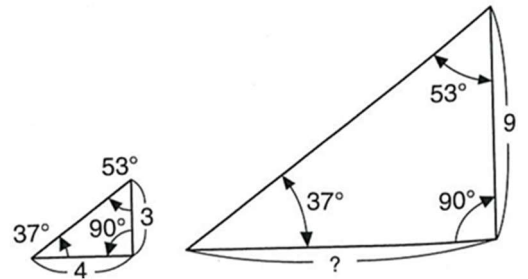
- (1) 33. 下圖中，大小兩個三角形，因為三個角的角度都一樣，所以我們說這兩個三角形相似。三角形相似的特性就是三邊長度成比例！請問大三角形中「？」的長度是多少？另外，請問這兩個三角形面積的比是多少？

(1) ? = 12，面積為比 1 : 9

(2) ? = 12，面積為比 1 : 3

(3) ? = 8，面積為比 1 : 9

(4) ? = 8，面積為比 1 : 3



- (3) 34. 一枚錢幣，投擲出現正反面的機率都一樣，請問連續出現三次都是正面的機率為多少？

(1) $\frac{1}{2}$ (2) $\frac{1}{4}$ (3) $\frac{1}{8}$ (4) $\frac{1}{16}$ 。

- (3) 35. 遊樂場裡的雲霄飛車一次可承載 35 人，小芳排隊等著坐雲霄飛車，小芳排在第 145 人，請問小芳在第幾次可以坐上雲霄飛車？

(1) 3 次 (2) 4 次 (3) 5 次 (4) 6 次。

- (2) 36. 三顆蘋果的價格是四顆橘子的價格減去 15 元，三顆橘子的價格又正好是三顆柳丁價格加 15 元。已知橘子一顆 30 元，媽媽買了 6 顆蘋果，6 顆柳丁，但忘了幾顆橘子，共花費 600 元，請問媽媽買了幾顆橘子？

(1) 7 顆 (2) 8 顆 (3) 9 顆 (4) 10 顆。

- (2) 37. 一長方形的房間面積為 54 平方公尺，而這個房間的長與寬的比為 3 : 2，想鋪設邊長為 0.5 公尺正方形的地磚，去建材行問的結果是：一盒裡總共有地磚 15 片，一盒的價格為 600 元。請問需要購買幾盒的地磚才能將這房間的地面鋪滿，又總共需要多少錢？

(1) 14 盒，8400 元 (2) 15 盒，9000 元

(3) 16 盒，9600 元 (4) 17 盒，10200 元。

- (3) 38. 一長方形的水桶，長為 25 公分，寬為 10 公分，原本水高 10 公分，丟入一個石塊後水高變 12.5 公分，請問石塊面積是多少立方公分？
(1)425 立方公分 (2)525 立方公分
(3)625 立方公分 (4)725 立方公分。
- (3) 39. 用 1000 公克的水，想要調成含鹽為 49% 的鹽水，需要加入多少公克的鹽？
(1)4.9 公克 (2)49 公克 (3)490 公克 (4)4900 公克。
- (4) 40. 某人沿相同的路徑上山、下山共需 10 小時，上山每小時可走 2 公里，下山每小時可走 3 公里，請問山路長多少公里？
(1)6 (2)8 (3)10 (4)12 公里。
- (1) 41. 一個三角柱高 50 公分，底面三角形底為 15 公分，高 12 公分，則此三角柱體積為多少立方公分？
(1)4500 (2)4800 (3)3600 (4)3200 立方公分。
- (4) 42. 在內部邊長為 25 公分的正方體水箱注入水深達 15 公分，並在水箱內放入 1 個長 20 公分，寬 16 公分，高 12 公分的長方體，則水會溢出嗎？如果會溢出，則溢出多少立方公分？如果不會溢出，則水位高約多少公分？
(1)會，溢出 3840 立方公分
(2)會，溢出 2410 立方公分
(3)不會，水位高約 23 公分
(4)不會，水位高約 21 公分。
- (2) 43. 醫院裡一瓶點滴的容量是 500c.c.，小雅從早上 8:00 開始注射點滴，10 分鐘後發現點滴剩 475 c.c.，請問小雅的點滴將在何時注射完？
(1)12:10 (2)11:20 (3)10:30 (4)9:40。

- (2) 44. 有一長方體鐵塊，長、寬、高分別為 20 公分、10 公分、8 公分，若每立方公分的鐵塊重 7.9 公克，求此鐵塊的重量為幾公斤？
(1)10.32 (2)12.64 (3)14.86 (4)16.16 公斤。
- (2) 45. 一隻螞蟻從數線上一點 A ，先向右移 6 個單位長，再向左移 7 個單位長，再向右移 10 個單位長，最後到達表示 15 的 B 點，則 A 點表示？
(1)2 (2)6 (3)8 (4)16。
- (3) 46. 有一個水槽的水管每分鐘注水 12.25 公升，1 小時 40 分可注水多少公升？
(1)1450 (2)1425 (3)1225 (4)1600 公升。
- (2) 47. 珮珮走一步的步長是 0.65 公尺，小瑜走一步的步長是 0.55 公尺，兩人同時、同地、反向出發。各走 25 步，兩人相距多遠？
(1)20 (2)30 (3)40 (4)50 公尺。
- (2) 48. 祥利公司生產 35 箱文件夾，每箱裝了 12 個，扣掉 20 個破損的文件夾，重新分裝成每箱 20 個，可裝成幾箱？
(1)10 (2)20 (3)30 (4)40 箱。
- (1) 49. 喜滿超市芒果每公斤賣 55 元，康樂市場每臺斤賣 36 元，哪一個市場所賣的芒果較便宜？
(1)喜滿超市 (2)康樂市場 (3)一樣 (4)不能比較。
- (3) 50. 曉萍將所有零用錢的三分之一捐給弱勢團體，又將剩下的四分之三存入銀行，若曉萍最後剩下 200 元，則她原有多少錢？
(1)4000 (2)2000 (3)1200 (4)1000 元。