

# 111-2 勞動力發展署雲嘉南分署職前訓練 建築空間繪圖班 甄試試卷

壹、基本資料：(以下請據實填寫)

(參考答案)

※個人資料請詳實填答，如因故意填答不實而錄取者，本分署保留退訓之權力。

姓名：\_\_\_\_\_ 年齡：\_\_\_\_\_ 歲 性別： 男 女 婚姻：未婚 已婚

身分證字號：\_\_\_\_\_

聯絡電話：\_\_\_\_\_ 手機：\_\_\_\_\_

居住地：\_\_\_\_\_ 縣、市 \_\_\_\_\_ 鄉、鎮、市、區 \_\_\_\_\_

最高學歷：\_\_\_\_\_ 學校 \_\_\_\_\_ 科系 畢業 肄業 在學

參訓身分：

一般身分 屆退官兵

特定對象失業者：(請勾選)

非自願性離職勞工 獨力負擔家計者 中高齡 身心障礙者(障別：\_\_\_\_\_ 等級：\_\_\_\_\_)

原住民 低收或中低收入有工作能力者 長期失業 二度就業婦女

家暴及性侵被害人 更生保護人 新住民 15歲以上未滿18歲未就學未就業少年

曾參加過職訓課程：

有，\_\_\_\_\_ 次 無

近期工作經歷：1. \_\_\_\_\_、2. \_\_\_\_\_、3. \_\_\_\_\_

已具有證照：\_\_\_\_\_

已具有專長：\_\_\_\_\_

分署各班環境區域需打掃：願意配合 不願意配合

能配合課程作業繳交：願意配合 不願意配合

結訓後能積極就業或創業：是 可能會休息一陣子再就業 不一定

## ※ 注意事項 ※

1. 個人資料請詳實填答，如因故意填答不實而錄取者，本分署保留強制退訓之權力。
2. 您可以在本分署得到公費訓練及輔導就業的待遇。公費訓練指您毋須負擔受訓學費，但仍須負擔您個人的生活、飲食、交通、書籍、文具等相關費用。輔導就業為輔助您尋找就業機會，不是保證就業。
3. 受訓期間學員應按時上下課、負責環境清掃及導師指派工作等義務。
4. 如有疑問請當場詢問清楚，確認您的權利義務及參訓意願無誤後再繼續作答，以保障您的權益及應盡之義務。謝謝您的配合。



姓名：\_\_\_\_\_

貳、筆試試題：(滿分 100 分，佔總成績 50%)


一、選擇題：(每題 4 分，共 100 分)

- (B) 1. 邊長分別為 45 公分和 120 公分之長方形木板，要拼出最小的正方形，則此正方形共用掉多少塊木板？(A) 12 塊 (B) 24 塊 (C) 36 塊 (D) 40 塊。
- (B) 2. 4、5、8、13、\_\_\_\_、29。(A) 16 (B) 19 (C) 20 (D) 23。
- (C) 3. 「探花」是指：(A) 第一名 (B) 第二名 (C) 第三名 (D) 第四名。
- (D) 4. 一單位中有校官 7 人、尉官 12 人、士官 21 人及士兵 80 人，問若 12000 人中，有校官幾人？  
(A) 720 人 (B) 360 人 (C) 1840 人 (D) 700 人。
- (A) 5. 甲：乙 = 1：5，那麼甲是乙的幾%？  
(A) 20% (B) 40% (C) 50% (D) 60%。
- (A) 6.  $(1413 + ?) \div 4 = 615$ 。(A) 1047 (B) 1053 (C) 1063 (D) 1083。
- (B) 7. 下列何者最為省電與環保？  
(A) 省電燈泡 (B) LED 燈 (C) 日光燈 (D) T5 燈管。
- (A) 8. 甲比乙多 39 元，乙是丙的 3 倍少 4 元，已知丙有 12 元，問甲有多少元？  
(A) 71 元 (B) 39 元 (C) 42 元 (D) 40 元。
- (B) 9. 依法令規定，除階梯式積堆情形外，作業地點高差多少公尺以上時應有安全上下之設備？(A) 1.0 (B) 1.5 (C) 2.0 (D) 2.5。
- (C) 10. 下列選項中，請選出完全正確之成語？  
(A) 鱗鱗情深 (B) 法網輝輝 (C) 雕蟲小技 (D) 妙手回春。
- (D) 11. 已知今年淑美年齡與老公俊毅的年齡比為 5：6，且淑美比老公俊毅小 4 歲，則請問 2 人明年的年齡和為幾歲？  
(A) 40 歲 (B) 42 歲 (C) 44 歲 (D) 46 歲。
- (C) 12. 某房屋面積 50 坪約等於幾平方公尺？  
(A) 125 平方公尺 (B) 150 平方公尺 (C) 165 平方公尺 (D) 180 平方公尺。
- (B) 13. \_\_\_\_\_ 之於步履蹣跚，好比鏗而不捨之於\_\_\_\_\_。  
(A) 焚膏繼晷、消極頹廢 (B) 健步如飛、半途而廢  
(C) 漸入佳境、心不在焉 (D) 尸位素餐、任勞任怨。

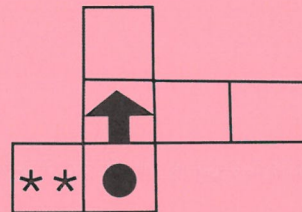
背後還有試題







- (C) 14. 某數的 5 分之 3 為 135，請問該數的 2 倍是多少？  
 (A) 325 (B) 225 (C) 450 (D) 550。
- (A) 15. 小豪總共有棒棒糖 40 支，小芬只有小豪的  $\frac{3}{4}$ ，請問小芬有多少顆糖果？  
 (A) 30 顆 (B) 20 顆 (C) 10 顆 (D) 5 顆。
- (A) 16. 一個凸四邊形，已知其二角，一為 95 度，一為 85 度，另外二角僅知大角的度數為小角的 3 倍，求大角為多少度？  
 (A) 135 度 (B) 122 度 (C) 120 度 (D) 145 度。
- (B) 17. 結構平面圖中符號 C，表示為 (A) 梁 (B) 柱 (C) 樓版 (D) 基礎。
- (B) 18. 某軍事地圖，一寸代表  $\frac{3}{8}$  哩，問實際上 6 哩，在圖上為幾寸？  
 (A) 12 寸 (B) 16 寸 (C) 18 寸 (D) 20 寸。

- (D) 19.  旁邊有一堆方塊，請問一共由幾個小方塊組成？  
 (A) 12 (B) 13 (C) 14 (D) 15。

- (B) 20. 右圖所構成之立體造形下列何者正確？



- (A)  (B)  (C)  (D) 。

背後還有試題



參、口試紙筆作答：(滿分 100 分、佔總成績 50%)

1. 請問你是否持有甄試加分特定對象之證明文件？(如原住民、低收入戶、身心障礙者、更生保護協會受刑人…) (不配分)
2. 試述你曾參訓的職業訓練課程(單位)，過去是否曾離退訓，原因？(20 分)
3. 目前的應試職缺是否與你以前工作/所學相關？以及為何選擇與所學不相關之職缺？(25 分)
4. 試述未來所從事工作與本次參訓之關聯性。(30 分)
5. 試述希望於本訓練課程中學到甚麼？希望對個人職涯有何幫助？(25 分)

※面談時，請在 2 分鐘內進行個人自我介紹、學習意願、就業規劃…等說明，爭取甄試老師的肯定！  
謝謝您報名參訓，祝您順利！