

112-1 勞動力發展署雲嘉南分署職前訓練 建築空間繪圖班 甄試試卷

壹、基本資料：(以下請據實填寫)

(參考答案)

※個人資料請詳實填答，如因故意填答不實而錄取者，本分署保留退訓之權力。

姓名：_____ 年齡：_____ 歲 性別： 男 女 婚姻：未婚 已婚

身分證字號：_____

聯絡電話：_____ 手機：_____

居住地：_____ 縣、市 _____ 鄉、鎮、市、區 _____

最高學歷：_____ 學校 _____ 科系 畢業 肄業 在學

參訓身分：

一般身分 屆退官兵

特定對象失業者：(請勾選)

非自願性離職勞工 獨力負擔家計者 中高齡 身心障礙者 (障別：_____ 等級：_____)

原住民 低收或中低收入有工作能力者 長期失業 二度就業婦女

家暴及性侵被害人 更生保護人 新住民 15歲以上未滿18歲未就學未就業少年

曾參加過職訓課程：

有，_____ 次 無

近期工作經歷：1. _____、2. _____、3. _____

已具有證照：_____

已具有專長：_____

分署各班環境區域需打掃：願意配合 不願意配合

能配合課程作業繳交：願意配合 不願意配合

結訓後希望就業或創業：是 先休息一陣子再就業

※ 注意事項 ※

1. 個人資料請詳實填答，如因故意填答不實而錄取者，本分署保留強制退訓之權力。
2. 您可以在本分署得到公費訓練及輔導就業的待遇。公費訓練指您毋須負擔受訓學費，但仍須負擔您個人的生活、飲食、交通、書籍、文具等相關費用。輔導就業為輔助您尋找就業機會，不是保證就業。
3. 受訓期間學員應按時上下課、負責環境清掃及導師指派工作等義務。
4. 如有疑問請當場詢問清楚，確認您的權利義務及參訓意願無誤後再繼續作答，以保障您的權益及應盡之義務。謝謝您的配合。

貳、筆試試題：(滿分 100 分，佔總成績 50%)

一、選擇題：(每題 4 分，共 100 分)

- (A) 1. 一正方形邊長減少 20%，則其面積減少多少？
(A) 36% (B) 37% (C) 38% (D) 39%。
- (A) 2. 一物 75 折出售，甲花費 69 元買此物，問原價為多少？
(A) 92 (B) 93 (C) 94 (D) 95。
- (D) 3. 執迷不悟：痛改前非＝理屈詞窮：_____。
(A) 口乾舌盡 (B) 有理不明 (C) 心有不甘 (D) 理直氣壯。
- (D) 4. 阿村每分鐘走 55 公尺，阿萍每分鐘走 50 公尺，現在阿村在阿萍前面 15 公尺，幾分後兩人相距 45 公尺？(A) 1 分 (B) 3 分 (C) 4 分 (D) 6 分。
- (A) 5. 朝氣勃勃：雄心勃勃＝堆積如山：_____。
(A) 號可勝數 (B) 三五成群 (C) 連城之壁 (D) 堆金積玉。
- (A) 6. 3、2、4、3、5、___、___。(A) 4、6 (B) 3、7 (C) 5、2 (D) 4、4。
- (B) 7. 甲部隊人數有 1200 人，乙部隊人數為三分之二，丙部隊人數為三分之一，則三部隊共有多少人？(A) 2000 人 (B) 2400 人 (C) 2600 人 (D) 2800 人。
- (A) 8. 一物 75 折出售，甲花費 69 元買此物，請問原價為多少？
(A) 92 (B) 93 (C) 94 (D) 95。
- (D) 9. 牧場內有養牛、羊、豬各若干隻，已知三者數量的關係為牛為羊的 2 倍少 40 隻，豬為牛的一半多 10 隻，三者總和為 530 隻，則請問豬羊的比例為多少？
(A) 1：2 (B) 2：3 (C) 5：7 (D) 以上皆非。
- (C) 10. 一容器內之水第一天蒸發 $\frac{1}{3}$ ，第二天蒸發了其餘的 $\frac{3}{4}$ ，則餘下原來幾分之幾？
(A) $\frac{5}{12}$ (B) $\frac{7}{12}$ (C) $\frac{1}{6}$ (D) $\frac{1}{2}$ 。
- (D) 11. 2 人 2 天做成 2 個碉堡，那麼 6 人 4 天應該做幾個碉堡？
(A) 4 個 (B) 6 個 (C) 8 個 (D) 12 個。
- (C) 12. 下列何項成語，用來指『以迎合眾人的言語行動，來博取他人注意』的意思？
(A) 聞雞起舞 (B) 懸壺濟世 (C) 譁眾取寵 (D) 星羅棋布。
- (D) 13. 一個糖果有一個糖果紙，一個糖果 1 元，現在商店在做促銷，3 個糖果紙可以換一個糖果，請問 15 元最多可以吃幾個糖果？
(A) 15 (B) 20 (C) 21 (D) 22。
- (C) 14. 將一繩子剪去 10 公尺後，剩下的部分再均分成 9 段，每一段恰好為 0.3 公尺，則請問此繩子原長為多少公尺？
(A) 10.7 公尺 (B) 11.7 公尺 (C) 12.7 公尺 (D) 13.7 公尺。

背後還有試題

(C) 15. 『學富五車』相似詞為何？

(A) 家財萬貫 (B) 螳臂擋車 (C) 學識淵博 (D) 錦衣玉食。

(B) 16. 小鵬在計算數學題： $450 \div (9 \times 5)$ 時，誤寫成 $450 \div 9 \times 5$ ，請問結果誤差多少？

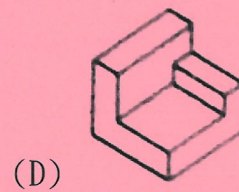
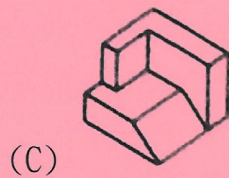
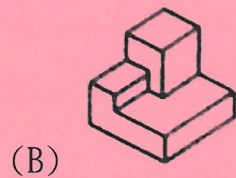
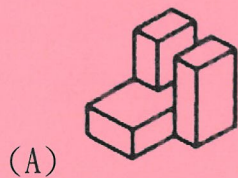
(A) 250 (B) 240 (C) 10 (D) 20。

(B) 17. _____之於喜悅，好像失敗之於_____。

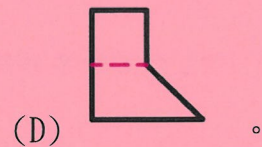
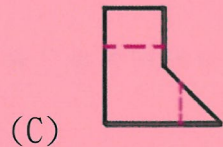
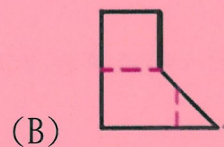

(A) 成功、雀躍 (B) 成功、沮喪 (C) 沮喪、錯愕 (D) 收穫、播種。

(B) 18. 有一個二位數，個位與十位數合是 15，將個位與十位數字互換後，得新數比原數大 9，請問原數是多少？(A) 87 (B) 78 (C) 96 (D) 69。

(A) 19. 下列三視圖，找出正確之立體圖為何？



(B) 20. 右圖所構成之立體造形下列何者正確？



參、口試紙筆作答：(滿分 100 分、佔總成績 50%)

1. 請問你是否持有甄試加分特定對象之證明文件？(如原住民、低收入戶、身心障礙者、更生保護協會受刑人…) (不配分)
2. 試述你曾參訓的職業訓練課程(單位)，過去是否曾離退訓，原因？(20 分)
3. 目前的應試職缺是否與你以前工作/所學相關？以及為何選擇與所學不相關之職缺？(25 分)
4. 試述未來所從事工作與本次參訓之關聯性。(30 分)
5. 試述希望於本訓練課程中學到甚麼？希望對個人職涯有何幫助？(25 分)

※面談時，請在 2 分鐘內進行個人自我介紹、學習意願、就業規劃…等說明，爭取甄試老師的肯定！
謝謝您報名參訓，祝您順利！